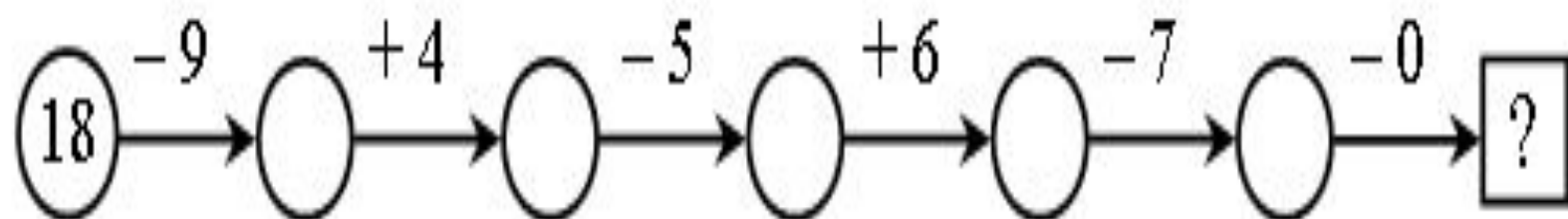
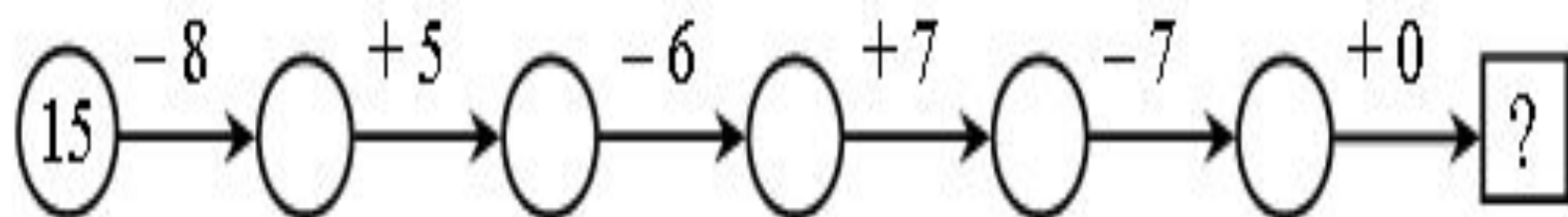
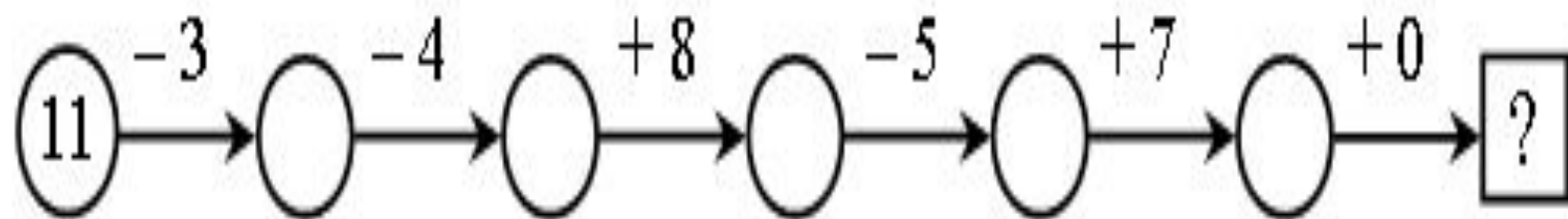


Назовите «лишнее» число в каждом ряду:

- а) 90, 30, 40, 51, 60;
- б) 88, 64, 55, 11, 77, 33;
- в) 47, 27, 87, 74, 97, 17.





Назовите числа по порядку:

- а) от 20 до 30;
- б) от 46 до 57;
- в) от 75 до 84.



- На полке 70 журналов и 40 газет.
- **На сколько** журналов больше, чем газет?



- На полке 70 журналов и 40 газет.
- **На сколько** журналов меньше, чем газет?



- В поезде 35 женщин и 30 мужчин. **На сколько** женщин больше, чем мужчин?



- На клумбе росло 5 тюльпанов и 3 розы. Сколько тюльпанов росло на клумбе?



- На одной тарелке 3 огурца, а на другой 9.
Сколько помидоров на двух тарелках?



Назовите фигуры:

