



# Устный счёт

4 класс





# Продолжи ряд чисел

29 780, 28 780, 27 780, 26.780 25.780 24.780

62 650, 63 550, 64 450, 65.350 66 250 67.150





# Исправь ошибки

1 650 см = ~~16 м 650 см~~

4 ч 15 мин = ~~255 мин~~

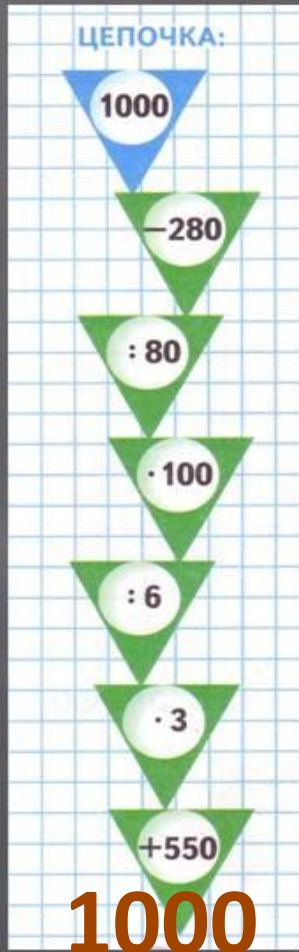
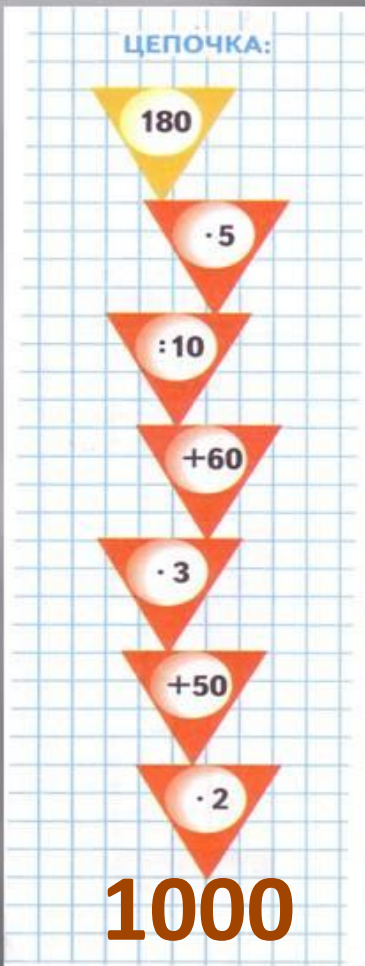



7 дм 5 см = ~~75 см~~

3 т = ~~3000 кг~~



# Устный счет





Выберите для каждого процента из верхней строки соответствующую ему дробь в нижней.

10%	50%	30%	75%	90%	25%
<del>1</del>	<del>9</del>	<del>1</del>	<del>1</del>	<del>3</del>	<del>3</del>
<hr/>	<hr/>	<hr/>	<hr/>	<hr/>	<hr/>
2	10	10	4	10	4

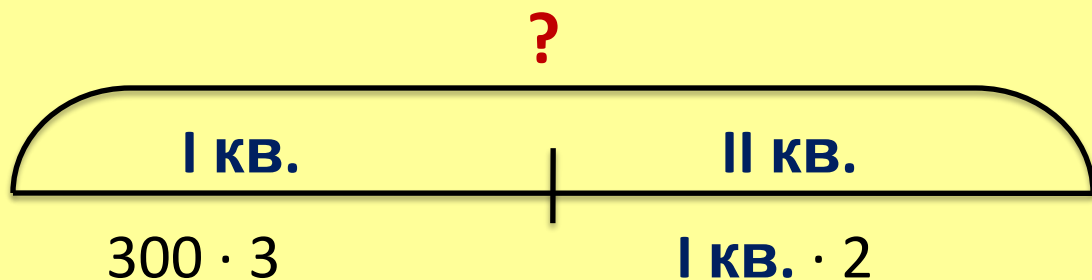
Diagram showing connections between percentages and fractions with blue arrows:

- 10% connects to 1/2
- 50% connects to 1/2
- 30% connects to 3/10
- 75% connects to 3/4
- 90% connects to 9/10
- 25% connects to 1/4



# Решите задачу

За I квартал года строители сдали **3 дома**, по **300 квартир** в каждом доме. Во II квартале им нужно сдать **в 2 раза больше**, чем сдано в I квартале. **Сколько всего** квартир сдадут строители за два квартала этого года.



- 1)  $300 \cdot 3 = 900$  (кв.) – в I квартале
- 2)  $900 \cdot 2 = 1\,800$  (кв.) – во II квартале
- 3)  $900 + 1\,800 = 2\,700$  (кв.) – всего



Ответ: **всего сдадут 2 700 квартир.**

# МОЛОДЦЫ

