


Устный счёт

4 класс

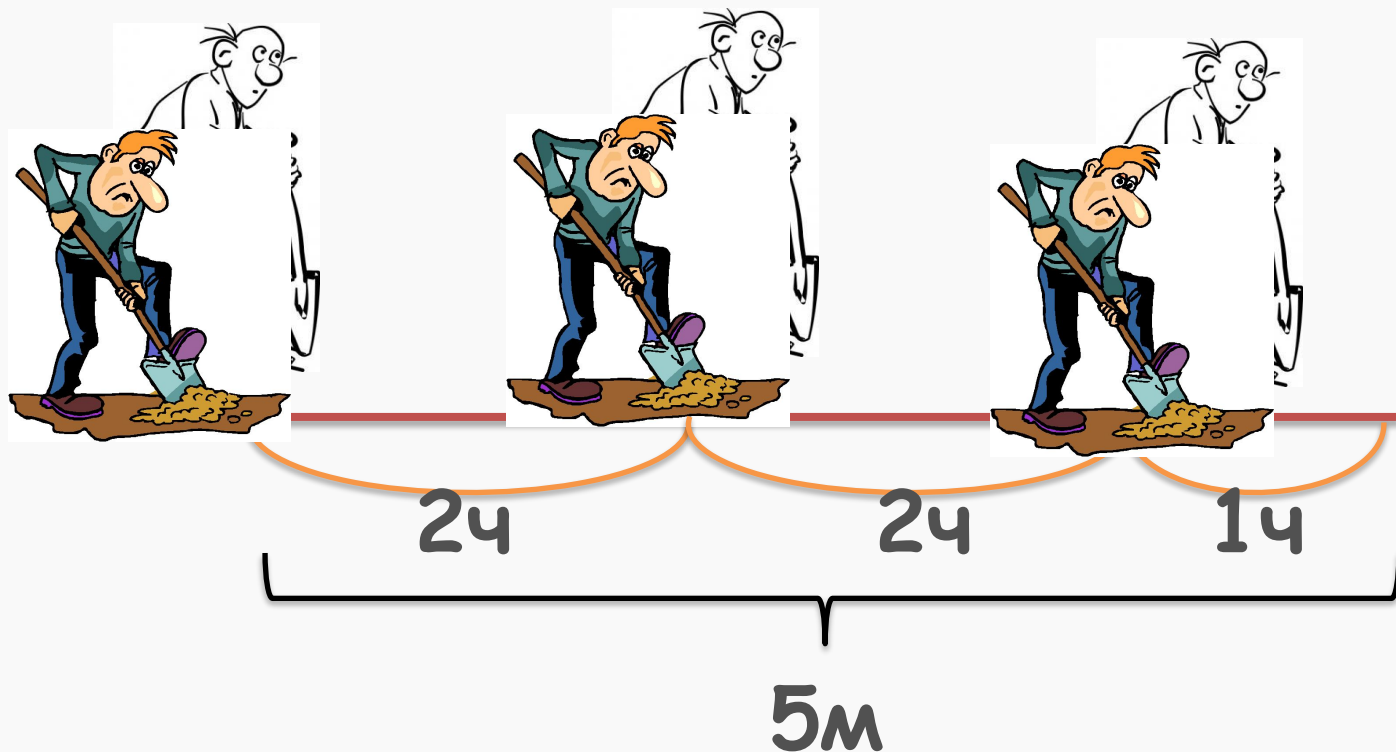
Решите задачи:

Белый медведь проплыл 200 км со скоростью 50 км/ч. Сколько часов плыл белый медведь?



Занимательные задачи

Два землекопа за 2 часа выкапывают 2 м канавы. Сколько землекопов за 5 часов выкопают 5 м канавы?



Проверь себя!

В записи числа 2570213 в разряде
десятков тысяч стоит цифра 7

Класс тысяч			Класс единиц		
Сотни тысяч	Десятки тысяч	Единицы тысяч	Сотни	Десятки	Единицы

Арифметический диктант. Запишите ответы.

1. Уменьшите число 48000 в 800 раз. **60**
2. Один из множителей 16, произведение 960.
Чему равен другой множитель? **60**
3. Запишите наименьшее пятизначное число. **10000**
4. Найдите разность чисел 99000 и 88000. **11000**
5. Найдите четвертую часть от числа 960. **240**
6. Найдите три четверти от числа 1000. **750**
7. 6 ц 5 кг = **605** кг

11 февраля

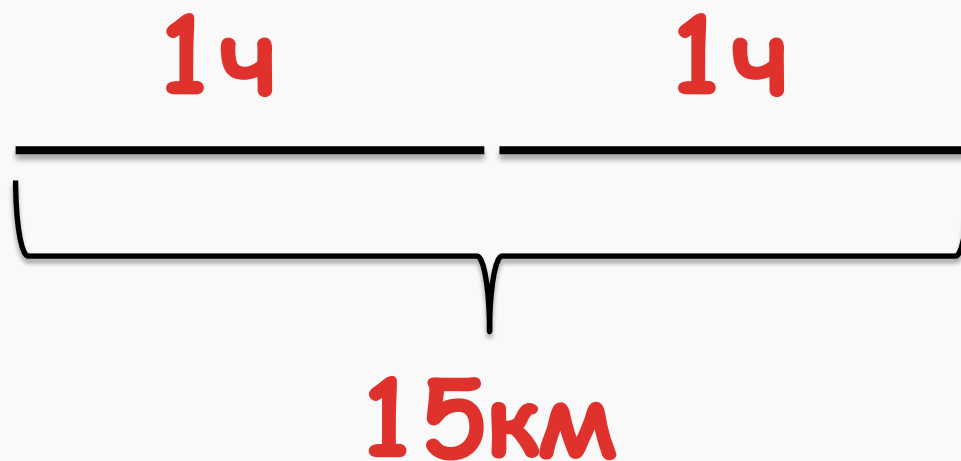

Устный счет



В записи числа 75480213 в разряде десятков тысяч стоит цифра ____

Даны числа 0, 1, 2, 3, 4, 5, 6, 7, 8, 9.
Что больше, их сумма или их произведение?

Велосипедист проехал за 2 часа 15 км.
Какое расстояние он проедет за 4 часа?



Сделайте схематический чертёж. Решите задачу.

1. Ширина двора 8 метров. Это в 2 раза меньше его длины. Чему равна площадь двора?

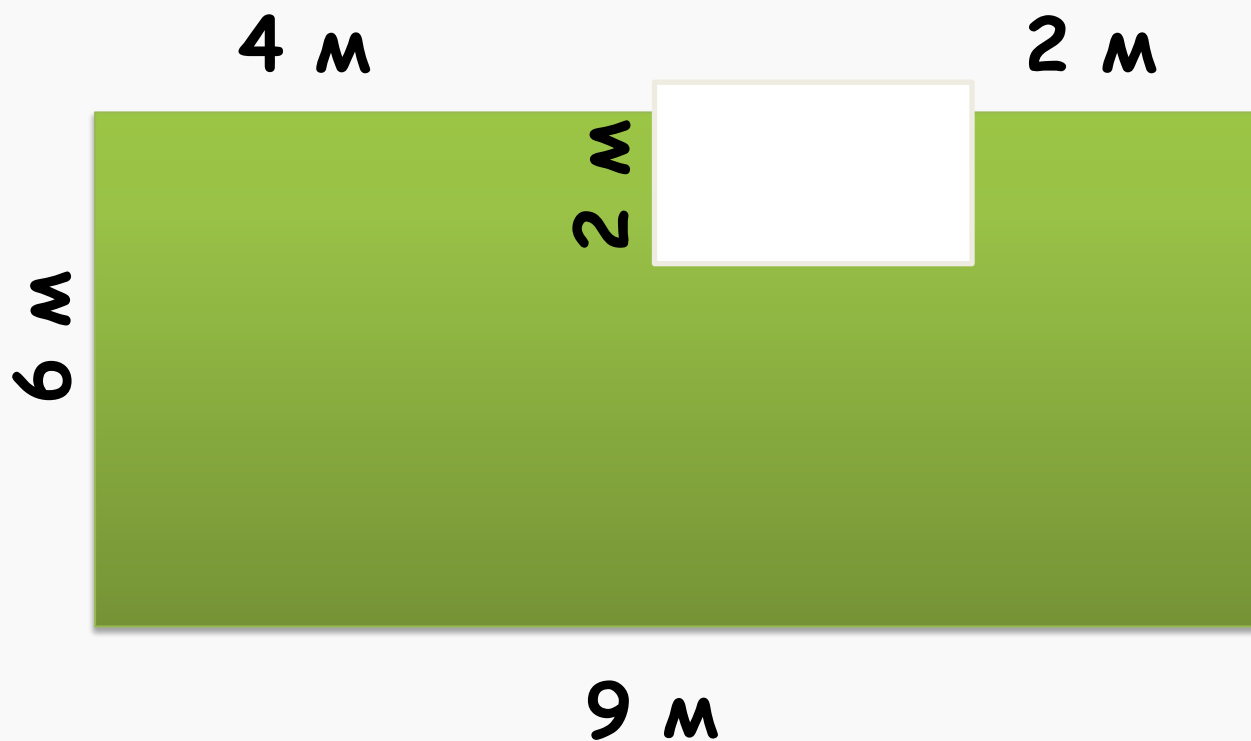
128 м²

(8 · 2) м

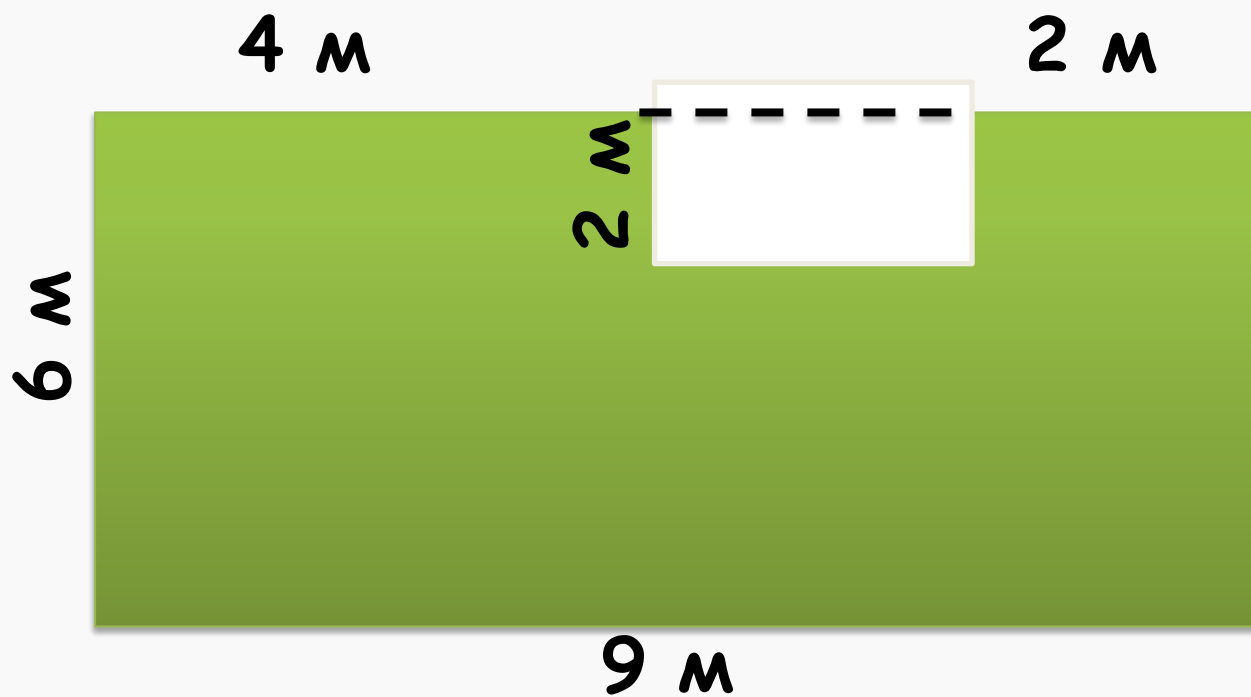
8 м

$$S = 8 \cdot (8 \cdot 2) = 128 \text{ кв.м}$$

Составь выражение для нахождения площади фигуры



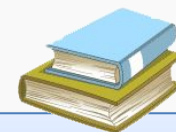


Сначала разбей фигуру на
прямоугольники



$$S = 6 \cdot 9 - 2 \cdot (9 - 4 - 2) = 54 - 6 = 48 \text{ кв.м}$$

12 февраля

Устный счет



В записи числа 75480213 в разряде сотен тысяч стоит цифра

Сколько рейсов надо сделать маршрутному такси вместимостью 14 пассажиров, чтобы перевезти 210 человек?

$$210 : 14 = 210 : (7 \cdot 2) =$$

$$= 210 : 7 : 2 = 30 : 2 = 15 \text{ (Р.)}$$



Расположите в порядке убывания.

- 1) 2дм 7см = 270 мм
- 2) 72см = 720 мм
- 3) 200см = 2000мм
- 4) 27дм = 2700мм
- 5) 272мм = 272мм

4), 3), 2), 5), 1)



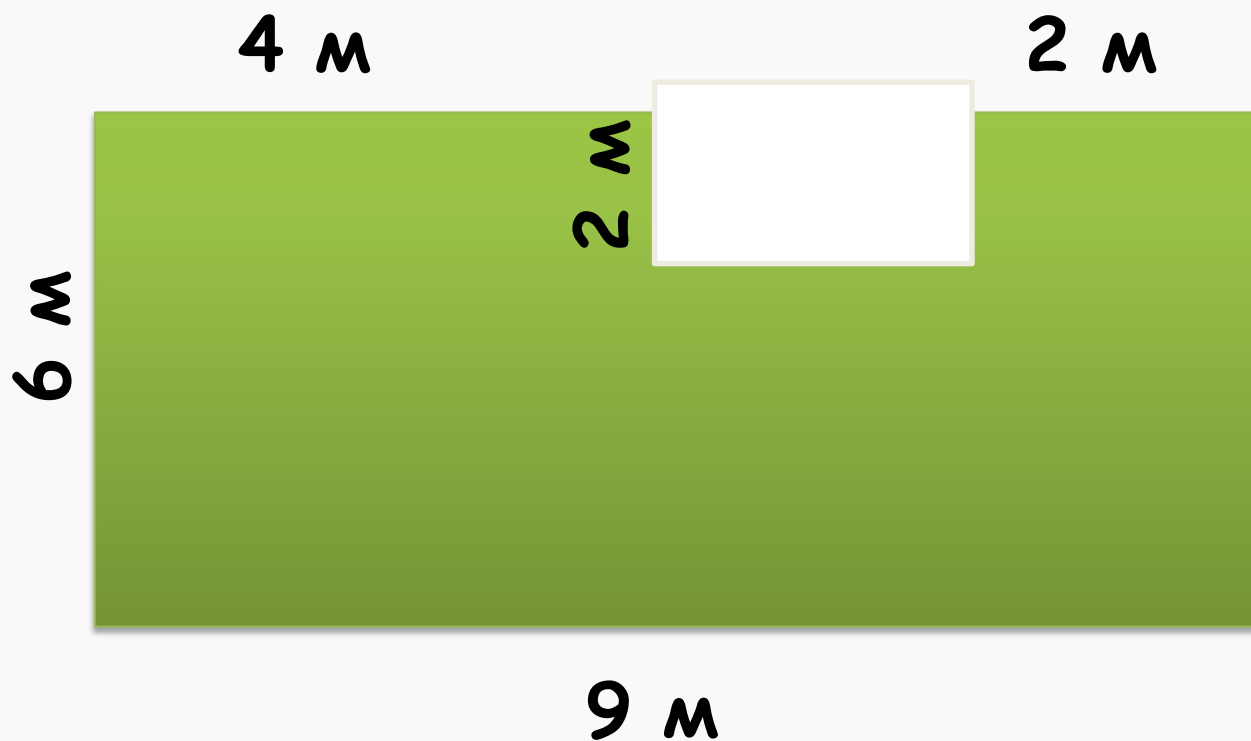
Магический квадрат

	20	70
80	40	0
	60	50

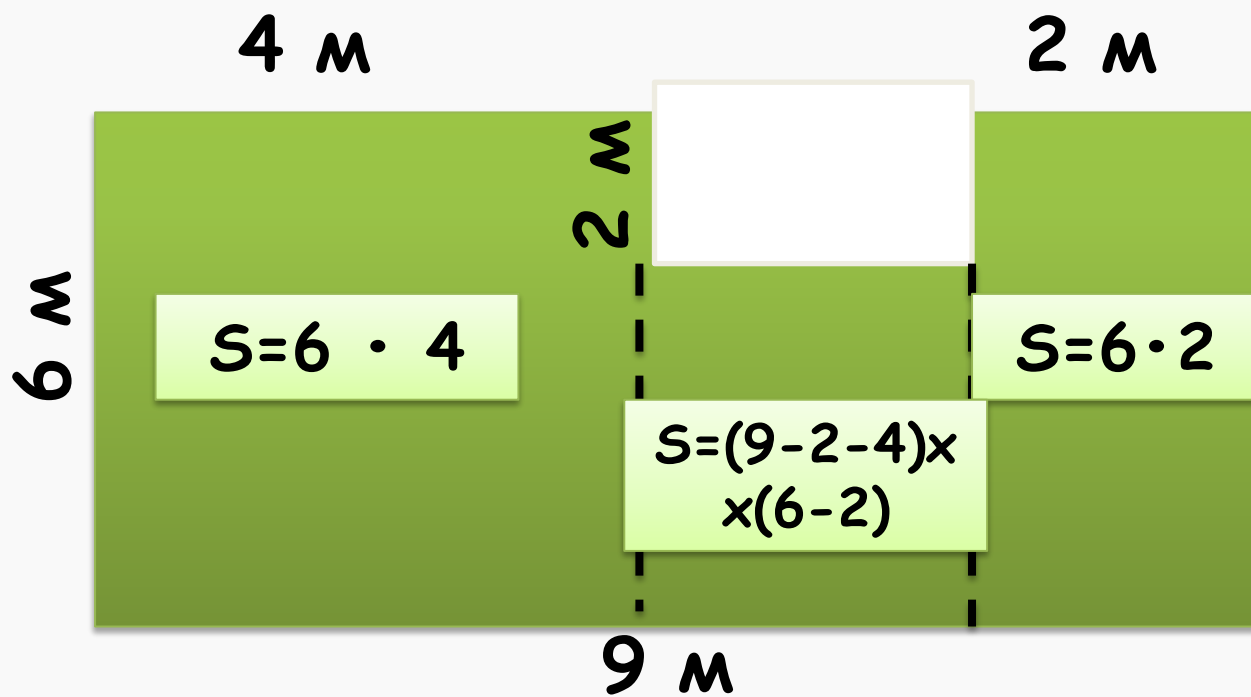
Сумма равна 120

10	20	30	40	50	60	70
----	----	----	----	----	----	----

Составь выражение для нахождения площади фигуры



Сначала разбей фигуру на прямоугольники



$$S = 6 \cdot 4 + 2 \cdot 6 + (9 - 4 - 2) \cdot (6 - 2) = \\ = 24 + 12 + 12 = 48 \text{ кв.м}$$

18 февраля

Устный счет



В записи числа 98460213 в разряде сотен стоит цифра 2

Частное 430800 : 48 содержит 4 цифр

Реши

$$8 \text{ ц } 5 \text{ кг} = \dots \text{ кг}$$

$$200000 \text{ кв. см} = \dots \text{ кв. м}$$

$$240 \text{ мин} = \dots \text{ ч}$$

$$36047 \text{ кг} = \dots \text{ т } \dots \text{ кг}$$

$$120 \text{ мм} = \dots \text{ см}$$

$$120 \text{ кв. мм} = \dots \text{ кв. см } \dots \text{ кв. мм}$$

$$120 \text{ см} = \dots \text{ дм } \dots \text{ см}$$

$$546 \text{ ц} = \dots \text{ т } \dots \text{ ц}$$



Проверь

$$8 \text{ ц } 5 \text{ кг} = 805 \text{ кг}$$

$$200000 \text{ кв. см} = 20 \text{ кв. м}$$

$$240 \text{ мин} = 6 \text{ ч}$$

$$36047 \text{ кг} = 36 \text{ т } 047 \text{ кг}$$

$$120 \text{ мм} = 12 \text{ см}$$

$$120 \text{ кв. мм} = 1 \text{ кв. см } 20 \text{ кв. мм}$$

$$120 \text{ см} = 12 \text{ дм}$$

$$546 \text{ ц} = 54 \text{ т } 6 \text{ ц}$$



Составь задачу по таблице и реши её



	V	t	S
Самолёт	? км/ч	4 ч	2400 км
Катер	? км/ч	6 ч	240 км

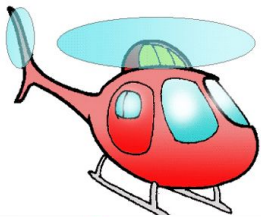
Handwritten notes: A curved arrow labeled V points from the airplane row to the boat row. A horizontal arrow labeled "в ? раз" points from the airplane row to the boat row.

- 1) С какой скоростью летел самолёт?
- 2) С какой скоростью шёл катер?
- 3) Во сколько раз скорость самолёта больше скорости катера?

$$(2400 : 4) : (240 : 6) = 15 \text{ раз}$$

?

Составь задачу по таблице и реши её



	V	t	S
Вертолёт	? км/ч	4 ч	1200 км
эварный езд	? км/ч	9 ч	540 км

$\left. \begin{array}{l} \curvearrowleft \\ \curvearrowright \end{array} \right\} \text{ в } ? \text{ раз } \rightarrow$

- 1) С какой скоростью летел вертолет?
- 2) С какой скоростью шёл поезд?
- 3) Во сколько раз скорость вертолётта больше скорости поезда?

$$(1200 : 4) : (540 : 9) = 5 \text{ раз}$$

21 февраля


Устный счет

За 4 одинаковых блокнота заплатили 64 рубля.
Сколько рублей стоят 9 таких блокнотов?



$$64 : 4 \cdot 9 = 144 \text{ (руб.)}$$





На каком рисунке
заштрихована одна
восьмая часть квадрата?

