

$$300 + _ = 900$$

$$400 + 9 = _$$

$$880 - 80 = _$$

$$3 * 2 = _$$

$$30 * 2 = _$$

$$300 * 2 = _$$

$$_ + 50 = 200$$

$$904 - 900 = _$$

$$409 - 9 = _$$

- Как называются неизвестные компоненты?



Найди закономерности:

107, 108, 110, 113, ...

60, 65, 55, 60, ...




Вставь пропущенные знаки:

$$15 \dots 6 > 17 \dots 7$$

$$55 \dots 6 = 44 \dots 5$$

$$66 \dots 14 < 100 \dots 19$$

$$56 \dots 13 < 50 \dots 18$$



Реши примеры в столбик:

$$695+286$$

$$546+379$$

$$987-598$$

$$836-638$$



Укажи правильную запись
числа


триста три:

а) 33

б) 330

в) 303

г) 333




Укажи правильную запись
числа

491 в виде разрядных слагаемых:

а) $40+90+1$ б) $400+900+1$

в) $400+90+1$ г) $400+91$



На сколько 265 меньше
458?

а) на 183 **б) на 193**

в) на 203 **г) на 173**

