

# УСТНЫЙ счёт 1 класс





Ребята, помогите  
мне сосчитать  
зайцев.



1,



2,



3,



4,



5



6,

7,

8,

9,

10

1 ряд  
Ребята,  
сосчитайте  
от 2 до 10.

2 ряд  
Ребята,  
сосчитайте  
От 10 до 4.

3 ряд  
Ребята,  
сосчитайте  
от 9 до 3



Будьте  
внимательными и  
найдите ошибки!



1 2 3 5 8 9 10

1 3 4 6 8 10

1 2 5 8 10

А сегодня  
наш урок мы  
начнём с  
повторения  
пройденного  
материала.

С какими  
математическими  
терминами мы  
познакомились?

Какие  
цифры  
вы,  
научились  
писать?



FRAME BABY

2 \_ 4

3 \_ 1

4 \_ 5

4 \_ 2


1 \_ 4

5 \_ 3

Помоги,  
Леопольд!

Ребята,  
сравните  
числа.





Помогите нам  
решить примеры!

$$2 + 1 = \quad 5 - 1 =$$

$$4 - 2 = \quad 3 - 1 =$$

$$1 + 1 =$$

FRAME BABY



2

1

1

3

2

1

4


2


2



FRAME BABY

Каких  
ЛИСТИКОВ  
мне не  
хватает?





Вы молодцы!  
Желаю  
удачи вам!