


УСТНЫЙ


СЧЁТ





Вычисли.

Проверь себя, нажав на

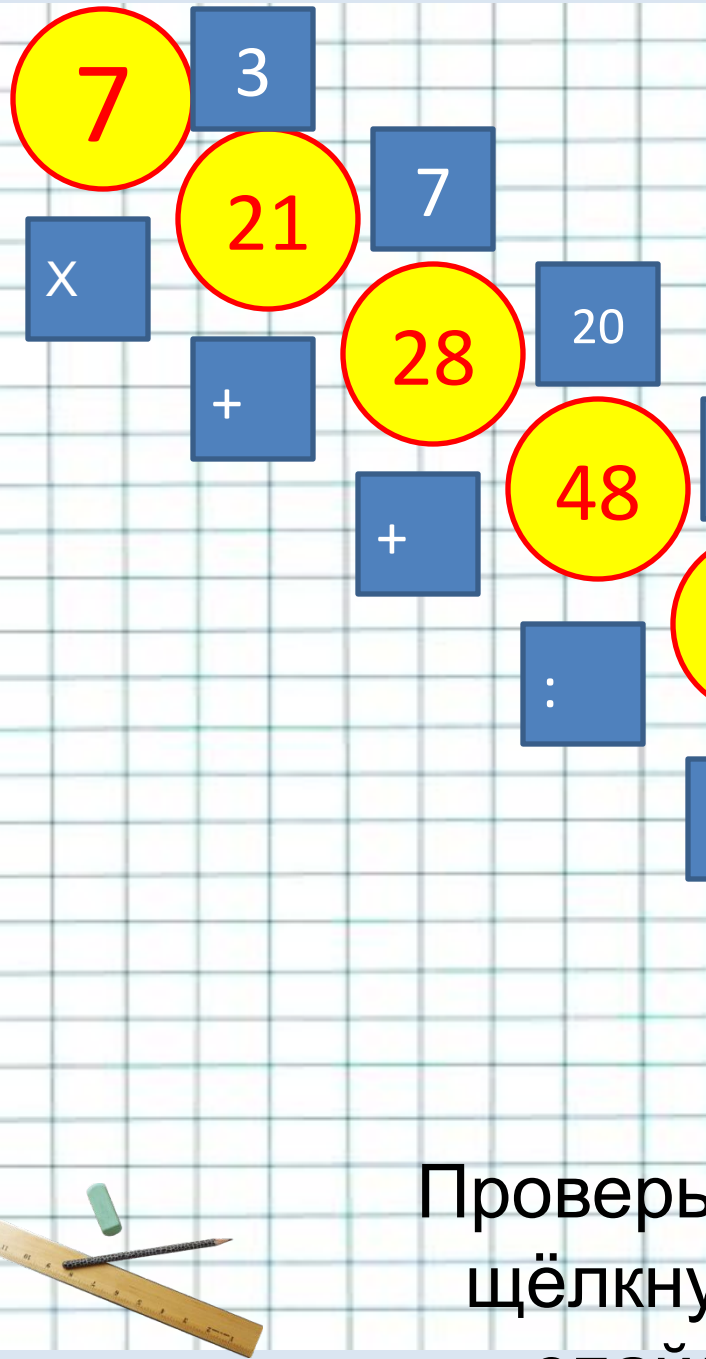
$220 \times 3 + 340 =$ звёздочку. 1000

$3000 + (6400 : 8) =$  3800

$6000 - (2000 - 60 \times 3) =$  4180

$1000 - (200 + 210 : 3) =$  730





В нижнем левом углу
экрана
выбери фломастер.

Запиши

нужную цифру в синих
квадратах.

Проверь себя,
щёлкнув по
спайду.



Вычисли:

$$96:4$$

а) 2



б) 92



г) 26



в) 34



4

Вычисли:

$$72:4$$

а)

68



б) 28



г) 16



в) 18



Верный ответ



Если $c=54$, то

$c:6=9$
Если $C=6$, то

$5 \times C=35$
Если $c=9$, то 18:

Если $c=12$, то

$c+10=22$
Если $c=15$, то 18-
 $c=2$



+



-



+



+



-

Если утверждение верно, поставь в синем овале фломастером +, если неверно -

-



Если $A=15$, $C=3$, то

+



$A \times C=48$
Если $a=19$, $c=31$, то

+



$a+c=50$
Если $a=65$, $c=26$, то $a-$

+



$c=39$
Если $a=72$, $c=8$, то $a:$

-



$c=9$
Если $a=54$, $c=28$, то $a-$


$c=20$



Какое из этих чисел
наименьшее?

а) 12345

6



б) 102345



в) 123450



Щёлкни по цифре, верный
ответ -



Масса свёклы в каждом ящике 18 кг, а масса каждого ящика 2 кг. Чему равна масса 5 ящиков со свёклой?

1) 90 кг



2) 10 кг



3) 100 кг



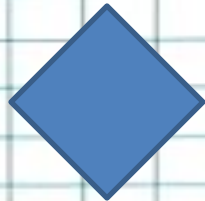
4) 96 кг



Ребята смотрели спектакль в школьном зале. В трёх рядах сидели по 15 человек и ещё в одном ряду 12 человек. Сколько ребят смотрело спектакль?

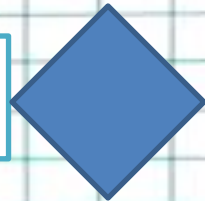
1)

45 человек




2) 27

человек



3) 60

человек



4) 57

человек



Молодцы!!!

!

