

Устный счёт

Состав числа 6

Математика, 1 класс

Презентацию подготовила:
учитель начальных классов
МАОУ СОШ №5 им. А. К. Ерохина г. Томска
Гришаева Светлана Евгеньевна

Найди «соседей» числа



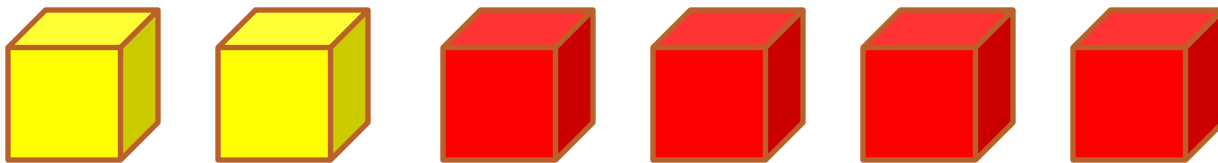
**Расставь числа в порядке
возрастания**

4 2 1 6 3 5

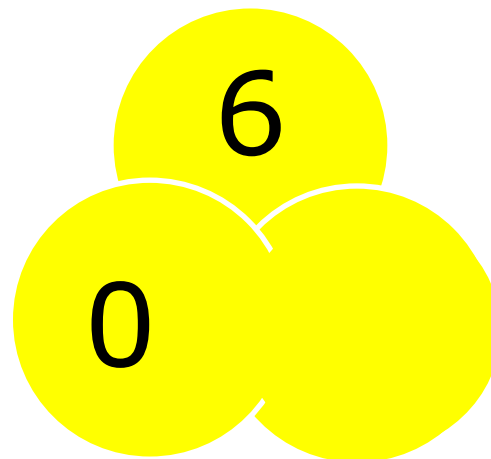
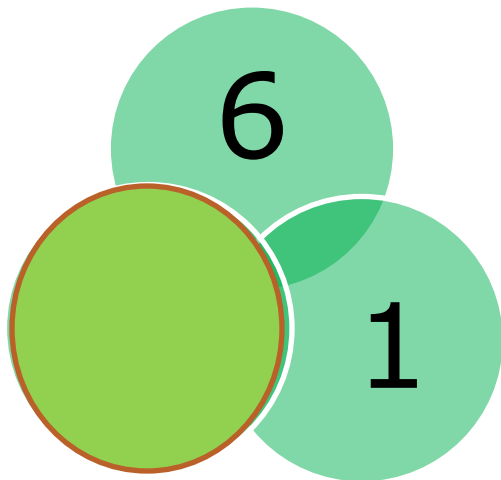

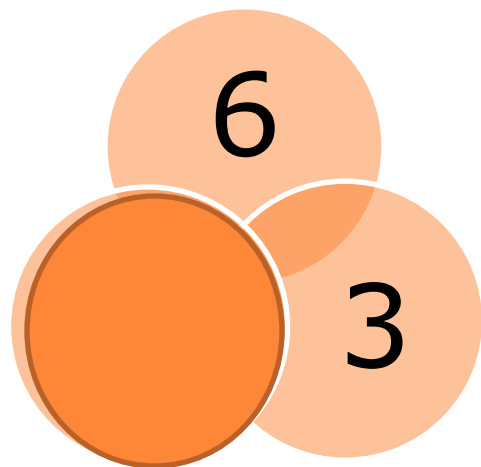
Реши задачу

Два кубика у Миши,
Четыре – у Наташи.
Вы кубики все эти
Скорей считайте, дети!

$$2 + 4 = 6$$



Заполни пропуски




Реши задачу

Во дворе гуляли утки и овцы.
Мальчик посчитал их лапы. Всего 8
лап. Сколько было уток и сколько
было овец?



**Разбей на группы по цвету
и составь равенства**



Расшифруй слово

$6 - 6 = 0$ ф

$6 - 1 = 5$ е

$5 + 1 = 6$ к

$5 - 3 = 2$ о

$6 - 3 = 3$ а

$4 - 3 = 1$ т

$2 + 2 = 4$ н

6	2	4	0	5	1	3

МОЛОДЦЫ!



Для создания презентации использовались следующие ресурсы:

1. Петерсон Л. Г., Липатникова И. Г. «Устные упражнения на уроках математики, 1 кл. – М.: «Школа 2000+...», 2003. – 112 с., с илл.
2. Картинки: яблоко, овечка, утка, конфета - <http://liubavyshka.ru/>