



Відрізок і його ДОВЖИНА

Урок математики у 5 класі

Учитель: Рябченко Надія Миколаївна





Двадцять перше листопада
Класна робота


Тема. Відрізок і його довжина

Обов'язково!


- Під час роботи з комп'ютером дотримуйтеся правил безпеки і санітарно-гігієнічних норм!



Усний рахунок



Caunter.exe



Îäèíèö³ äîâæèéè.mtf

Точка

Якщо добре загостреним олівцем доторкнутися до аркушу паперу, то залишиться слід, який дає уявлення про точку.

Точка — найпростіша геометрична фігура.

Точка розмірів не має. Будь-яка інша геометрична фігура складається з точок.

. А


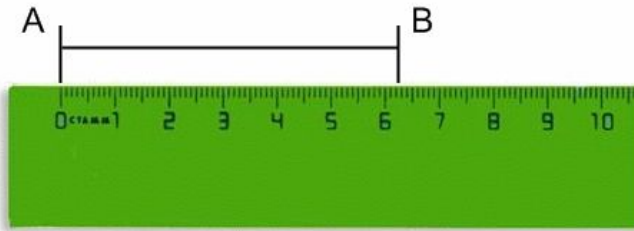


làòảìàòèêà, 5 êëàñ.Ink

Фізкутхвилинка



Прилади для вимірювання ДОВЖИНИ



Математичний диктант



Відповіді

- 1. *МК*
- 2. *рівними*
- 3. *одним*
- 4. *АВ*
- 5. *лінійкою*
- 6. *АВ*

Виконання завдань підручника

- № 551 (усно)
- №552



Початковий рівень

551. Серед предметів, які тебе оточують, назви ті, що дають уявлення про точку; про відрізок.

552. Відміть у зошиті чотири точки та познач їх.

№ 552

- A

- B

- C

- M

Виконання завдань підручника

• №562

562. Виміряй довжину відрізка AB на рисунку 28.
Побудуй у зошиті відрізок:

- 1) KL , що дорівнює відрізку AB ;
- 2) MN , коротший від відрізка AB ;
- 3) PQ , довший за відрізок AB .



Рис. 28

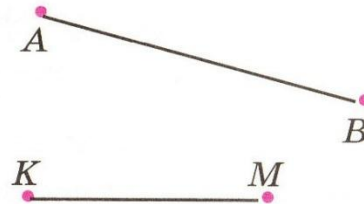


Рис. 29

№ 562

K

$KL = 3 \text{ cm } 5 \text{ mm}$


L

M

N

P

Q



Домашнє завдання

- Опрацювати § 17

- Виконати:

Руслан - № 553, 555

Олександра, Ілля - № 557, 559, 561

Альбіна - № 559, 561, 563,

Дякую за співпрацю!

учитель начальных классов Говоруні А. А. «Роздольний садок» ООШ»

«Крошка Енот»

«Крошка Енот»

