

**Урок математики
в 4 классе**


Презентацию подготовила:
Николаева Юлия Александровна
учитель начальных классов
высшей категории

Величины



ВРЕМЯ

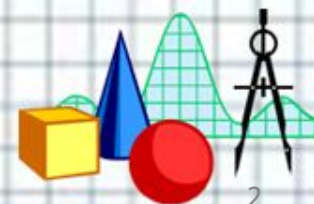
ПЛОЩАДЬ



МАССА



ДЛИНА






**Закрепление
по теме:
«Величины»**










$$300 + 350 + 600 = 1\ 250 \text{ г}$$

$$1250 \text{ г} = 1 \text{ кг } 250 \text{ г}$$

- Утро – 300 г
- День – 350 г
- Вечер – 600 г



1 сут. = 24 ч

24 : 2 = 12 ч



Тест «Единицы площади»

1. В какой строке записаны единицы площади?

- 1) м, км², кг, см;
- 2) мм², м², км², дм², см²;
- 3) т, ц, г, кг.

2. В какой строке допущена ошибка?

- 1) 1 дм² = 10 см²;
- 2) 1 км² = 1 000 000 м²;
- 3) 1 см² = 100 мм².

3. Как вычислить площадь квадрата?

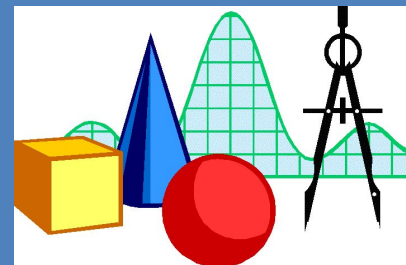
- 1) 5 + 5;
- 2) (5 + 5) × 2;
- 3) 5 × 5.

4. Чему равна площадь прямоугольника со сторонами 7 см и 3 см?

- 1) 21 см²;
- 2) 20 см;
- 3) 21 см.

5. В квадратных километрах измеряют площади:

- 1) школьных парт;
- 2) государств;
- 3) классных комнат.





Единицы времени

$$1 \text{ ч} = 60 \text{ мин}$$

- 2 ч 30 мин = мин
- 3 ч 45 мин = мин
- 90 мин = ч мин

*22 ноября.
Классная работа.*



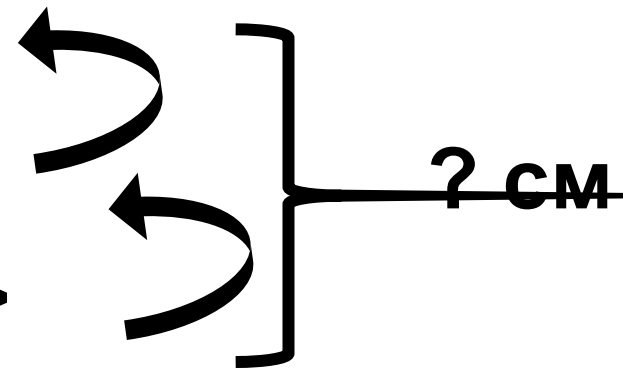


Решение задачи

Мачехе – 900 см

Мл. дочери - ? в 3 раза <

Ст. дочери - ? на 200 см >



План решения:

1) :

2) +

3) + +



Решение задачи

1) $900 : 3 = 300$ (см) – мл. дочери.

2) $300 + 200 = 500$ (см) – ст. дочери.

3) $900 + 300 + 500 = 1700$ (см) = 17 м.


Ответ: 17 метров ткани

потребуется на все платья.

Единицы длины

СЕРЕБРИСТЫМИ


7 м 20 см



<


ЗОЛОТИСТЫМИ

840 см



КРУЖЕВАМИ

160 дм



>

АТЛАСНЫМИ

5 м 6 дм





Единицы массы

- РИС 3000 г = 3 кг
- ГРЕЧКА 5200 г = 5 кг 200 г
- ПШЕНО 4050 г = 4 кг 050 г









УРАВНЕНИЕ

1) $x = 3$

2) $x = 61$

3) $x = 32$





ДОМАШНЕЕ ЗАДАНИЕ:

с. 58, тест (1),

проект
«Старинные
меры
длины».

Спасибо!!!

