


0 1 2 3 4 5 6 7 8 9 10



Пуск!

10 8 6 4 2 0
9 7 5 3 1

Какие карточки перевернуты?

9 8 6 4 3

10			7		5			2	1
----	--	--	---	--	---	--	--	---	---



Какие числа спрятались в окошках?

7

6	1
5	2
4	3

6

1	5
2	4
3	3

10

9	1
8	2
7	3
6	4
5	5

5

1	4
2	3
3	2
4	1

8

7	1
6	2
5	3
4	4

9

1	8
2	7
3	6
4	5

Найди нужную запись.

$5 - 3$

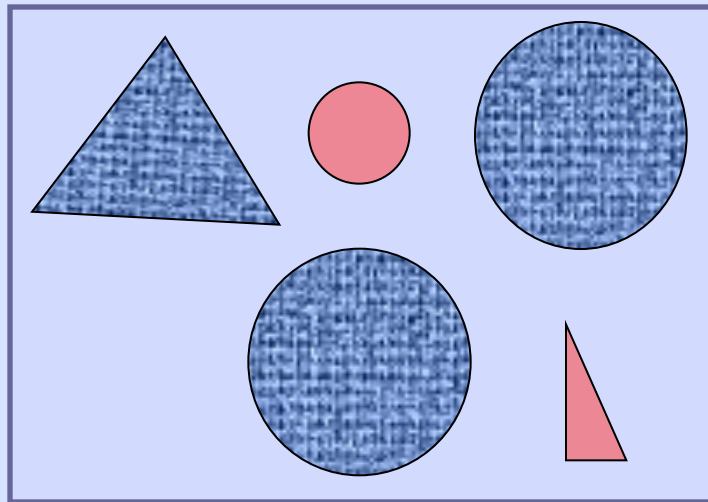
$1 + 4$

$2 + 2$

$4 - 2$

$2 + 3$

$5 - 2$



**свойства
(признаки)**

цвет

форма

размер

Физкультминутка



Ради здоровья и долголетия необходимо делать физкультминутки.


Тема:

Величины. Длина.





Какую коробку выбрать для
карандаша?



Длина предмета – это величина.

Величина – это свойство (признак).

1. Измерить

2. Результат записать числом

САНТИМЕТР

СМ

Задача Кати.

$$2\text{см} + 3\text{см} + 1\text{см} = 6\text{см}$$

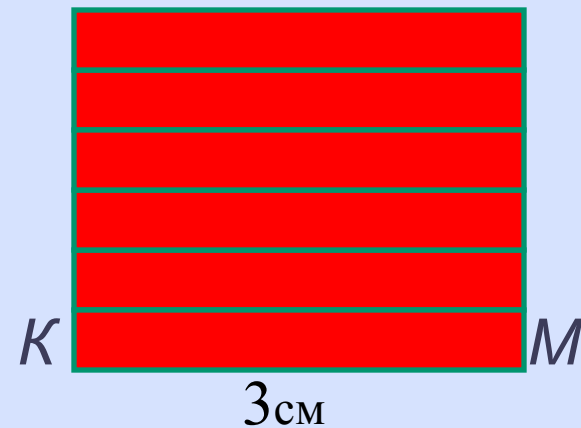
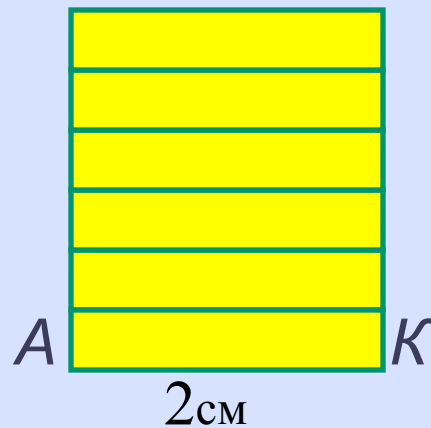
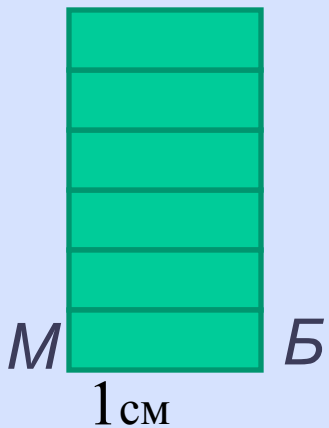
$$2\text{см} + 1\text{см} + 3\text{см} = 6\text{см}$$

$$1\text{см} + 2\text{см} + 3\text{см} = 6\text{см}$$

$$1\text{см} + 3\text{см} + 2\text{см} = 6\text{см}$$

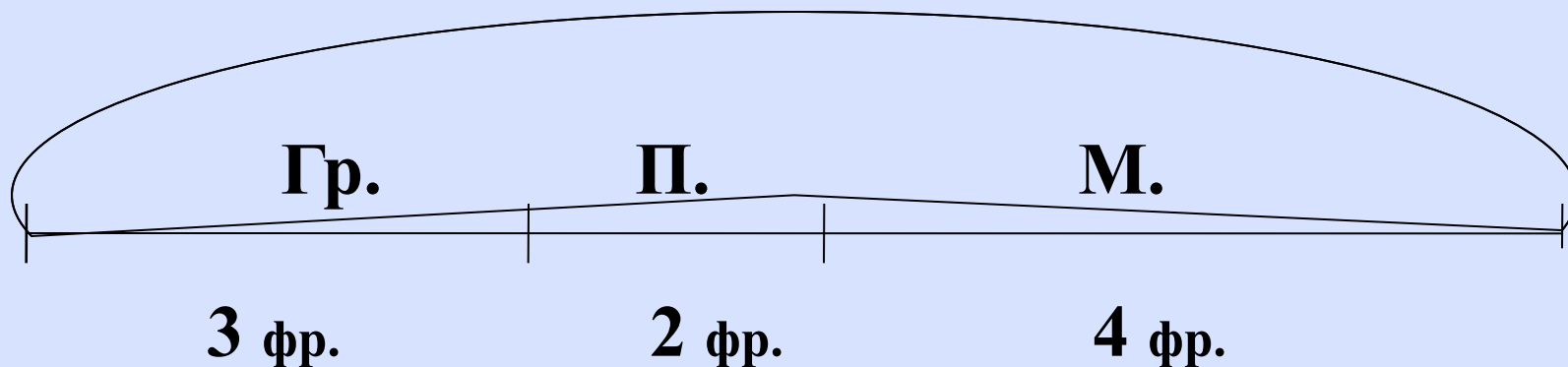
$$3\text{см} + 1\text{см} + 2\text{см} = 6\text{см}$$

$$3\text{см} + 2\text{см} + 1\text{см} = 6\text{см}$$



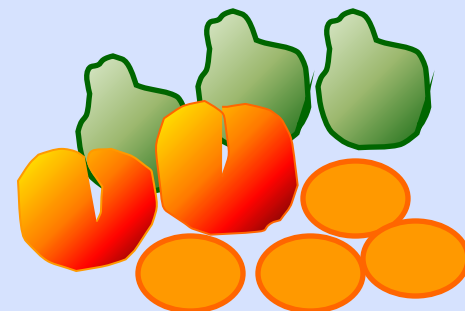
Задача Вовы.

?



$$3 + 2 + 4 = 9 \text{ (фр.)}$$

Ответ: 9 фруктов.



Реши для себя.

