


ВЕЛИЧИНЫ. ДЛИНА.

Математический диктант

5 9 4 8 2 3

2 3 4 5 8 9

Что означают выражения?



$$2 + 7$$

$$1 + 8$$

$$3 + 6$$

$$9 - 7$$


$$9 - 8$$

Игра «День-ночь»

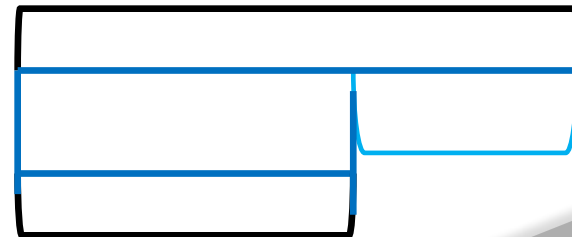
$$7+2-6+1+4-7+4-2=$$

3

Дополните и решите за,



На одной ветке сидело 5 птиц, а на другой 3 птицы.

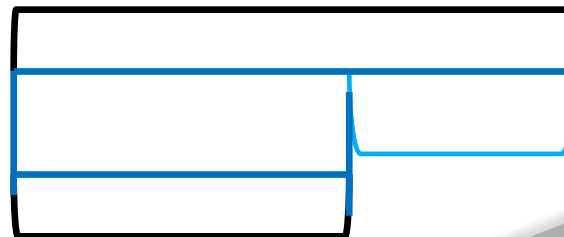


Дополните и решите задачу




Дети сделали 8 кормушек для птиц.

Несколько кормушек они уже повесили.



Назовите геометрические фигуры



**Задания подготовлены по книге «Устные упражнения на уроках математики. 1 класс» (авт. Л.Г. Петерсон, И.Г. Липатникова)
Презентация выполнена Галановой Е.В., учителем начальных классов
ГБОУ школы №328 Санкт-Петербурга**