

**ВЕЛИЧИНЫ. МАССА.**

# Математический диктант

9 7 6 5 4 3

# Игра «Молчанка»

4

5

6



2

3

1

# Сравните выражения

$$9\text{см} - 2\text{см} < 10\text{см} - 2\text{см}$$

$$8\text{см} - 2\text{см} < 9\text{ см} - 2\text{см}$$

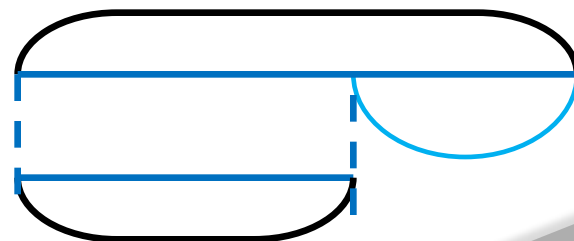
$$7\text{см} - 2\text{см} < 8\text{ см} - 2\text{см}$$

$$6\text{см} - 2\text{см} < 7\text{см} - 2\text{см}$$

# Дополните и решите задачу



*В первой пачке 5 тетрадей, а во второй – 4.*

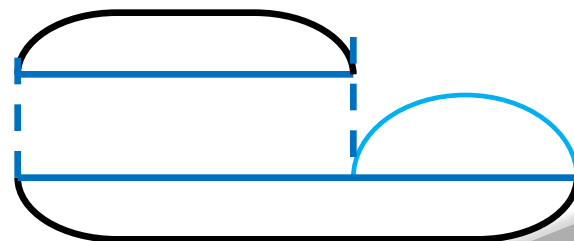


**Дополните и решите задачу**



**На первой стоянке 7 машин. Это меньше, чем на второй стоянке.**

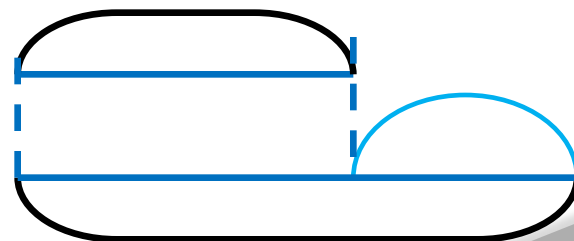
**Сколько машин на второй стоянке?**



# Дополните и решите зад



*На столе лежали книги. 2 книги  
положили на полку. Сколько книг  
осталось на столе?*



# Найдите сумму длин сторон прямоугольника



$$AB = ВГ = 2 \text{ см}$$

$$AG = BV = 4 \text{ см}$$



**Задания подготовлены по книге «Устные упражнения на уроках математики. 1 класс» (авт. Л.Г. Петерсон, И.Г. Липатникова)  
Презентация выполнена Галановой Е.В., учителем начальных классов  
ГБОУ школы №328 Санкт-Петербурга**