

ВЕЛИЧИНЫ. ОБЪЁМ.

Счёт до 20.

3 5 8 10 13 15

Игра «День-ночь»

$$9-7+4+2-5+0+2-4+8-0=9$$

Вычислите

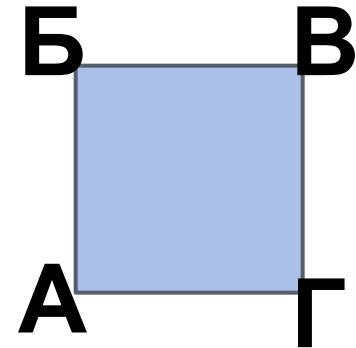
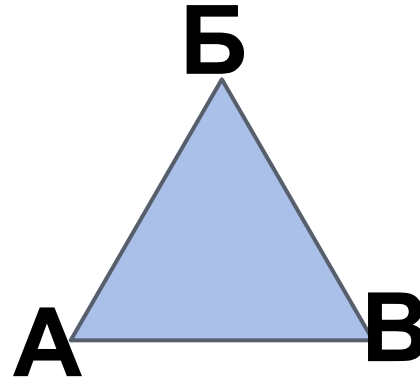
$$5 \text{ кг} + 2 \text{ кг} = \mathbf{.7.} \text{ кг}$$

$$7 \text{ кг} - 3 \text{ кг} = \mathbf{.4.} \text{ кг}$$

$$6 \text{ кг} + 1 \text{ кг} = \mathbf{.7.} \text{ кг}$$

$$3 \text{ кг} + 4 \text{ кг} = \mathbf{.7.} \text{ кг}$$

Найдите сумму длин сторон треугольника



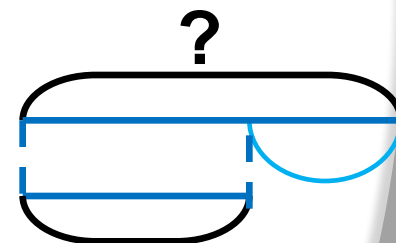
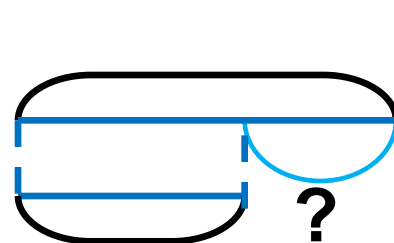
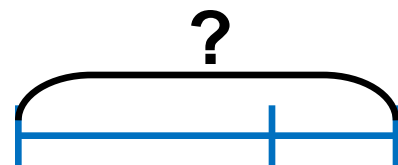
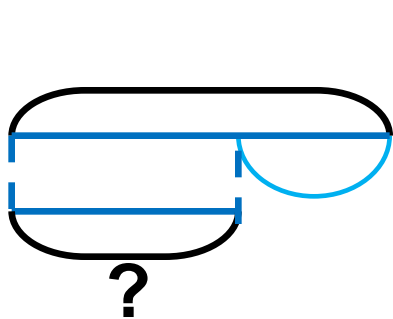
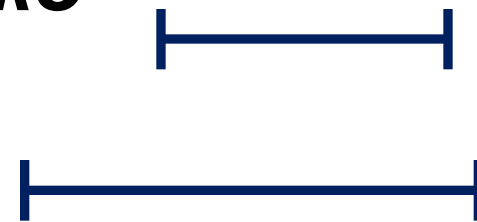
$$AB = 2 \text{ см}$$

$$BV = 3 \text{ см}$$

$$AV = 4 \text{ см}$$

Подберите схему и решите задачу

Длина первого отрезка 8 см, а второго – 5 см. На сколько длина первого отрезка больше, чем второго?

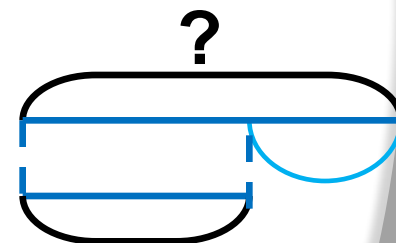
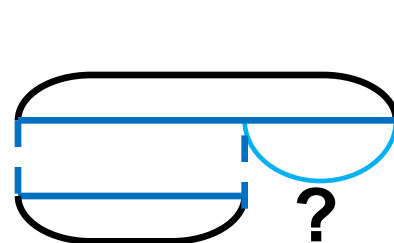
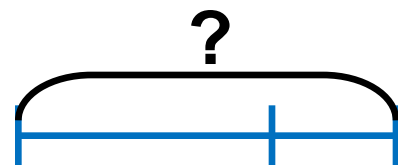
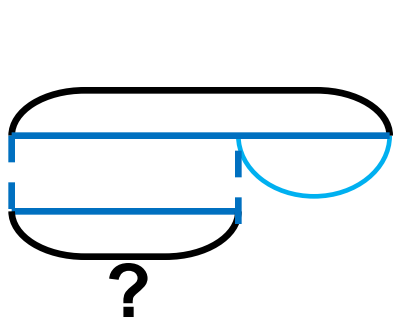


Подберите схему и решите задачу

*В одном ящике 8кг помидоров
а в другом – на 2кг меньше.*

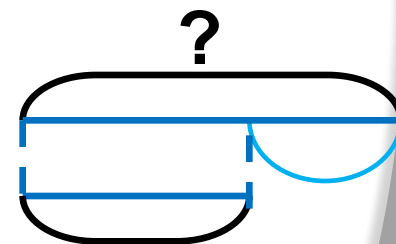
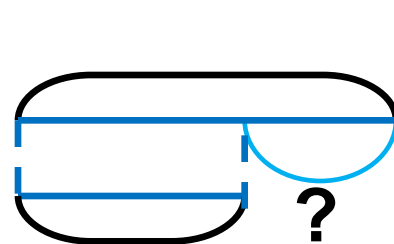
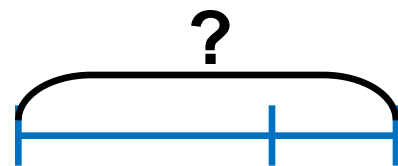
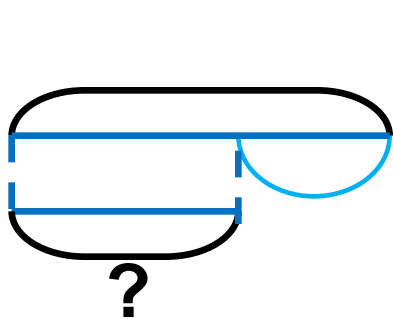


*Сколько килограммов
помидоров во втором ящике?*



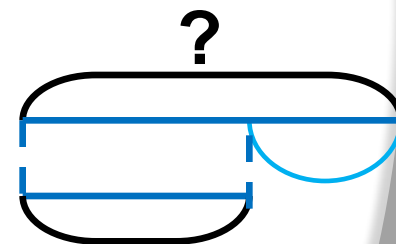
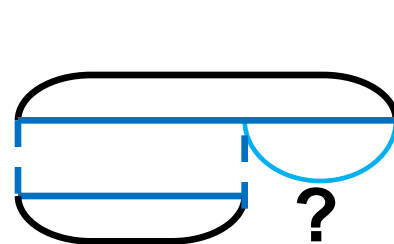
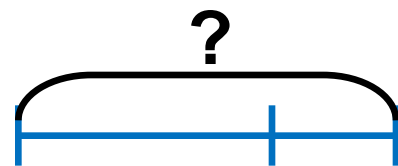
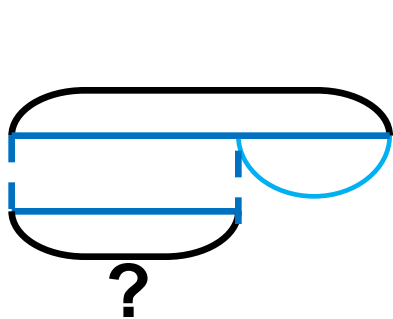
Подберите схему и решите задачу

В одной корзине 6 кг картофеля, это на 4 кг меньше, чем во второй. Сколько килограммов картофеля во второй корзине?



Подберите схему и решите задачу

*Папа с сыном пололи грядки.
Папа прополол 6 грядок, а сын
2 грядки. Сколько всего грядок
пропололи отец с сыном?*



**Задания подготовлены по книге «Устные упражнения на уроках математики. 1 класс» (авт. Л.Г. Петерсон, И.Г. Липатникова)
Презентация выполнена Галановой Е.В., учителем начальных классов
ГБОУ школы №328 Санкт-Петербурга**