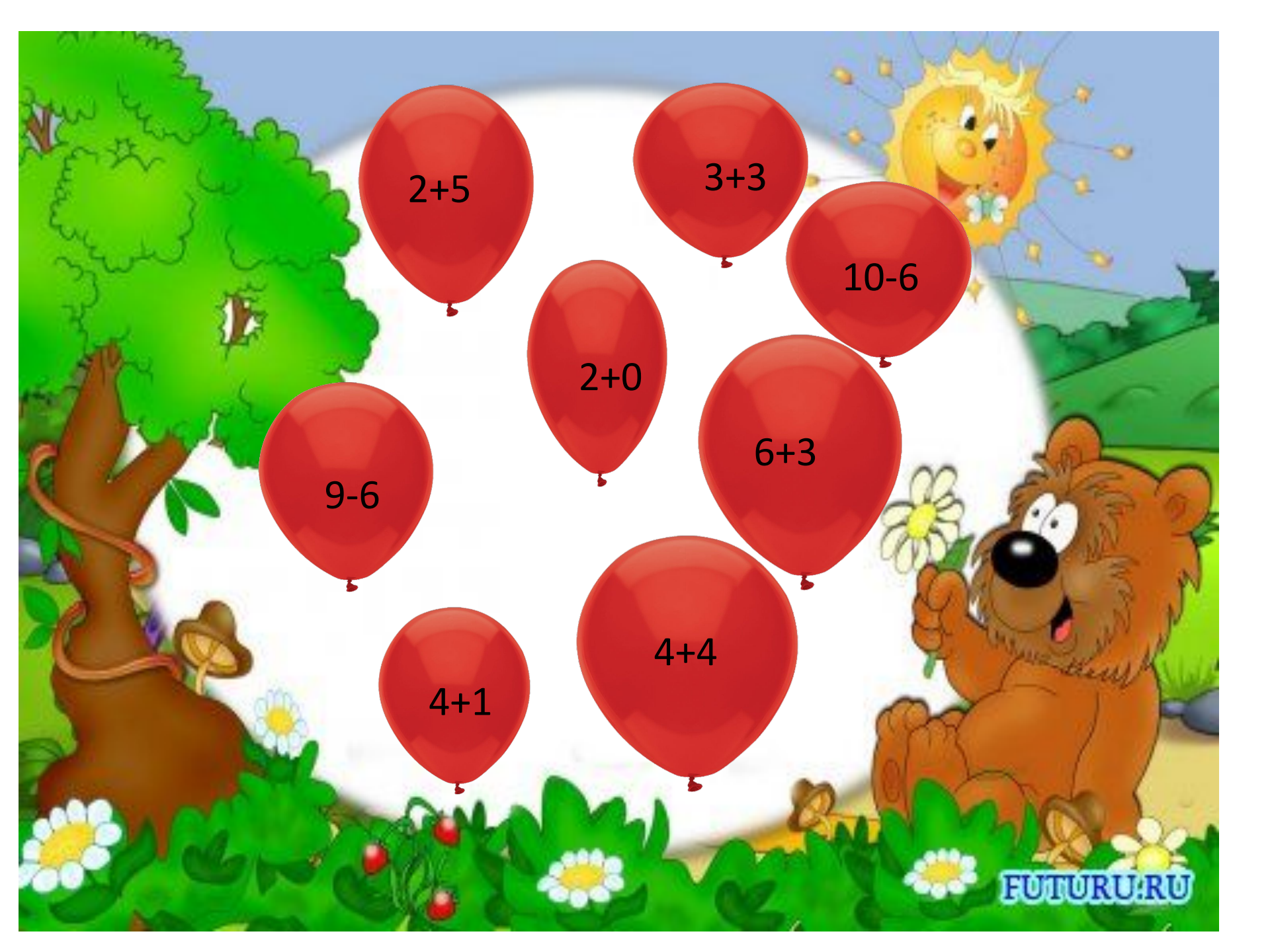


Математика
1 класс

Тема
«Величины.
Решение задач»



$2+5$

$3+3$

$10-6$

$2+0$

$6+3$

$9-6$

$4+4$










$4+1$



Загадка


Говорит она беззвучно,
но понятно и нескучно.
Ты беседуй чаще с ней -
станешь вчетверо умней.
(Книга)


**По какому признаку
собраны в каждой строке
изображения предметов?**

**Является ли этот признак
величиной?**

**Назовите признаки
всех ЭТИХ цветков.**





Подставьте числа в
окошки так, чтобы
получились верные
равенства.

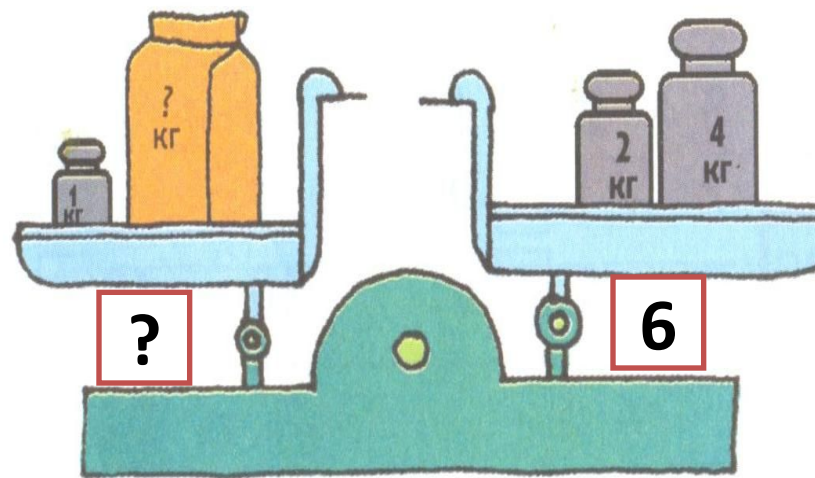
$$4 \text{ кг} + 1 \text{ кг} = 7 \text{ кг} - \quad \text{кг} \quad \boxed{2}$$

$$8 \text{ л} - 4 \text{ л} = \quad \text{л} + 2 \text{ л}$$

$$5 \text{ см} + 6 \text{ см} = \boxed{2} \text{ см} + 0 \text{ см}$$

3

Чему равна масса пакета?



$$1 \text{ КГ} + 5 \text{ КГ} = 2 \text{ КГ} + 4 \text{ КГ}$$

Проверка

Цвет

Материал


Назначение

Объём

Масса

Длина





Я запомнил...
Я узнал...
Я смог...
Я был
заинтересован...
Я умею...