

ВЕСЕЛАЯ МАТЕМАТИКА



вперед

СОДЕРЖАНИЕ

Загадки 1 2 3 4 5 6 7

Задачи 1 2 3 4 5 6 7 8 9 10 11
12 13 14 15

Ребусы 1 2 3

Шёл Кондрат в Ленинград, а
навстречу ему пять ребят.
Сколько ребят шли в Ленинград?

НИСКОЛЬКО



назад

ответ

вперед

У Змея Тугарина – одна голова, а у
Змея Горыныча целых 3. На сколько
голов Змей Горыныч умнее Змея
Тугарина?

НА 2 ГОЛОВЫ



назад

ответ

вперед

**Сестре 4 года, а брату 6 лет.
Сколько лет будет брату, когда сестре
исполнится 6 лет?**



Ответ: 8 лет

назад

ответ

вперед

**В комнате 4 угла. В каждом углу сидит кошка.
Против каждой кошки сидят по 3 кошки.
Сколько всего кошек в комнате?**

всего 4 кошки



назад

ответ

вперед

**В комнате горело 50 свечей, 20
свечей задули. Сколько осталось
свечей?**



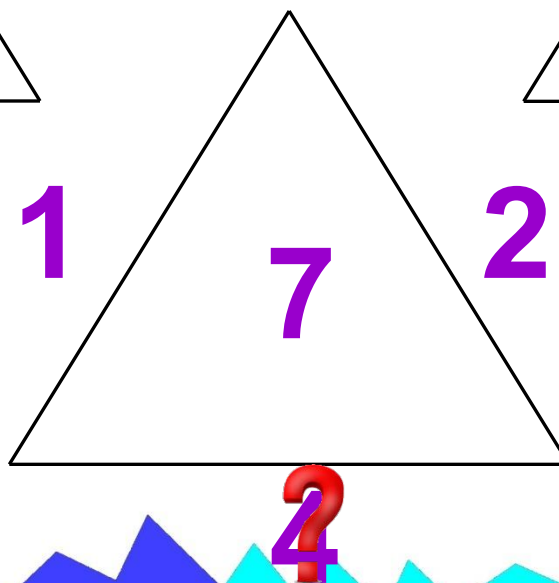
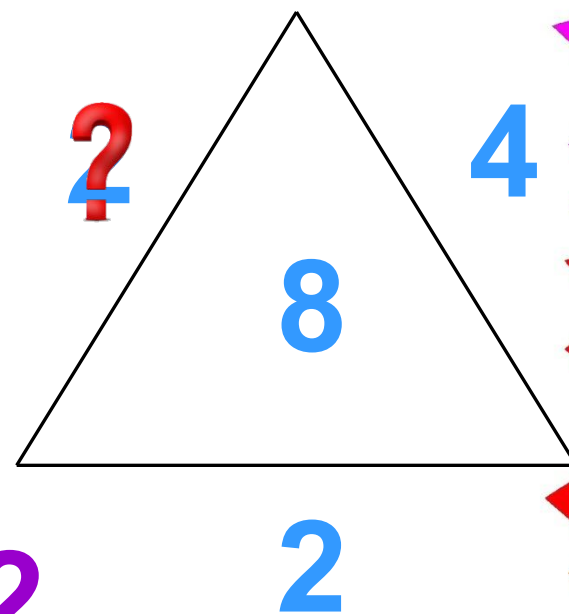

**20 свечей
остальные сгорели**

назад

ответ

вперед

Дополни каждый треугольник,
зная, что внутреннее число
является суммой трёх чисел.



назад

вперед

Посмотрите внимательно на первое
и второе поле и узнайте, какое слово
зашифровано?

4		9
	3	
1	10	7

Г		К
	О	
Л	А	И

ЛОГИКА

назад

ответ

вперед

Посчитай, сколько раз
этот фрагмент повторяется в таблице.
Ищи его по всем направлениям.

?

3

2

3

2











назад

вперед

Из нарисованных фигур выбери ту,
которую нужно поставить на
свободное место.

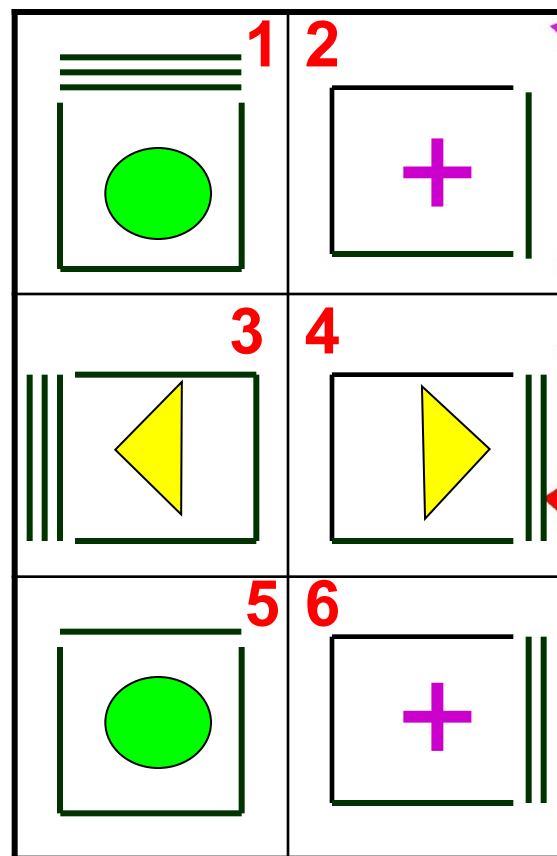
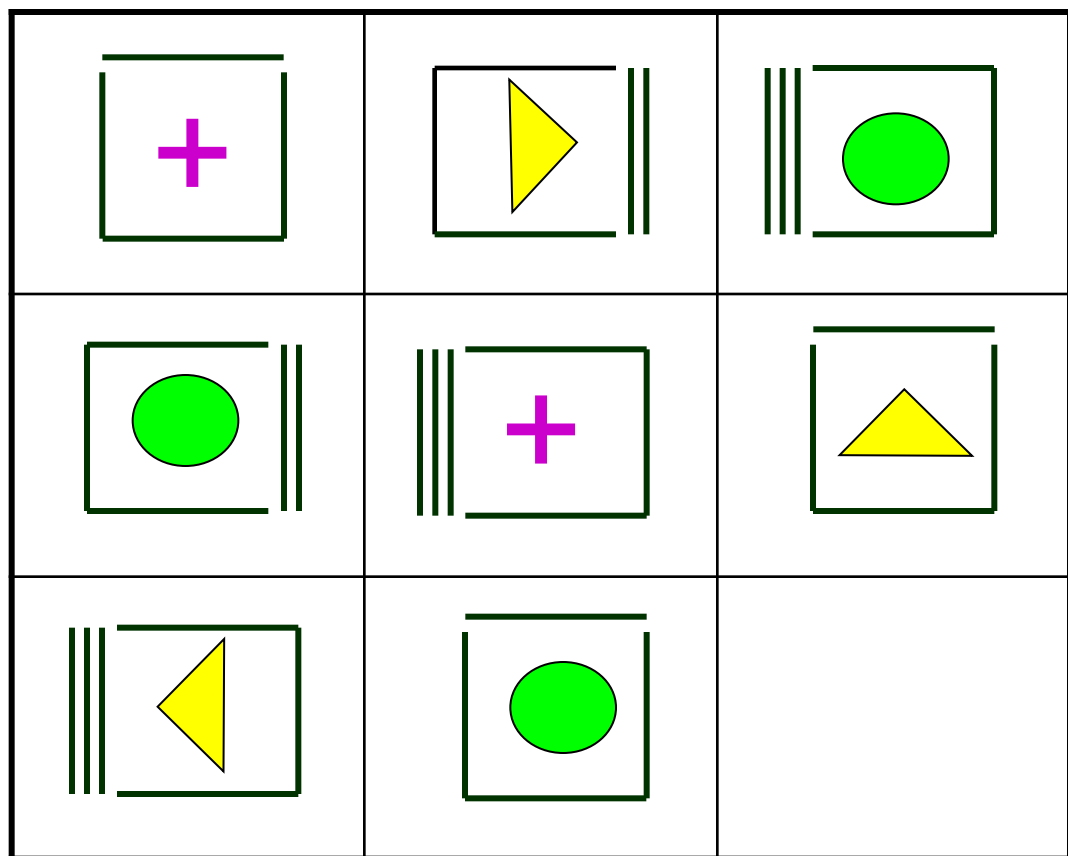


назад

ответ

вперед

Из 6 нарисованных фигур справа
 выбери ту, которую нужно поставить
 на свободное место.




назад

ответ

вперед

Среди этих чисел не хватает одного.
Назовите его?



назад

ответ

вперед

Домик Кролика нарисован 4 раза, а домик Пятачка только один раз. Где домик Пятачка?



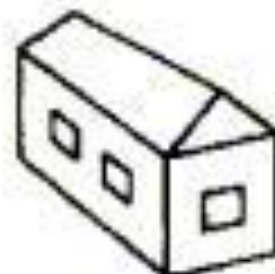
(A)



(B)



(C)



(D)



(E)

назад

ответ

вперед

Что тяжелее: килограмм ваты или килограмм железа?

1. Железо тяжелее;
2. Вата тяжелее;
3. Железо и вата весят одинаково



назад

ответ

вперед

МИ




О=У

МИ?УС

Редуксы

Б=Р



РО?МБ

назад

вперед



и = а

КОЧКА



МОРОЗ

назад

вперед



ЦВЕТОК



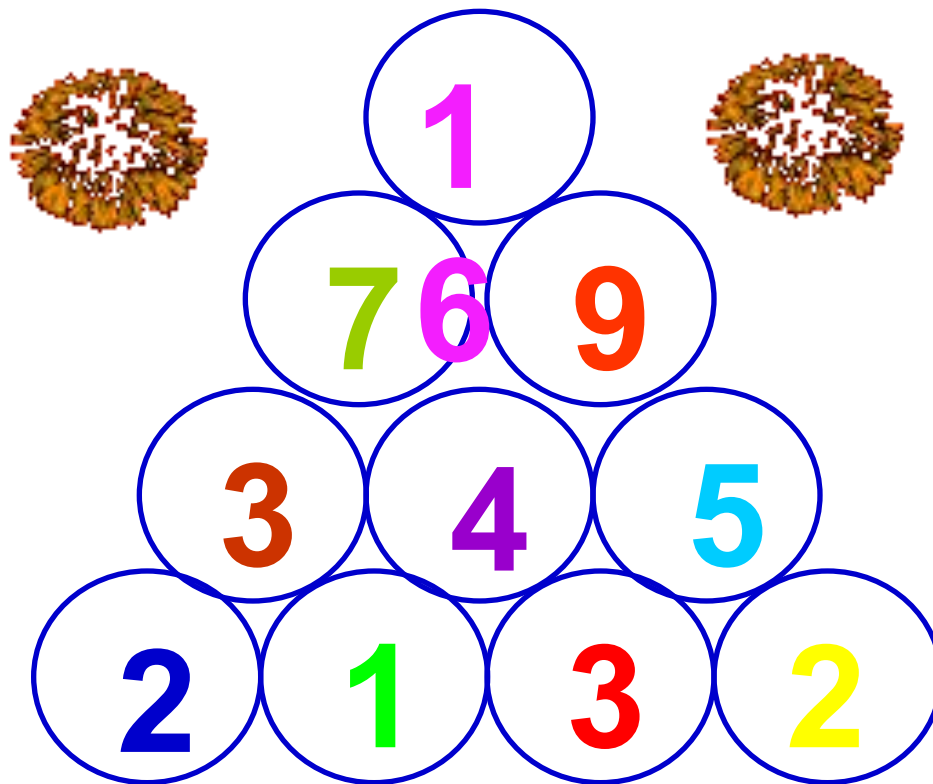
СОЛНЦЕ

назад

вперед

Математическая пирамида

Задача: сложить два рядом стоящих числа и сумму записать в верхнем кружочке.



назад

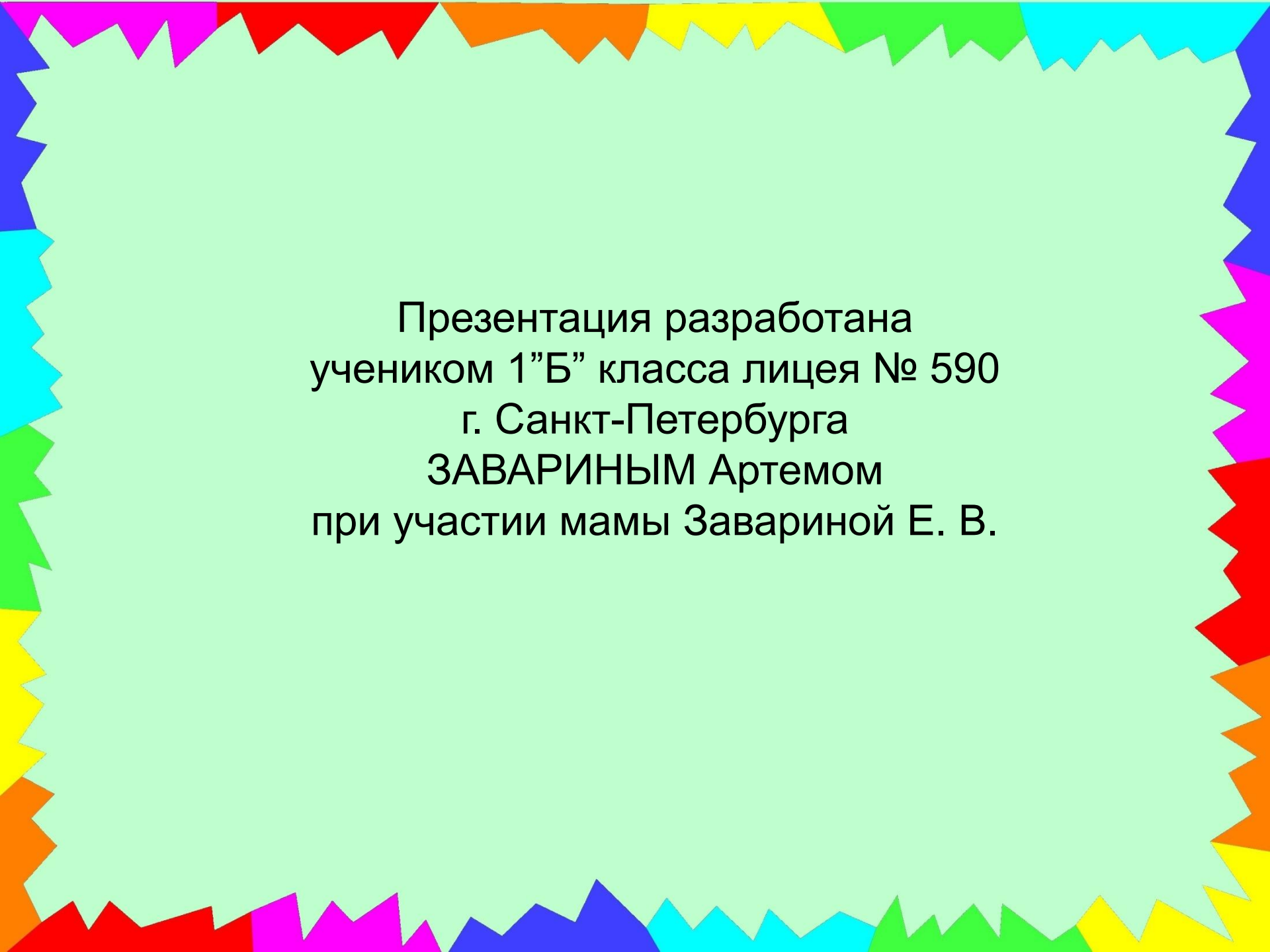
вперед

В пустые клетки впиши цифры,
чтобы ответы были правильными

9	-	?	-	4	=	2
-		+		-		+
?	-	1	+	?	=	?
=		=		=		=
5	+	4	-	?	=	7

назад

вперед



Презентация разработана
учеником 1"Б" класса лицея № 590
г. Санкт-Петербурга
ЗАВАРИНЫМ Артемом
при участии мамы Завариной Е. В.