



Весельный поезд

Станция отправления

- 1. На грядке сидели 4 воробья. К ним прилетели еще 2 воробья. Кот Васька, схватил одного воробья и убежал. Сколько воробьев осталось на грядке?
• (0)
- 2. Четверо играли в домино 4 часа. Сколько часов играл каждый?
• (4 часа)

Станция отправления

- 3. Шли по дороге два мальчика и нашли 2 р. За ними еще четверо идут, сколько они найдут?
 - (ничего)
- 4. Петух, стоя на одной ноге, весит 3 кг. Сколько он весит, стоя на двух ногах?
 - (3 кг)
- 5. Найти два числа, произведение и частное которых равно 24.
 - (24 и 1)

Станция отправления

- 6. Сколько получится десятков, если 2 десятка умножить на 3 десятка?

(60 десятков)

- 7. Пассажир автобуса ехал в село.
- По дороге он встретил пять грузовиков и три легковые машины. Сколько всего машин ехало в село?

(Один автобус, остальные ехали из села)




Станция отправления


- 8. Ребята пилят бревно на части определенной длины. Отпиливание одного такого куска занимает одну минуту. За сколько минут распилят бревно длиной 5 м на пять частей?
(за 4 минуты)

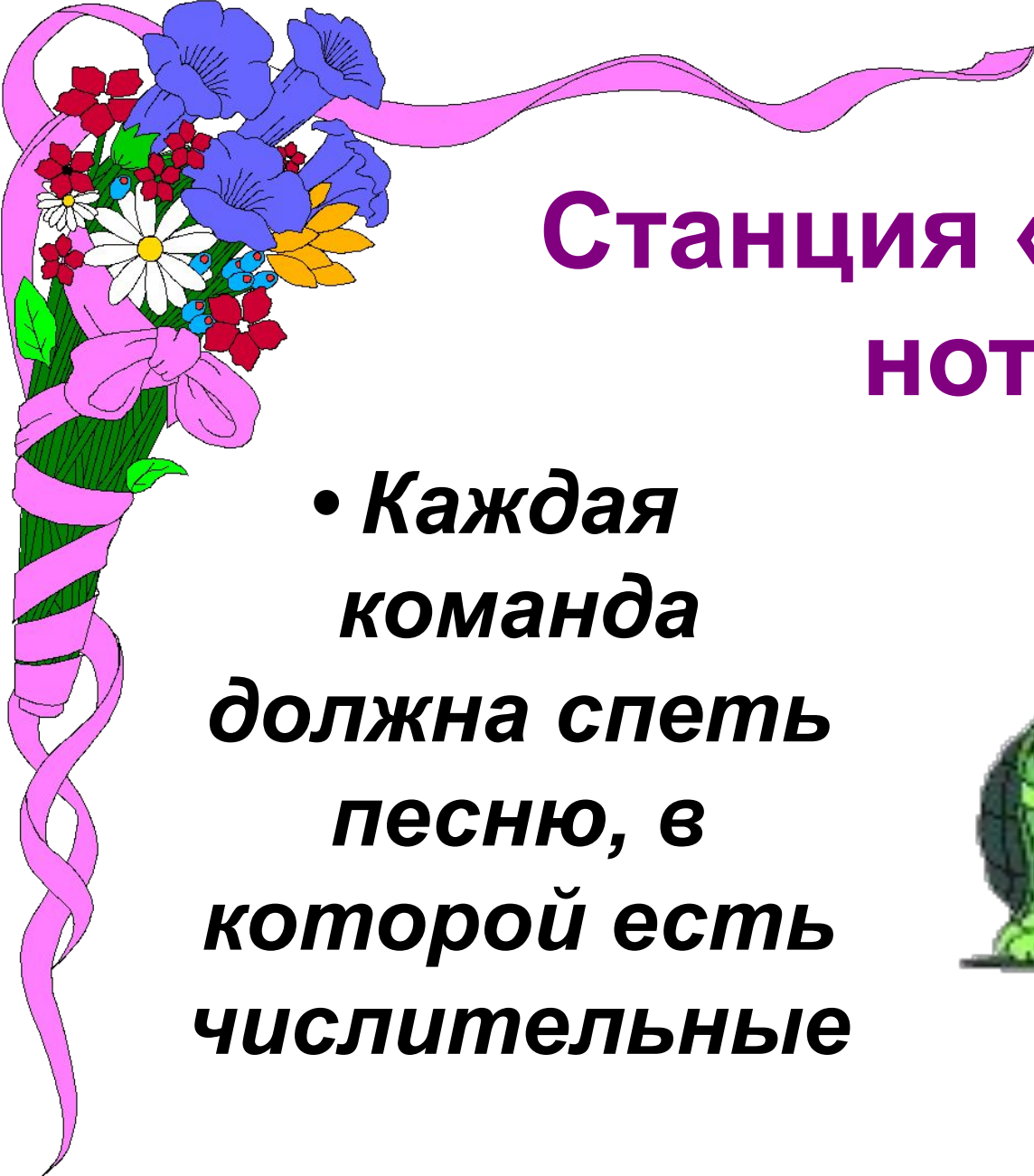
Станция «Эрудит»

- По горизонтали:
- 1. Число, из которого вычитают.
- 2. Число, на которое делят.
- 3. Сумма длин всех сторон треугольника.
- 4. Как называют фигуру, изображенную на рисунке?



- По вертикали:
- 1. Что такое $2x - 6 = 2$?
- 5. Число, которое прибавляют.
- 6. $23 = 4 \cdot 5 + 3$; 3 – это.....
- 7. Арифметическое действие.





Станция «Веселые НОТКИ»

• Каждая команда должна спеть песню, в которой есть числительные



Станция «Угадайка»



,

Женя

,

сложение

Отгадайте ребус



МИНУС


Отгадайте ребус

М



МОНИТОР

ЧИСЛОВЫЕ РЕБУСЫ



$$\begin{array}{r} * 0 * 3 * \\ - \\ 3 * 0 * 4 \\ \hline 1 8 9 9 0 \end{array}$$

$$\begin{array}{r} 7 * 5 3 * \\ - \\ * 9 * * 2 \\ \hline 1 4 9 0 9 \end{array}$$


2

1

4

3

Чистовые работы



* * * *

—

* * *

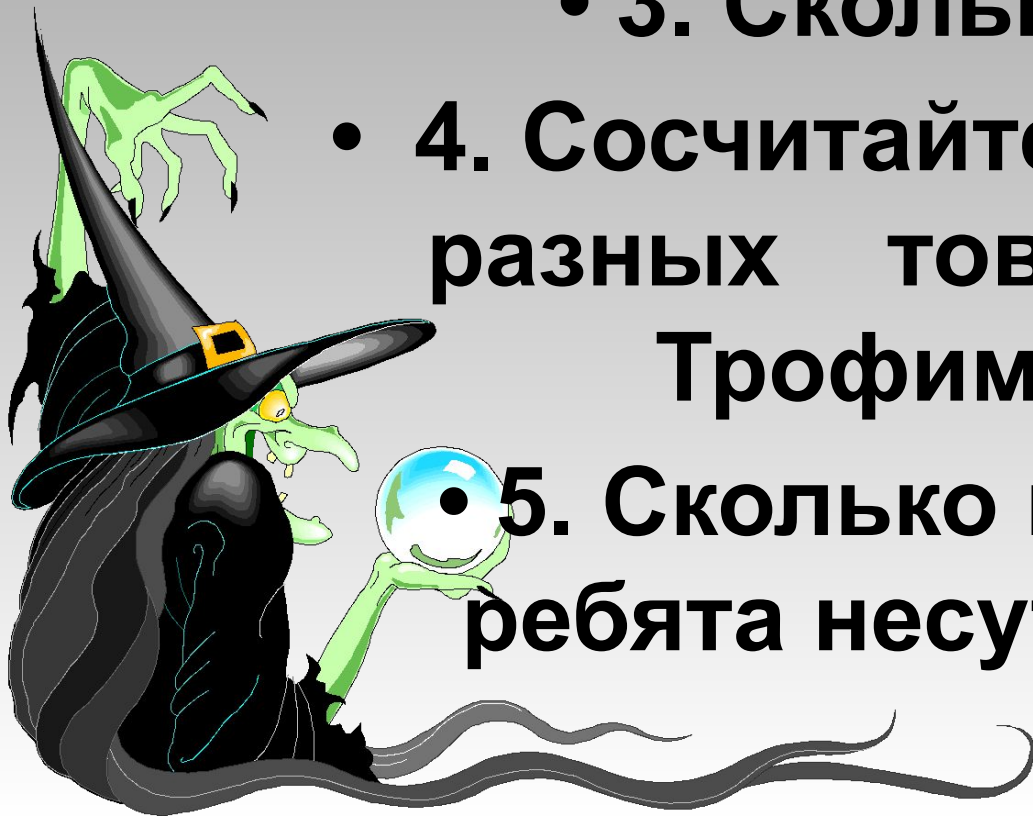
—————

1



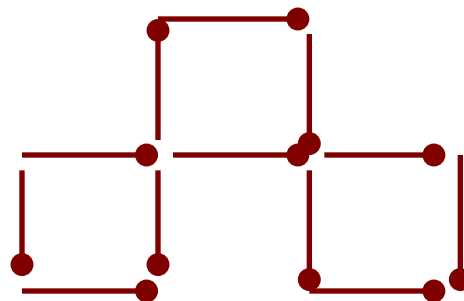
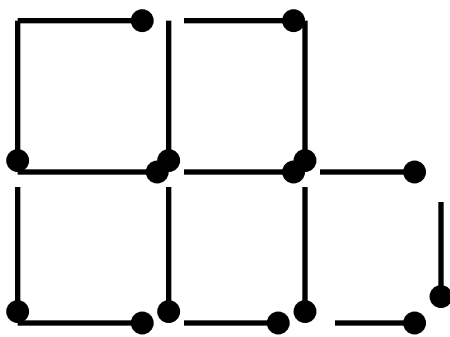
Станция «Внимательная»

- 1. Сколько было остановок?
- 2. Сколько гостей пришло к Медузам?
- 3. Сколько их было?
- 4. Сосчитайте, сколько видов разных товаров продавал Трофим на рынке?
- 5. Сколько котят и мышат ребята несут в Ленинград?

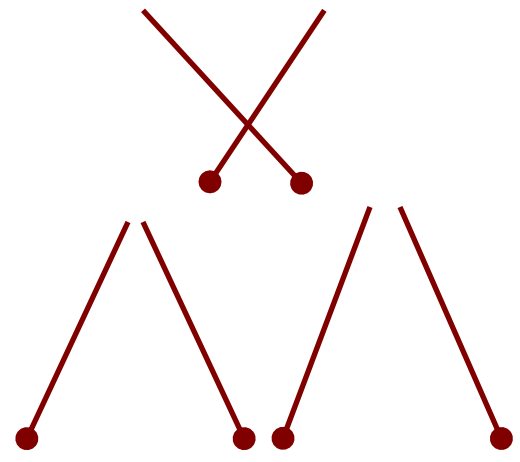
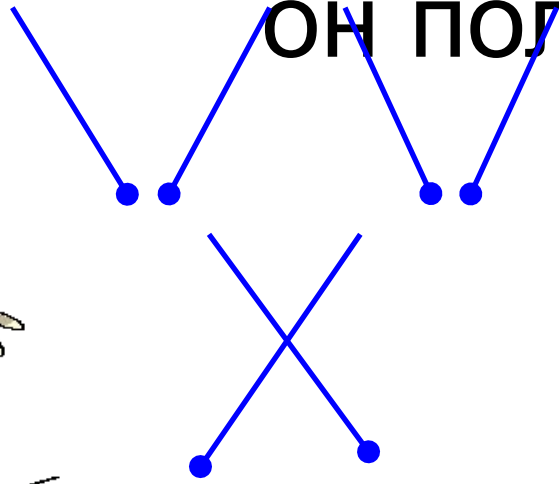


Станция «Светофор»


- 1. Отданных квадратиков из спичек отнять 3 спички так, чтобы осталось 3 таких же квадратика.



2. Спичечный рак ползет вниз.
Переложите 3 спички так, чтобы
он полз вверх.

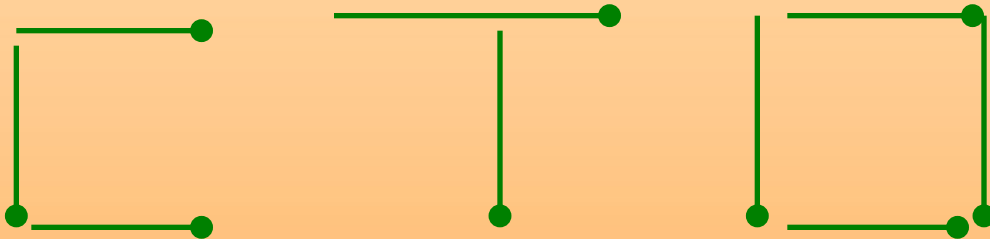


3. Положено 5 спичек. Прибавьте к ним еще 5 спичек так, чтобы получилось «три».




4. Приложите к 4 спичкам 5 спичек так, чтобы получилось

«СТО».

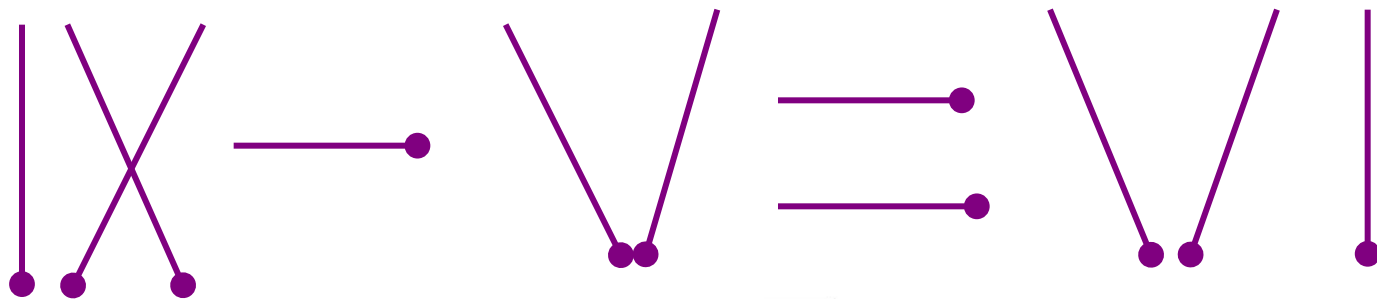


5. Исправьте ошибку в спичечной записи, переложив всего одну спичку.

• а)



• б)



Станция «Рыболовная»

На одной чаше весов кирпич, а на другой – половина такого же кирпича и гиря в 1 кг. Весы находятся в равновесии. Сколько весит кирпич?

2 кг



За книгу заплатили 1 рубль и еще полстоимости книги. Сколько стоит книга?

2 р.

В комнате 4 угла. В каждом углу сидит кошка. Напротив каждой кошки по три кошки. На хвосте каждой кошки по одной кошке.

Сколько же всего кошек в комнате?

4 кошки



Имеется кусок сукна длиной 16 м, от которого каждый день отрезают по 2 м. По истечении скольких дней отрежут последний кусок?

7 дней



**У отца 6 сыновей.
Каждый сын имеет
одну сестру.
Сколько всего
детей у отца?**

**Каждый сын имеет одну
сестру. Сколько детей у отца?**



7 детей

**Разделить 5 яблок между
пятью детьми так, чтобы
каждый получил по яблоку и
одно яблоко осталось в
корзине.**

**Одно яблоко
дать в корзине**



Станция «Поздравительная»

