


ВЕСЕЛЫЙ СЧЁТ

Игра

Выполнила: Рыбалка А. В.
Учитель начальных классов
МБОУ СОШ №40
г. Владикавказ

СКОЛЬКО КОТЯТ ?



1

2

3


4

5

Сколько станет насекомых, если одна из бабочек улетит?



6



3



7

1



5

8



Сколько жуков надо нарисовать
чтобы и бабочек и жуков стало
поровну?



4



2

1

6



Сколько надо добавить мячей,
чтобы их стало 10?

3



6



5




2



7

4

Две птицы сидели на ветке. Еще две прилетело, а две улетело. Сколько птиц стало?



0

4

2

6

У клоуна в руках столько предметов, сколько лапок у кота и курочки вместе. Сколько предметов в руках у клоуна?

8

4

2

0

6



10

Молодец!



ЖМИ НА КНОПКУ

До встречи!



ПОПРОБУЙ
ЕЩЕ РАЗ



ЖМИ НА КНОПКУ