



Кто хочет стать
математиком?

Подсчитай свои таланты



СКОЛЬКО НОГ У ПАУКА ?

- A 6
- B 8
- B 4
- C 2




Ответ верный

- 1 талант



HEBERHO!



Сколько олимпийских колец?




- A 4
- B 5
- B 6
- C 8

1 талант






1 ТАЛАНТ



HEBERHO!!!



КАК найти периметр?



- А Надо все стороны перемножить
- Б Надо длину умножить на ширину
- В Надо длину сложить с шириной
- С Надо все стороны сложить

2 таланта




Тройка лошадей пробежала
90 км.



Сколько км пробежала каждая
лошадь?

- A) 90 км
- Б) 30 км
- В) 3 км
- С) 270 км




РЕШЕНИЕ ЗАДАЧ



Одна машина перевозит 3
бетонные плиты. Сколько
надо машин, чтобы перевести
28 таких плит?

- А 9
- Б 7
- В 10
- С 8



Какие из чисел делятся на
9:

1919, 22336, 666, 5445,
669 ?

- А) все
- Б) 1919, 669
- В) все не делятся
- С) 666, 5445




5 ТАЛАНТОВ




4 таланта


- Ответ верный



2 ТАЛАНТА



В ящике лежат красные, зеленые и белые шары.




- Сколько шаров надо взять не глядя, чтобы среди них обязательно было 2 шара одного цвета ?
- A) 4
- Б) 2
- В) 6



Один угол в
равнобедренном
треугольнике равен 140
градусов.

- Чему равны остальные углы?
- А) 40 и 40
- Б) 70 и 40
- В) 20 и 20
- Г) 90 и 30




5 ТАЛАНТОВ




2 таланта

- 200



Подсчитайте свои ТАЛАНТЫ



2 таланта

