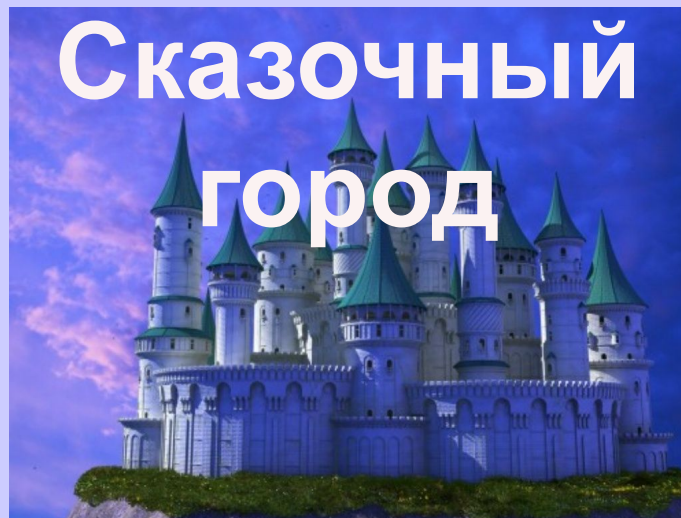


6. Пруд с
рыбками



4. Корова



5. Скала







3. Пират



2. Цветочная
поляна



1. Домик
Лесовичка



«Посмотрите
внимательно
на мой домик и скажите,
из чего он состоит»



Лесовик

«Правильно! Мой домик

ге
фи

х
те,



ПРЯМ



ОВ!»

«Прямоугольников всего
5!

Правильно! Возьмите
мою

записку! Она вам
поможет

скорее прийти к


Сказочному




Испытание №2

Цветочная поляна





ОДСК



10

21

16

15

50

БЫ

ИСА

КОРУ

АЛ

Л

**Не правильно! Будьте
внимательней! Или вы не
хотите попасть в
Сказочный
город?**



Молодцы, ребята!
Нам пора
отправляться
к следующему
испытанию!



Хотите попасть в
Сказочный
город? Тогда
попробуйте
отгадать мои
загадки!
Ха-ха-ха...

Испытание

№3

Пират



Ох, и не ожидал я, что

вы

так быстро отгадаете

мои

любимые загадочки!


Но вы молодцы!

Поэтому



Но прежде чем мы с вами
отправимся дальше по
дороге в Сказочный
город,
мы отдохнем немного и
наберёмся сил





ФИЗКУЛЬТМИНУТКА
«ЕСО – ЕСО»
ПОВТОРЯЙ ЗА МНОЙ!






























МОЛОДЦЫ!



Спасибо вам, ребята!
Я вас не пропущу, пока

Вы можете идти дальше в

Сказочный город!

Испытание

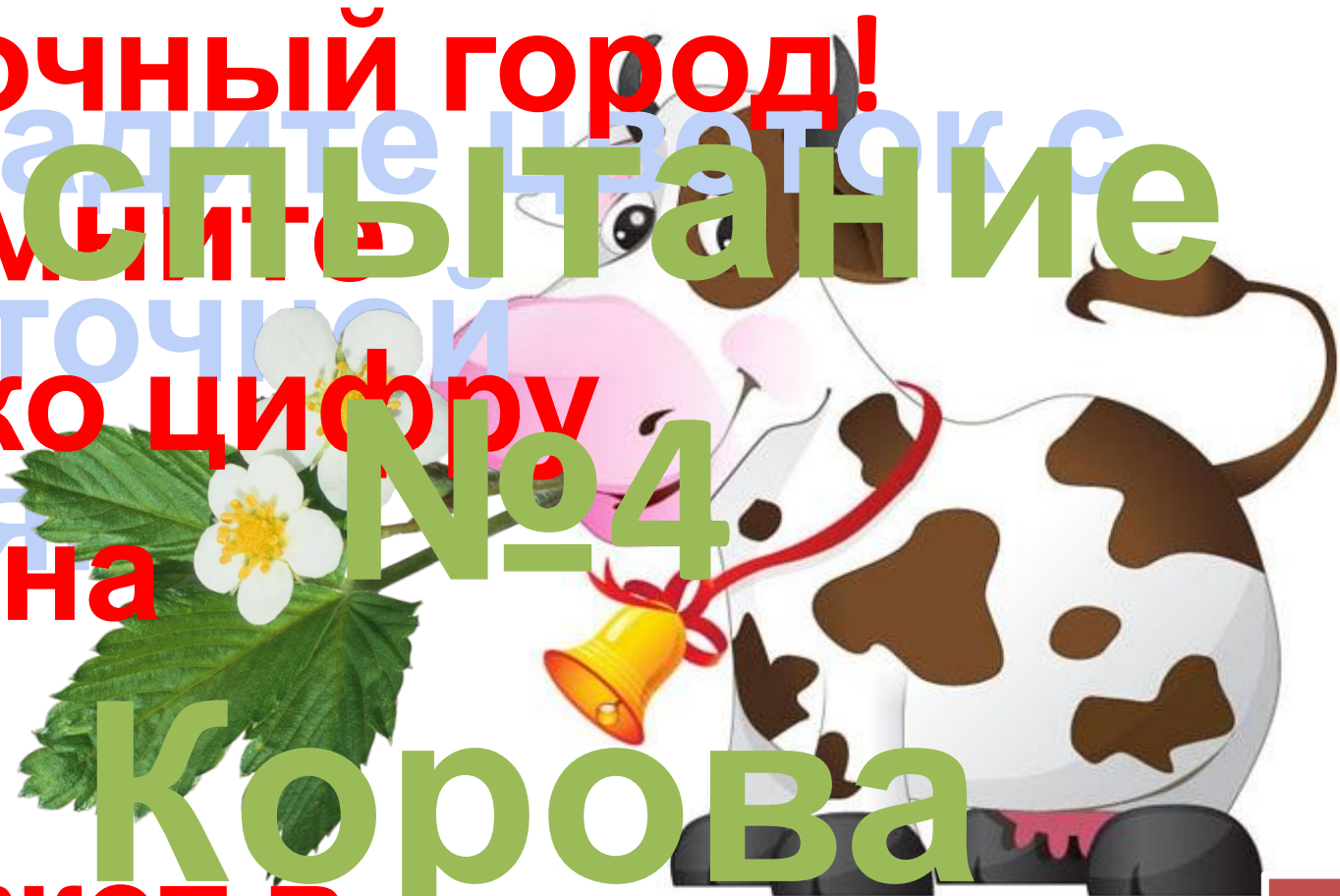
Запомните

Цветочной
только цифру

«1». Она

вам

поможет в



Испытание

№5

Скала

1



2



3



Вспомните подсказку

**Не правильно! Будьте
внимательней! Или вы не
хотите попасть в
Сказочный
город?**



Молодцы, ребята!

Нам пора

отправляться

к следующему

испытанию!



На картинках вы сейчас

увидите 5 золотых рыбок.

$2+49$



$8+43$

Но только одна из них

Испытание

по-настоящему

волшебная.

№6

Сумма чисел в примере

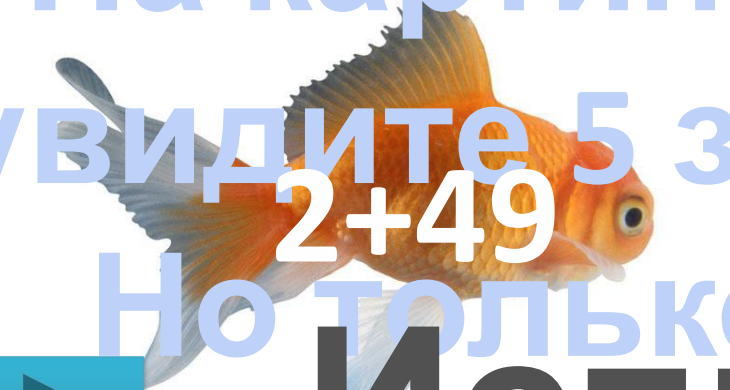
$30+21$

$5+47$

Пруд с

5 волшебной золотой

рыбками



**Не правильно! Будьте
внимательней! Или вы не
хотите попасть в
Сказочный
город?**



Молодцы, ребята!

**Теперь вы
можете загадать
желание и скорее
попасть в
Сказочный город!**



**Но оно не исполнится до тех
пор, пока вы не разгадаете
Математический кроссворд.**

Р $58+32$

Д $48-13$

Н $80-16$

И $35+15$

Ш $20+19$

К $50+13$

А $60-12$



Как зовут этого сказочного

63 48 90 персонажа? 48 64 15 48 39 50 63

К А Р А Н Д А Ш И

**Добро пожаловать в
Сказочный город! Вы
дошли
до нашего города, а это
значит,
что вы прошли все
испытания!
Вы все молодцы!**



**И самым смелым и
отважным ребяткам 2**

«А»

**класса мы дарим
сувениры**

