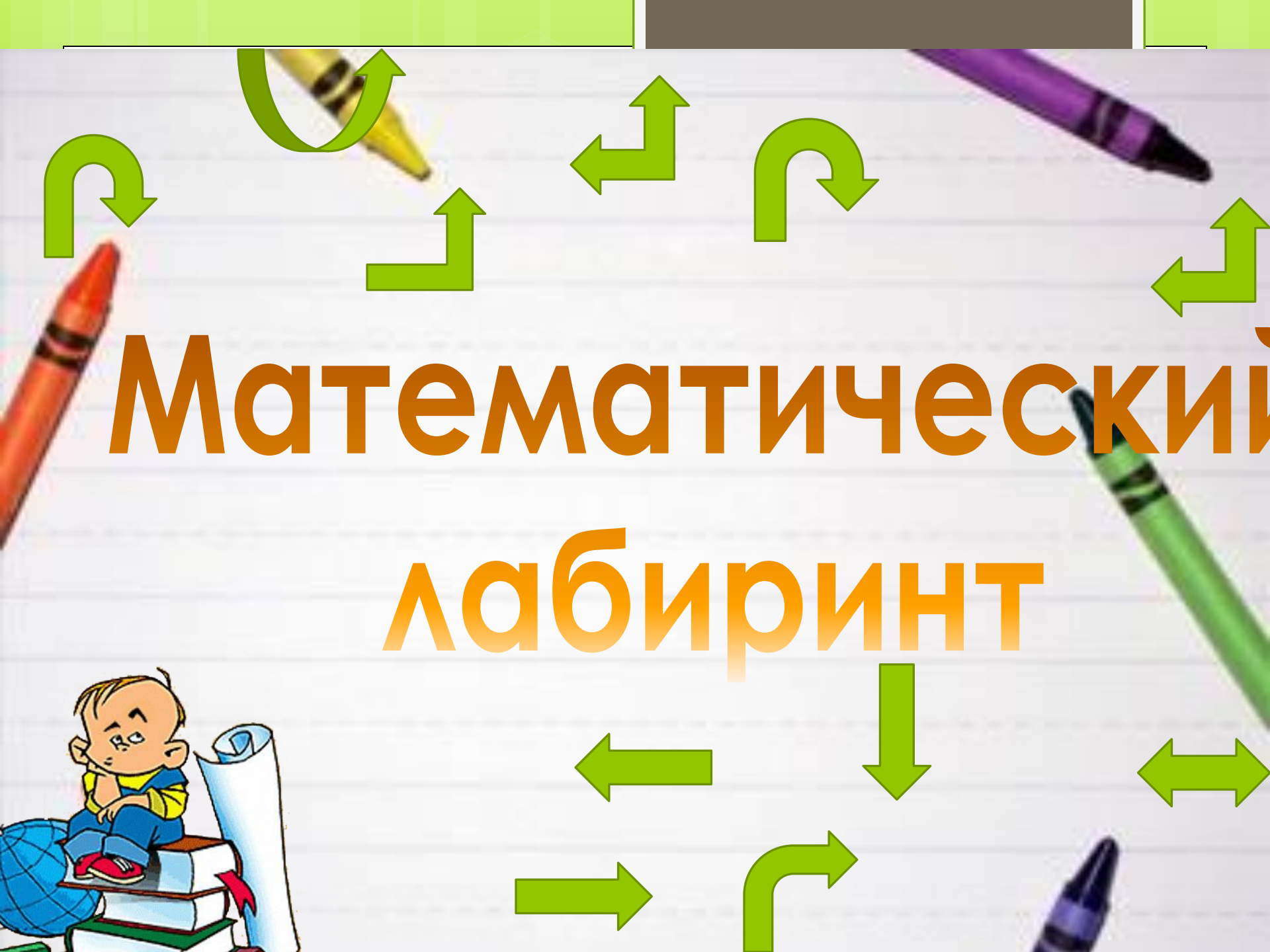


# Математический лабиринт




# КОМАНДЫ



**«Эрудиты» «Знатоки»**

# 1. СТАНЦИЯ «Соображай-ка»

- Разминка для ума)
- «Математическая разминка»



# Математическая разминка

Расставь знаки действий и, если надо, скобки так, чтобы выражения были верными

1 команда

$$5 \ 5 \ 5 \ 5 = 2$$

$$3 \ 3 \ 3 \ 3 \ 3 = 13$$

$$7 \ 7 \ 7 \ 7 = 9$$

2 команда

$$5 \ 5 \ 5 \ 5 = 9$$

$$5 \ 5 \ 5 \ 5 \ 5 = 31$$

$$7 \ 7 \ 7 \ 7 = 35$$

# Математическая разминка

Расставь знаки действий и, если надо, скобки так, чтобы выражения были верны

1 команда

$$5 : 5 + 5 : 5 = 2$$

$$3 \times 3 + 3 + 3 : 3 = 13$$

$$(7 + 7) : 7 + 7 = 9$$

2 команда

$$5 + 5 - 5 : 5 = 9$$

$$5 \times 5 + 5 + 5 : 5 = 31$$

$$7 \times 7 - (7 + 7) = 35$$

## 2. СТАНЦИЯ «Внимательная»

### □ «Остров задач»

# Пустыня Чисол



### 3. СТАНЦИЯ «Угадай-ка»

□ «Назови слова на букву...»

□ «Разгадай кроссворд»





# Замени предложения одним словом, связанным с математикой

**1 команда**


**Слова на букву**

**«К»**

**2 команда**

**Слова на букву**

**П**






# Разгадай Кроссворд

По  
горизонтали:

1. Действие, обратное умножению.
2. Знак, показывающий отсутствие единиц какого-либо разряда.
3. Название знака действия.
4. Наименьшее однозначное число.



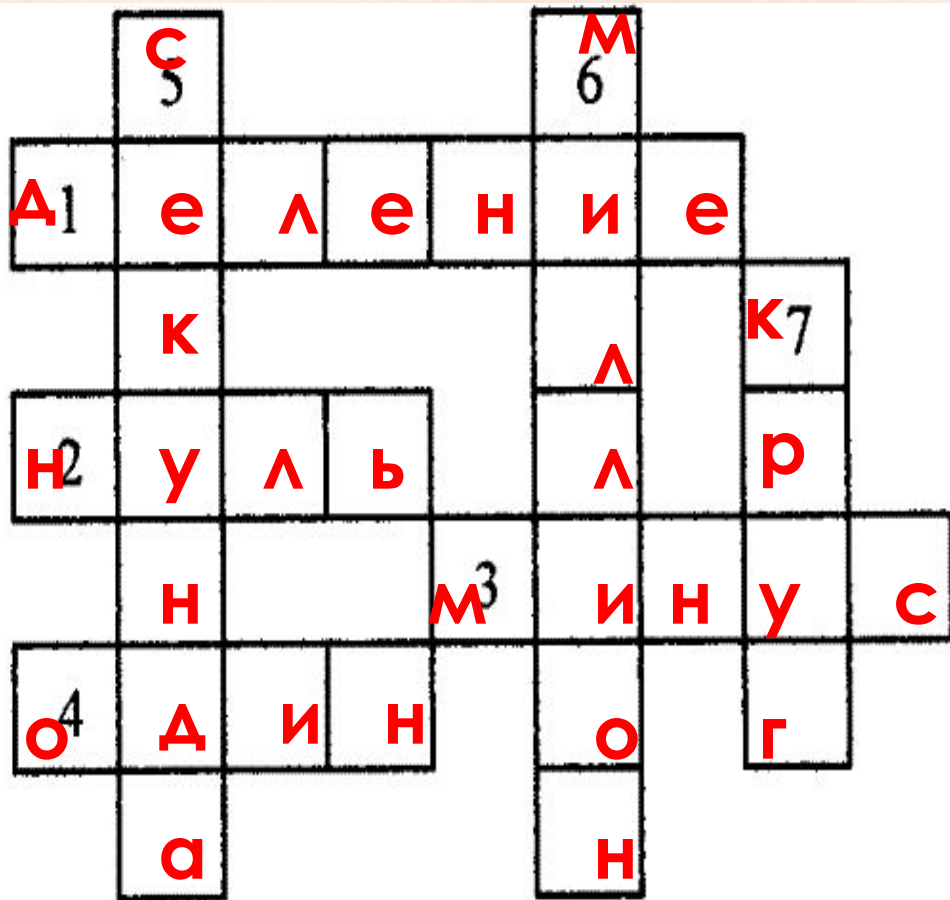
По  
вертикали:

5. Наименьшая единица времени.
6. Число, выраженное единицей шестого разряда.
7. Фигура, ограниченная окружностью.

# Разгадай крессворд

По  
горизонтали:

1. Действие, обратное умножению.
2. Знак, показывающий отсутствие единиц какого-либо разряда.
3. Название знака действия.
4. Наименьшее однозначное число.



По  
вертикали:

5. Наименьшая единица времени.
6. Число, выраженное единицей шестого разряда.
7. Фигура, ограниченная окружностью.

4 страница «Сказочная»

# ПОВЕЩАНИЕ ЗЛЫХ ОШИБОК





# 5 станция «Игровая»

«Гонка за лидером»

Конкурс «Сосчитайка»



# МОЛОДЦЫ!

