


# *Математический базар*



Хутиева Фатима Станиславовна учитель начальных классов  
МКОУ СОШ №2 им. А.Н. Кесаева г. Дигоры Дигорского района РСО-Алания



# ПИФАГОР





# Разминка

1

1

10

3

9

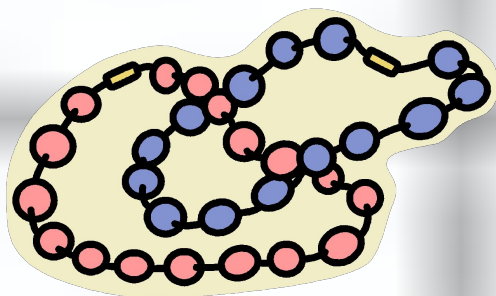
5





# Математические бусы

3





# Математические бусы

1 класс

$$2 + 3 - 1 + 4 - 2 = 4$$

2 класс

$$\begin{matrix} 1 \\ 2 \end{matrix} + \begin{matrix} 1 \\ 0 \end{matrix} \cdot 8 - \begin{matrix} 2 \\ 0 \end{matrix} + \begin{matrix} 3 \\ 0 \end{matrix} = \begin{matrix} 4 \\ 0 \end{matrix}$$

3 класс

$$\begin{matrix} 6 \\ 5 \end{matrix} + \begin{matrix} 3 \\ 0 \end{matrix} \cdot 5 - \begin{matrix} 7 \\ 0 \end{matrix} + \begin{matrix} 1 \\ 1 \end{matrix} = \begin{matrix} 6 \\ 0 \end{matrix}$$

4 класс

$$\begin{matrix} 1 \\ 2 \\ 0 \end{matrix} + \begin{matrix} 3 \\ 0 \end{matrix} \cdot \begin{matrix} 1 \\ 0 \end{matrix} - \begin{matrix} 2 \\ 0 \end{matrix} + \begin{matrix} 1 \\ 0 \\ 0 \end{matrix} = \begin{matrix} 2 \\ 0 \\ 0 \end{matrix}$$







# *Быстро и правильно отвечай*

2





*Что означают эти  
выражения?*

4





*Одна нога здесь,  
другая –там.*

*Как свои пять  
пальцев.*

*На все четыре  
стороны.*

*От горшка два  
вершка.*







# Отгадай ребус

5





*С З Ж*

*ВИ З НА*

*ВО 100 К*

*ПРО 100 Р*





# Сказочный



6







# Задачки в стихах.

7





*Собери пословицу.*

8







СЕМЬ      ОТРЕЖЬ

- ОДИН      РАЗ

ОТМЕРЬ

ГОЛОВА      ОДНА

ХОРОШ  
О      ЛУЧШЕ

, А      ДВЕ

ЛУЧШЕ      СТО      РАЗ

УВИДЕТЬ      УСЛЫШАТЬ

, ЧЕМ      РАЗ      ОДИН

ВЛЕТЕЛО      -  
ВЫЛЕТЕЛО

В      УХО      ДРУГОЕ

ОДНО      , В





*Семь раз  
отмерь –  
один отрежь.*

*Одна голова  
хорошо, а две  
лучше.*

*Лучше один раз  
увидеть, чем  
сто раз  
услышать.*

*В одно ухо  
влетело, в другое  
- вылетело.*





*Прояви смекалку.*

9








*1. В доме 7  
этажей.  
Какой этаж  
средний?*

*2. На полке 9 пар  
сапог. Сколько  
сапог на правую  
ногу?*

*3. Как найти  
середину палки,  
имея веревку  
такой же  
длины?*



*4. Подрисуйте к  
квадрату два  
треугольника так,  
чтобы получился  
треугольник.*





# *Подведение итогов.*

