

Ворота Мории



Фродо подошёл к воротам, на которых была надпись: «Скажи, и войдёшь!»



Расшифруй, как звучит слово «друг» на эльфийском наречии, расположи числа в порядке возрастания.

$$895 - (273 + 289) = \text{Л}$$

$$\text{Э} : 2 \times 4 = \text{О}$$

$$7 \times 9 + 6 \times 8 = \text{М}$$

$$360 : 4 + 132 = \text{Э}$$

$$11 \times 5 + 100 \times 5 = \text{Н}$$

111		333	333		


От этих до
Восточных
ворот 40 лиг.

Сколько
это в
километра
х и
метрах?



1 лига=240 м.

Из пещеры вела лестница из 8 пролётов по 37 ступеней в каждом. По ней герои вышли в зал с 3 выходами:



ГЕНДАЛЬФ знал, что нужно выбрать знак – остаток от деления числа ступенек на 3. Выберите правильный выход.

Хранители кольца обнаружили книгу, в которой была запись о гибели отряда гномов. Гимли дал ключ к

фривке дате





$$\Sigma \times \Delta = 56$$

$$\begin{array}{r}
 \overset{\curvearrowright}{\Sigma} \overset{\curvearrowright}{\Delta} \overset{\curvearrowright}{\Sigma} \\
 + \\
 \Sigma \Sigma \Sigma \\
 \hline
 10 \Delta 0
 \end{array}$$

$$\overset{\curvearrowright}{\Sigma} - \Omega \Omega = \Sigma + \Delta$$

Чтобы победить силу кольца нужно
выбрать пару символов, выбитых на
камне. Набери все возможные

комбинации:





БЛАГОДАРИМ ЗА ПОМОЩЬ!

ИНТЕРНЕТ - РЕСУРСЫ

<http://im3-tub-ru.yandex.net/i?id=180060662-35-72&n=21>

http://images.yandex.ru/yandsearch?p=3&text=%D0%BA%D0%B0%D1%80%D1%82%D0%B81&rpt=simage&img_url=http%3A%2F%2Fwww.oocities.org%2Fstrawberryff%2Fmoria-gate.jpg

http://soraza.ru/to/19/vlastelin_kolec_geroi_kadr_iz_filma_1680x1050.jpg

<http://cs411028.userapi.com/v411028464/4dbb/eVXcDwjdkB4.jpg>

<http://im2-tub-ru.yandex.net/i?id=657855206-37-72&n=21>

http://dreamworlds.ru/uploads/posts/2009-06/thumbs/1246275684_wpl305.jpg