

ВСЕРОССИЙСКИЕ ПРОВЕРОЧНЫЕ РАБОТЫ

ВПР

2020

ВПР по математике

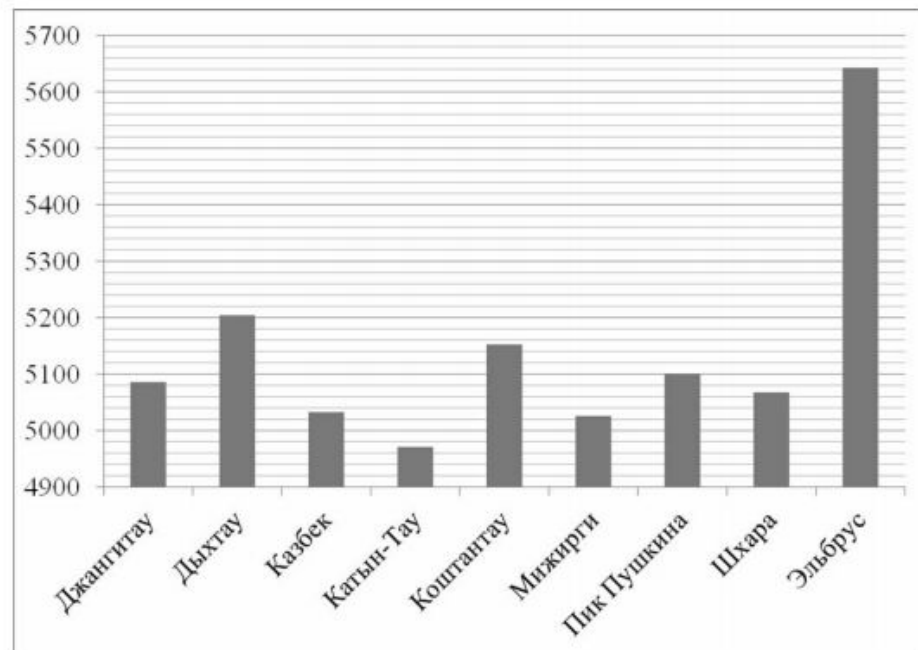
5 класс

Задание 11



11

На диаграмме показаны высоты девяти самых высоких гор России. По вертикали указана высота в метрах над уровнем моря, по горизонтали — названия гор. Пользуясь этими данными, ответьте на вопросы.



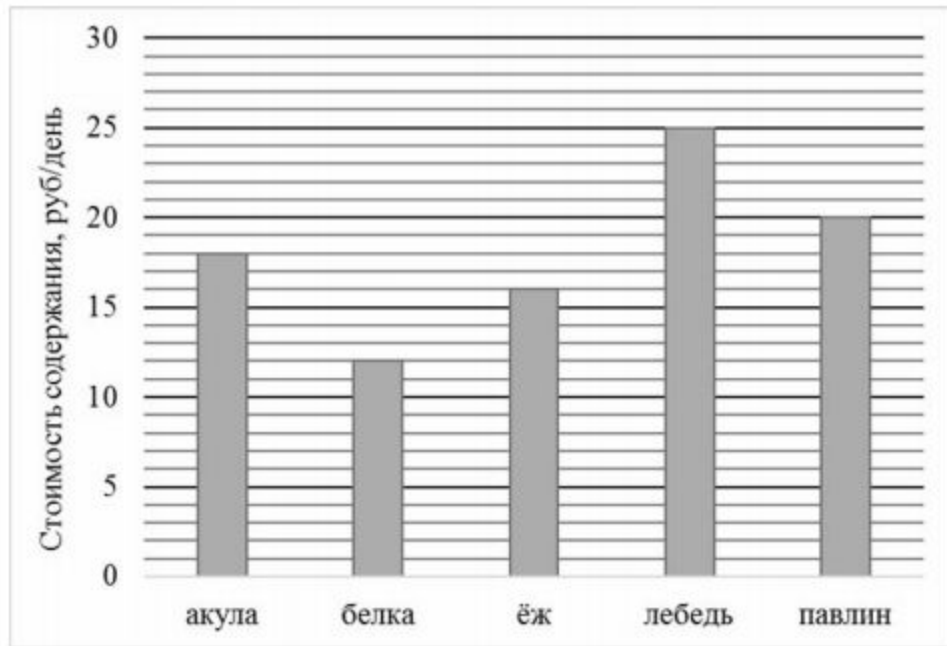
1) Сколько на диаграмме гор высотой от 5120 метров до 5260 метров?

Ответ:

2

11

Директор зоопарка рассказал, сколько рублей в день в среднем тратится на питание (содержание) различных животных в зоопарке.



1) Сколько рублей в среднем тратится в день на питание одного ежа?



Ответ:

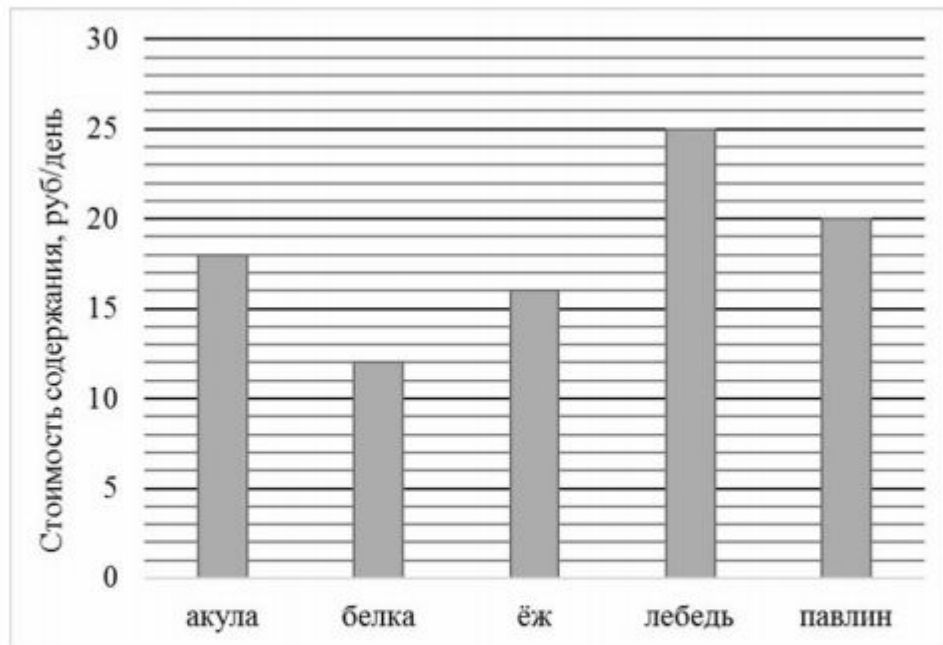
16

рублей

11

Директор зоопарка рассказал, сколько рублей в день в среднем тратится на питание (содержание) различных животных в зоопарке.

$$12 \cdot 14 = 168 \text{ руб}$$



2) Сколько рублей в среднем тратится на питание одной белки за две недели?

Ответ:

168

рублей

ИСТОЧНИКИ

- http://мошитошис.рф/sites/default/files/%21впр4_0.jpg
- <https://vpr.statgrad.org/#vpr2015-archive/>
- <https://4vpr.ru/4-klass/>