




# Урок математики в 3 классе



Математику, друзья,  
Не любить никак нельзя.  
Очень строгая наука,  
Очень точная наука,  
Интересная наука -  
Это математика!

Минутка час бережёт.

Делу время – потехе час.

Век живи – век учись.

Два часа просыпался,

Два часа умывался,

Один час утирался,

Сутки одевался.



A Ferris wheel is visible in the background, set against a bright blue sky with scattered white clouds. The wheel's structure is partially obscured by the text boxes.

Поздно поднялся - день  
потерял.

В молодости не научился – жизнь  
потерял.



Цель урока:

Закрепить ранее изученный материал по математике, расширить знания детей о времени, воспитать бережное отношение ко времени





# Задачи

1. Закрепление вычислительных навыков, знания таблицы умножения, умение решать задачи, используя действие умножения
2. Формирование представления о времени и о единицах его измерения, систематизировать знания единичных отношений между мерами времени
3. Развитие логического мышления, внимания, общей культуры

***13 января.***  
***Классная работа.***



Напишите число, которое  
находится между числами 87  
и 89.





К 8 десяткам прибавьте 4  
единицы.





Делимое 72, делитель 8,  
найдите частное.





Первое слагаемое 78, второе слагаемое 2. Чему равна сумма этих чисел?



Чему равно делимое, если делитель равен 7, а частное - 8.

Проверяем:

88, 84, 63, 9, 80, 56



Расположите числа в порядке  
возрастания

88, 84, 63, 9, 80, 56

Проверяем:

9, 56, 63, 80, 84, 88




Без ног и крыльев оно,  
Быстро летит, не догонишь его.



*Детишки определяют время по часам!*

# И УЧИТЬСЯ ИГРАЯ



*Ура  
гас гомбс*





Секунда

Минута


Час

Сутки

Неделя

Месяц

Год

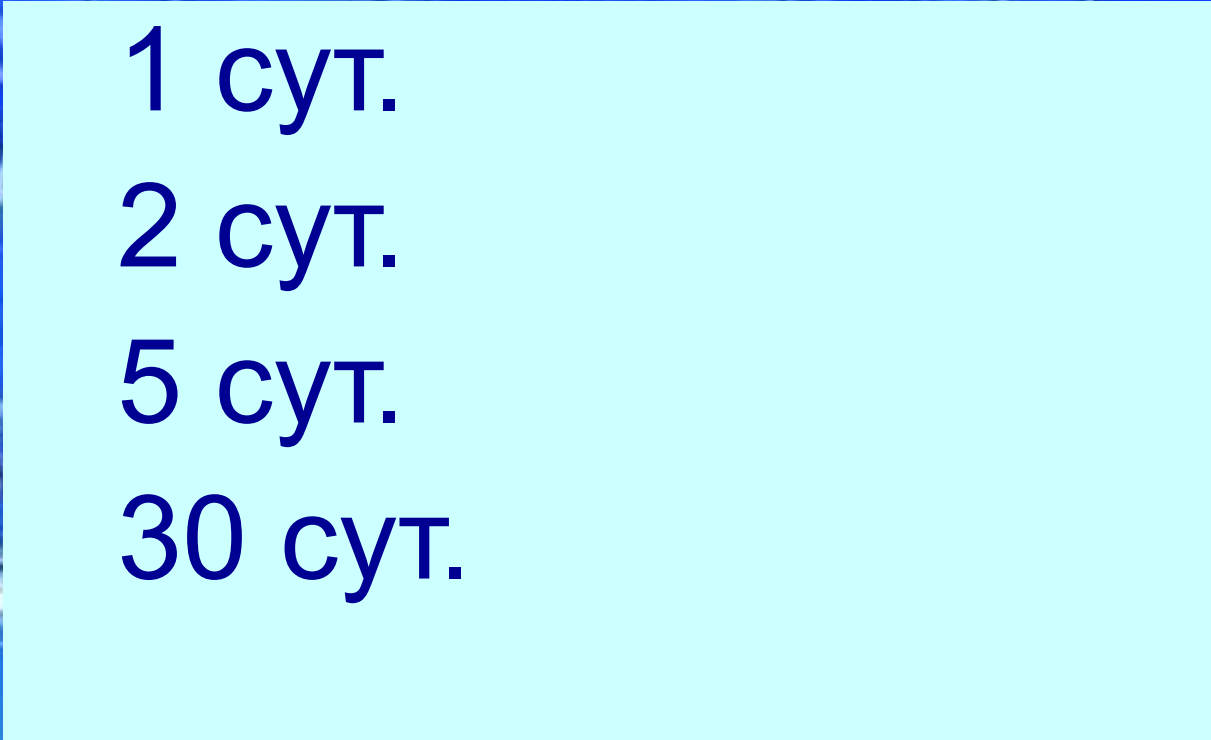


Время

© ElenArt / Фотобанк Лори



lori.ru/25



1 сут.  
2 сут.  
5 сут.  
30 сут.


Время

© ElenArt / Фотобанк Лори



[lori.ru/256666](http://lori.ru/256666)





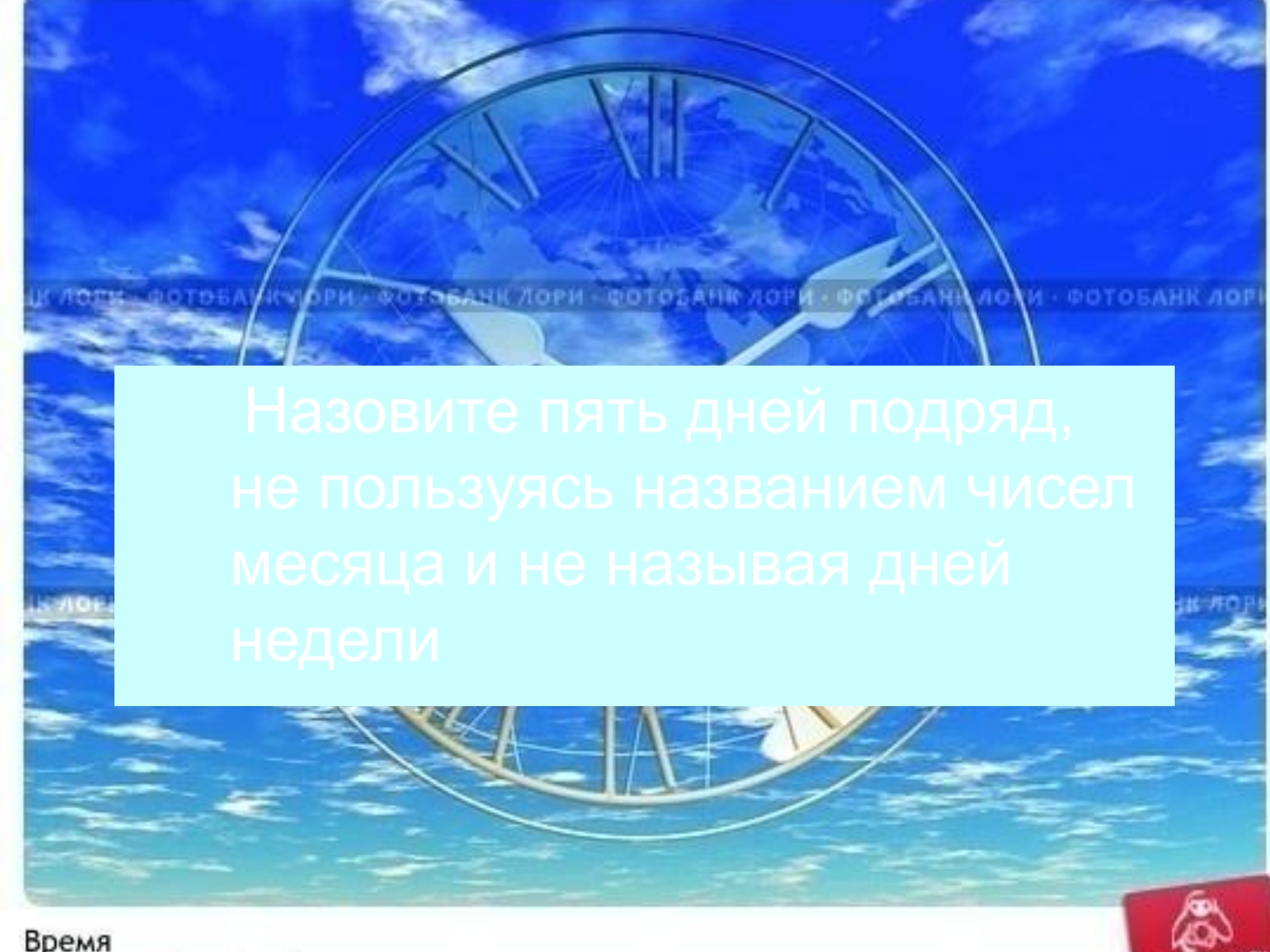
Одни сутки  
Двое суток  
Пять суток  
Тридцать суток











Назовите пять дней подряд,  
не пользуясь названием чисел  
месяца и не называя дней  
недели









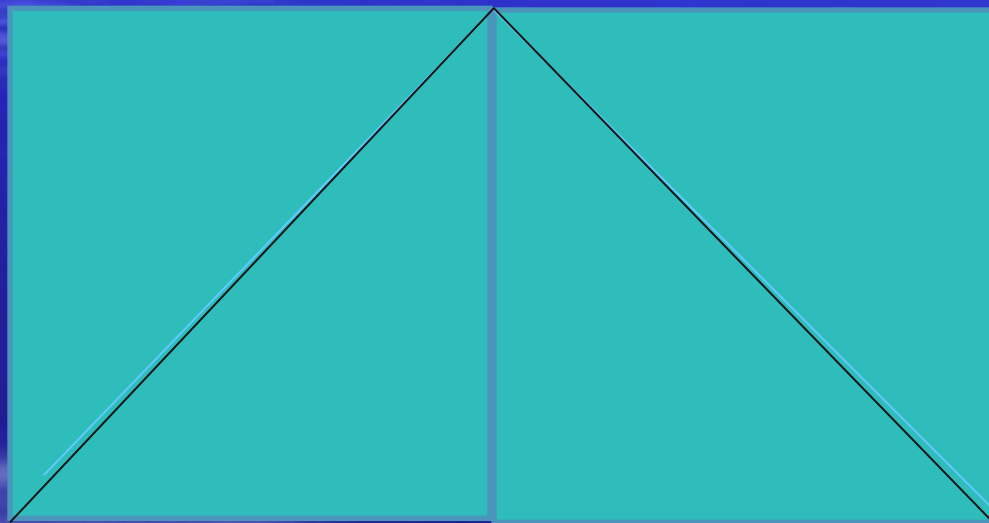









Какие фигуры вы видите на этом рисунке?  
Сколько их?



Начертите квадрат со стороной 4 см. Проведите линию так, чтобы получились четырёхугольник и треугольник.




















# Первые часы




■ Песочные часы



Водяные часы



Солнечные часы














 **NICESOFT.RU**  
прекрасный софт



Оцените изящество чудной задачи –  
сколько времени на этих часах?







## Отгадай загадки:

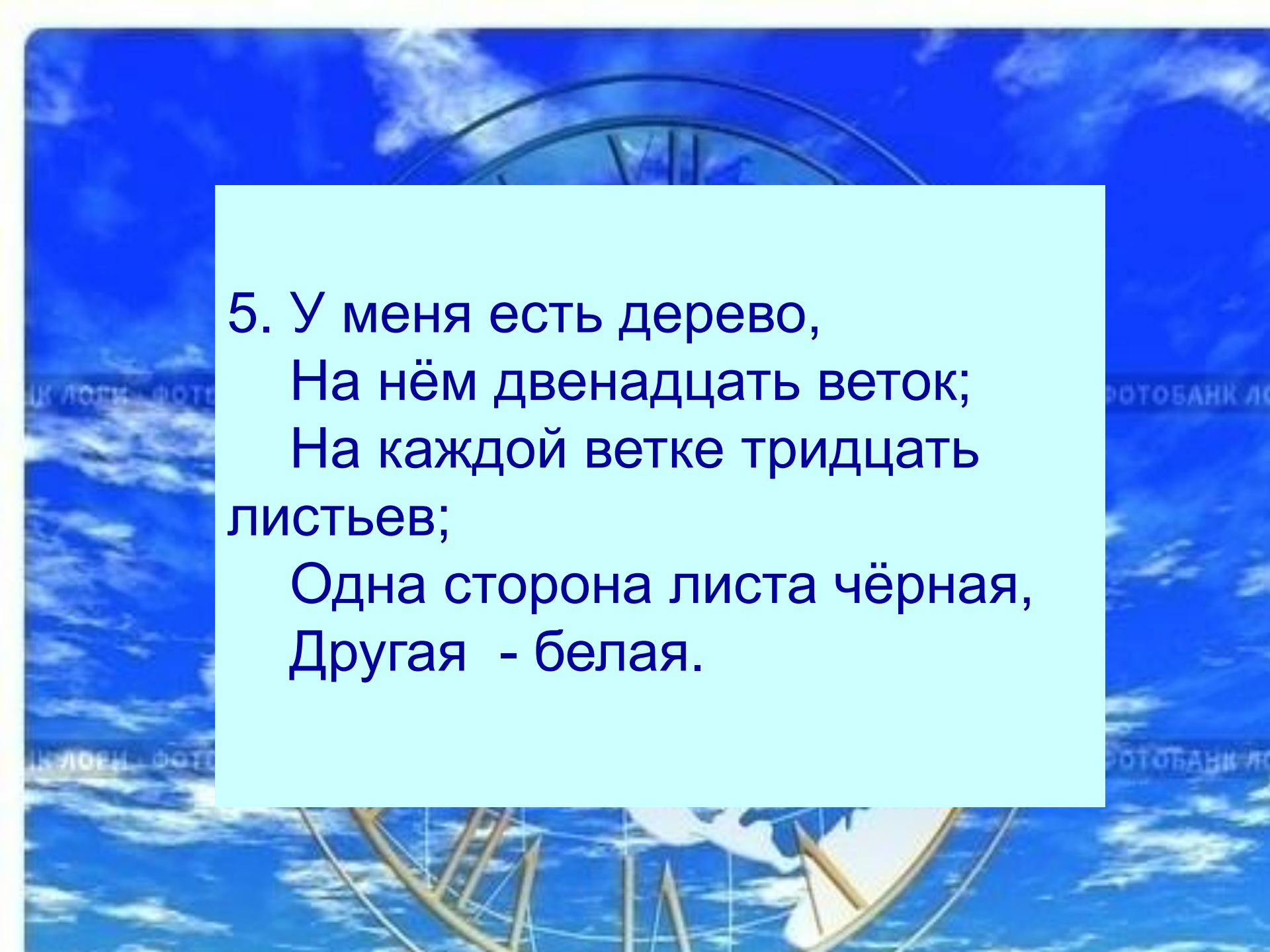
1. Что возвратить нельзя?

2. Что может в одно и то же время: стоять и ходить; висеть и стоять, ходить и лежать?

3. Две сестрицы друг за другом  
Пробегают круг за кругом:  
Коротышка – только раз,  
Та, что выше – каждый час.



4. Выходили двенадцать молодцев,  
Выносили пятьдесят два сокола,  
Выпускали 365 лебедей.



5. У меня есть дерево,  
На нём двенадцать веток;  
На каждой ветке тридцать  
листьев;  
Одна сторона листа чёрная,  
Другая - белая.



# Домашнее задание

1. Сделать макет часов.
2. Составить свой режим дня.
3. Выполнить тест № 3



