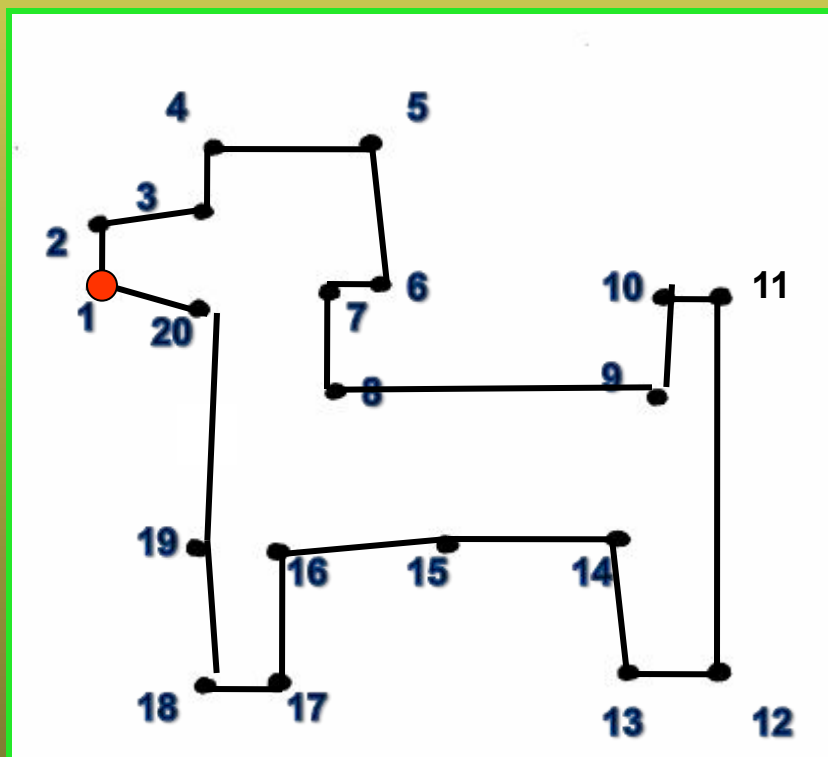




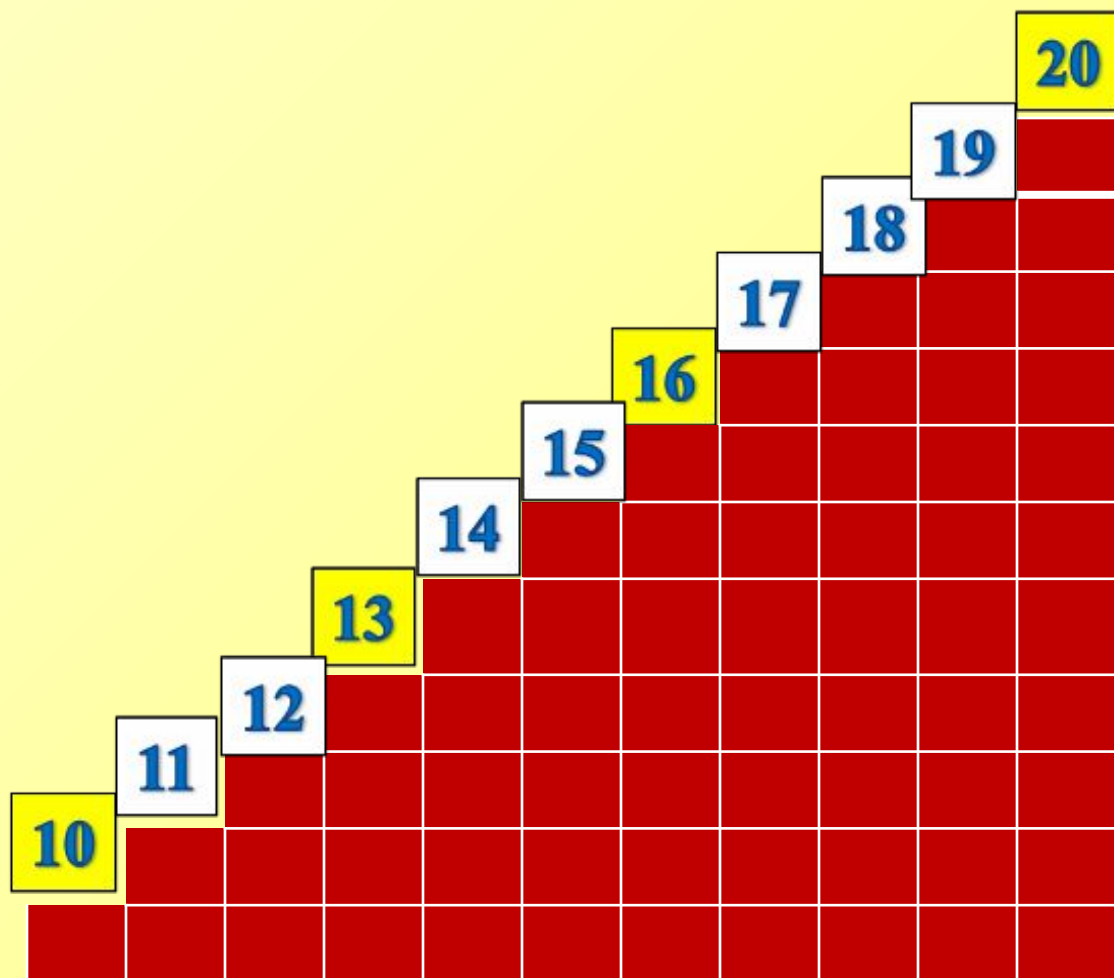
# ВТОРОЙ ДЕСЯТОК




• Соедините числа по порядку и вы узнаете, кого нарисовал Малыш



- Помогите Малышу вставить на числовой лесенке пропущенные числа








- **Помогите Карлсону сосчитать кружки в полоске**



Десять любых предметов можно  
назвать – **ОДИН ДЕСЯТОК**



- Группу каких предметов нельзя назвать «ДЕСЯТОК»?

# КРУГЛЫЕ ДЕСЯТКИ

10 = 1  
дес.

60 = 6  
дес.

20 = 2  
дес.

70 = 7  
дес.

30 = 3  
дес.

80 = 8  
дес.

40 = 4  
дес.

90 = 9  
дес.

50 = 5  
дес.

100 = 10  
дес.

□ 1

□□□□□□□□□□■ 10 и 1, или 10 + 1

■  
□□□□□□□□□□  
Один на десять  
Одиннадцать

■ ■  
□□□□□□□□□□  
Два на десять  
Двенадцать

■ ■ ■  
□□□□□□□□□□  
Три на десять  
Тринадцать

■ ■ ■ ■  
□□□□□□□□□□  
Четыре на десять  
Четырнадцать

■ ■ ■ ■ ■  
□□□□□□□□□□  
Пять на десять  
Пятнадцать

■ ■ ■ ■ ■ ■  
□□□□□□□□□□  
Шесть на десять  
Шестнадцать

■ ■ ■ ■ ■ ■ ■  
□□□□□□□□□□  
Семь на десять  
Семнадцать

■ ■ ■ ■ ■ ■ ■ ■  
□□□□□□□□□□  
Восемь на десять  
Восемнадцать

■ ■ ■ ■ ■ ■ ■ ■ ■  
□□□□□□□□□□  
Девять на десять  
Девятнадцать

■ ■ ■ ■ ■ ■ ■ ■ ■ ■  
□□□□□□□□□□  
Два десятка  
Двадцать

$$11 = 10 + 1$$

$$16 = 10 + 6$$

$$12 = 10 + 2$$

$$17 = 10 + 7$$

$$13 = 10 + 3$$

$$18 = 10 + 8$$

$$14 = 10 + 4$$

$$19 = 10 + 9$$

$$15 = 10 + 5$$

$$20 = 10 + 10$$



- Какие числа получились?

<b>Десятки</b>	<b>Единицы</b>
	
<b>1</b>	<b>1</b>
	
<b>1</b>	<b>2</b>
	
<b>1</b>	<b>3</b>

$$10 + 2$$

$$10 + 3$$

$$10 + 4$$

$$10 + 5$$

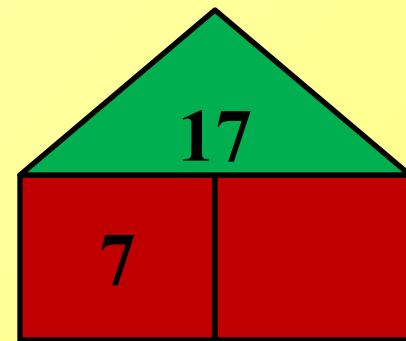
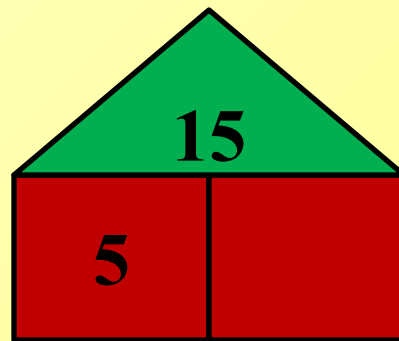
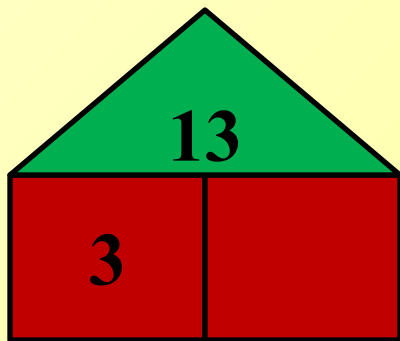
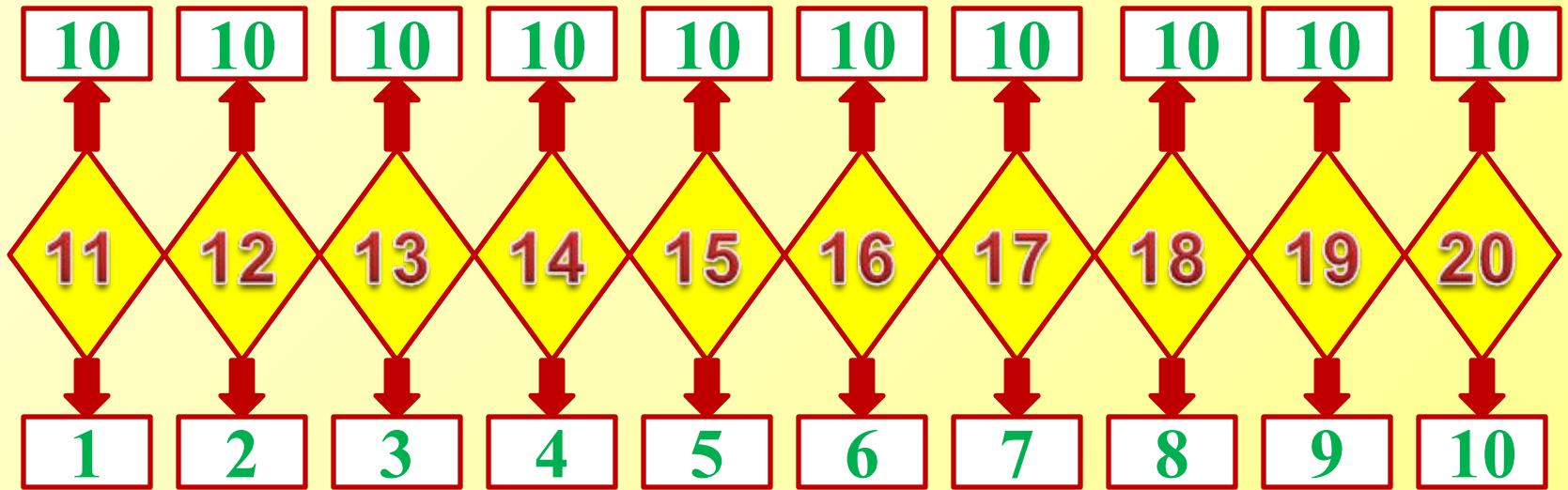
$$10 + 6$$

$$10 + 7$$

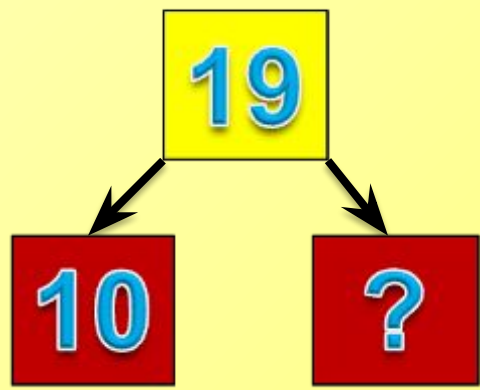
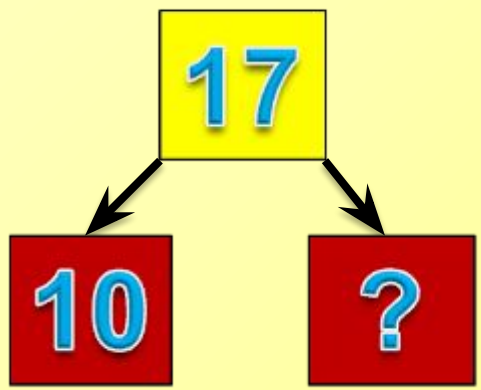
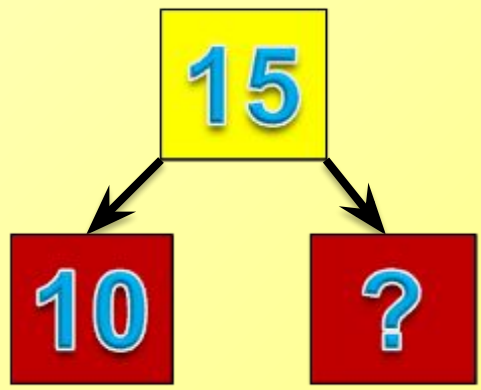
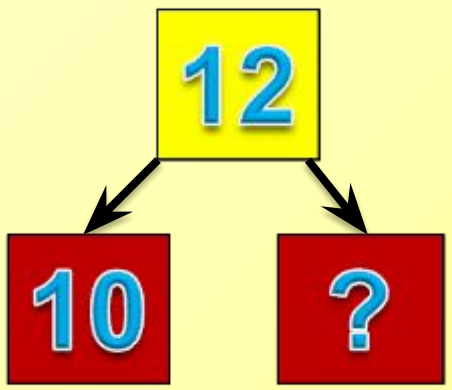
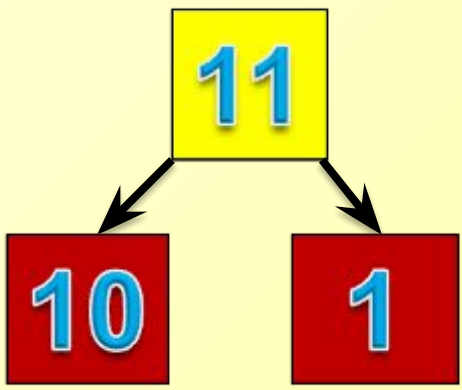
$$10 + 8$$

$$10 + 9$$

$$10 + 10$$



- Разложите двузначные числа на разрядные слагаемые



# Помогите Карлсону составить картинку

## Какая картинка лишняя?



16

19

12

17

14

11



$$10 + 2 = 12$$



$$10 + 6 = 16$$



$$10 + 7 = 17$$



$$10 + 9 = 19$$



$$10 + 8 = 18$$




$$10 + 1 = 11$$



$$10 + 4 = 14$$



# Вот что получилось!





- **Помогите Карлсону решить примеры:**



$10 + 3 = 13$

$10 + 6 = 16$

$10 + 9 = 19$

$10 + 4 = 14$

$10 + 2 = 12$

$10 + 5 = 15$

**СПАСИБО!  
МОЛОДЦЫ!!!**

