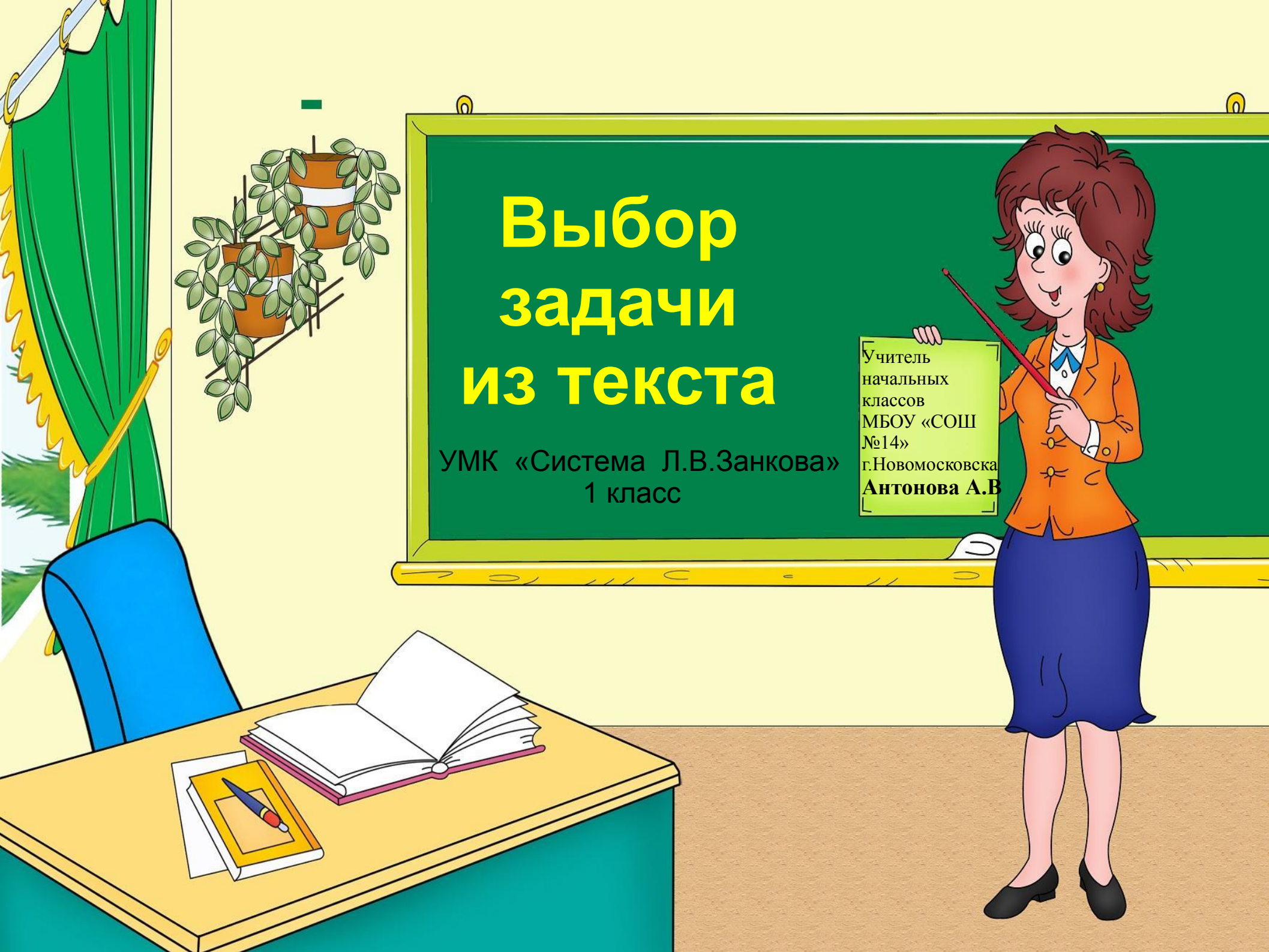


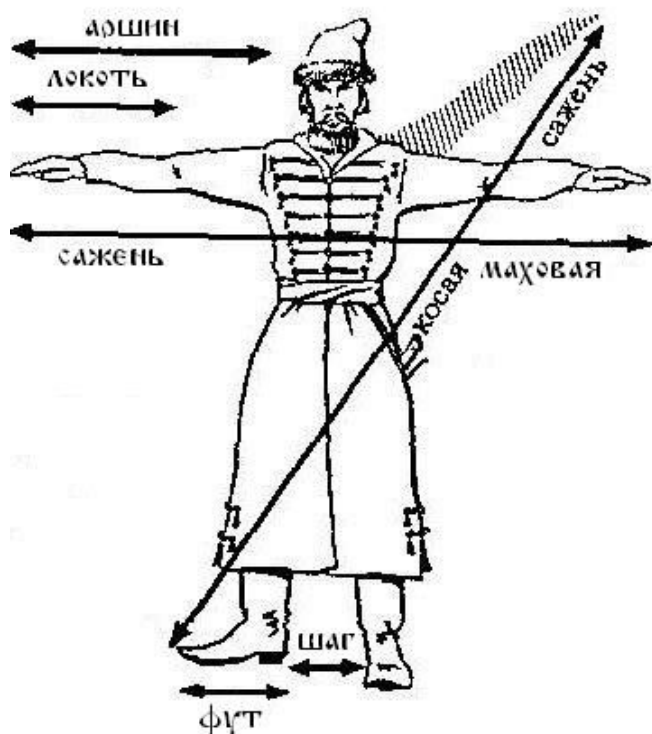
# Выбор задачи из текста

УМК «Система Л.В.Занкова»  
1 класс

Учитель  
начальных  
классов  
МБОУ «СОШ  
№14»  
г.Новомосковска  
**Антонова А.В.**



*Не на меру, не на вес,  
А у всех людей он есть.*




?




*Какой рисунок «лишний» ?*



1



2



3



4



5



3 6 9 7 1 5

Ч Д З А А А



9 7 6 5 3 1

ЗАДАЧА

**1.**

**Сколько  
морковок  
было у  
зайчика?**



**3.**

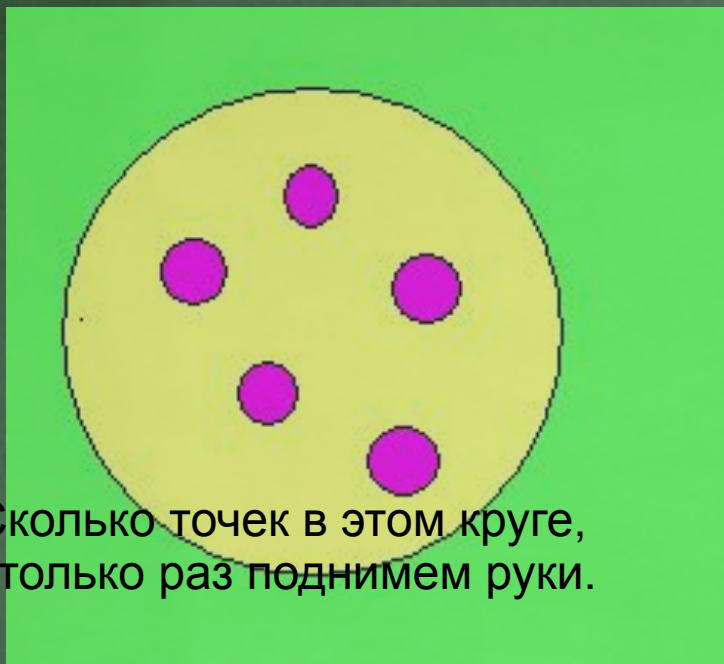
**Зайчик уронил  
1 морковку. У него  
осталось ещё 5. Сколько  
морковок было у зайчика  
сначала?**

**2.**


**Зайчик уронил  
1 морковку. У него  
осталось ещё 5. Всего  
было 6 морковок.**

**4.**


**У зайчика 4 морковки и 2  
яблока. На сколько капусты  
больше, чем морковок?**




Сколько точек в этом круге,  
столько раз поднимем руки.



Сколько здесь кружков,  
столько сделаем прыжков.



Сколько елочек зеленых,  
столько сделаем наклонов.



Дружно звездочки считаем,  
столько вместе приседаем.

**№88** *Выбери из трёх текстов задачу.*

**а)** На ладонь упали снежинки. Потом ещё несколько снежинок.

**Сколько дней продолжался снегопад?**

**б)** На ладонь упало 4 снежинки. Потом ещё 2 снежинки. Была зима.

**в)** На ладонь упало 4 снежинки. Потом ещё 2 снежинки. **Сколько всего снежинок упали на ладонь?**



$5 - 2 = 3$

$7 - 5 = 2$

$6 - 0 = 6$

$9 - 2 = 5$

$9 - 8 = 1$

$8 - 4 = 5$

$8 - 6 = 1$

$0 - 0 = 2$

$9 - 5 = 2$

$8 - 7 = 2$

*Найдите неверные равенства. Измени в них уменьшаемое, чтобы получились верные равенства.*

*Найдите неверные равенства, подчеркните их красным карандашом. Исправьте значения.*



**СПАСИБО ЗА РАБОТУ!**

