

$$1 \text{ дм } 4 \text{ см} = 14 \text{ см}$$

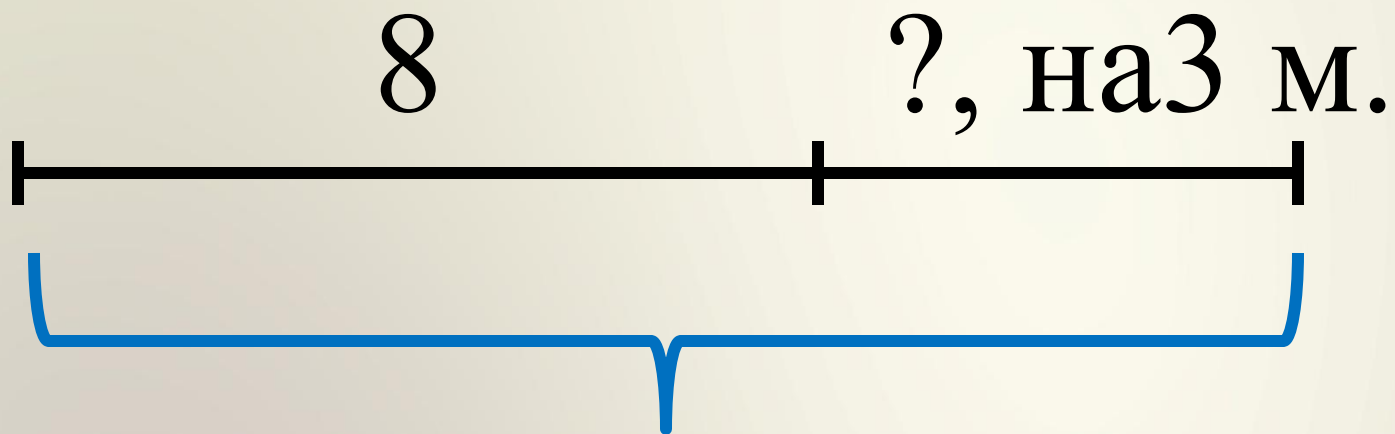
$$2 \text{ дм} > 12 \text{ см}$$

$$11 \text{ см} > 1 \text{ дм}$$

$$1 \text{ дм } 3 \text{ см} < 16 \text{ см}$$

$$19 \text{ дм} > 19 \text{ см}$$

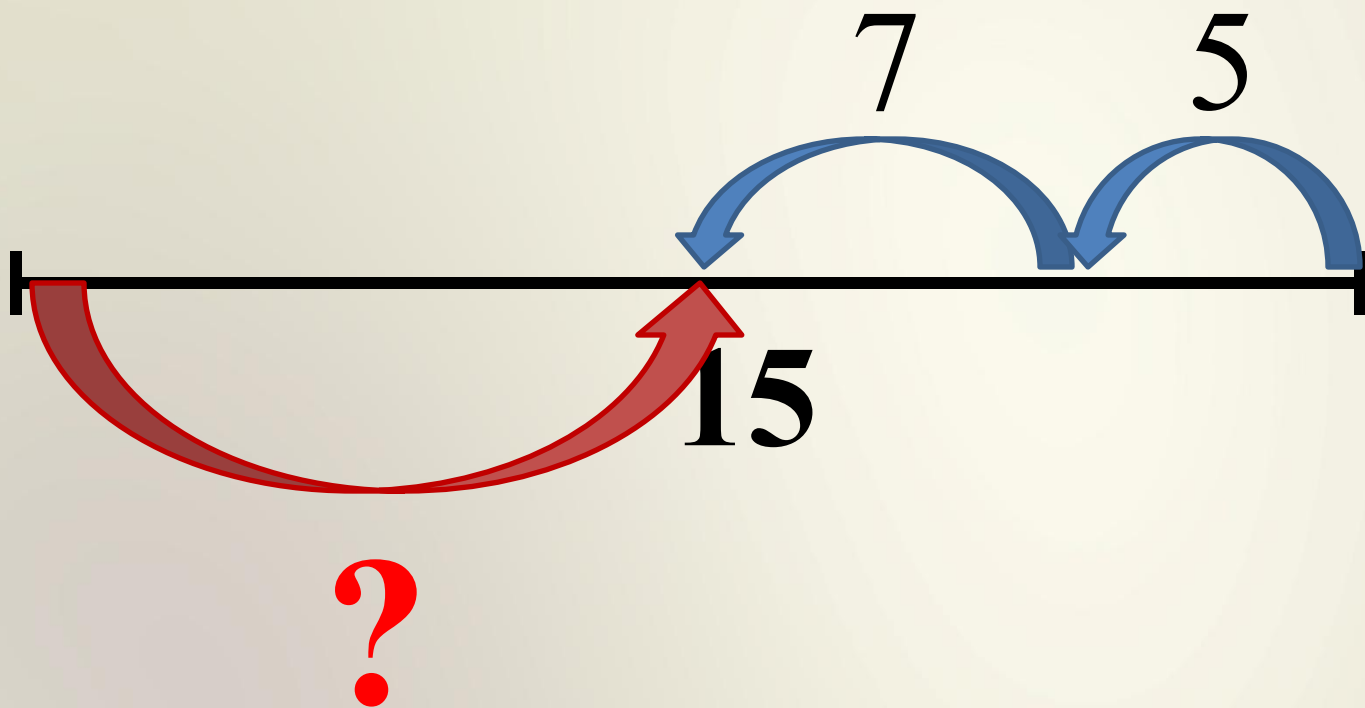




?

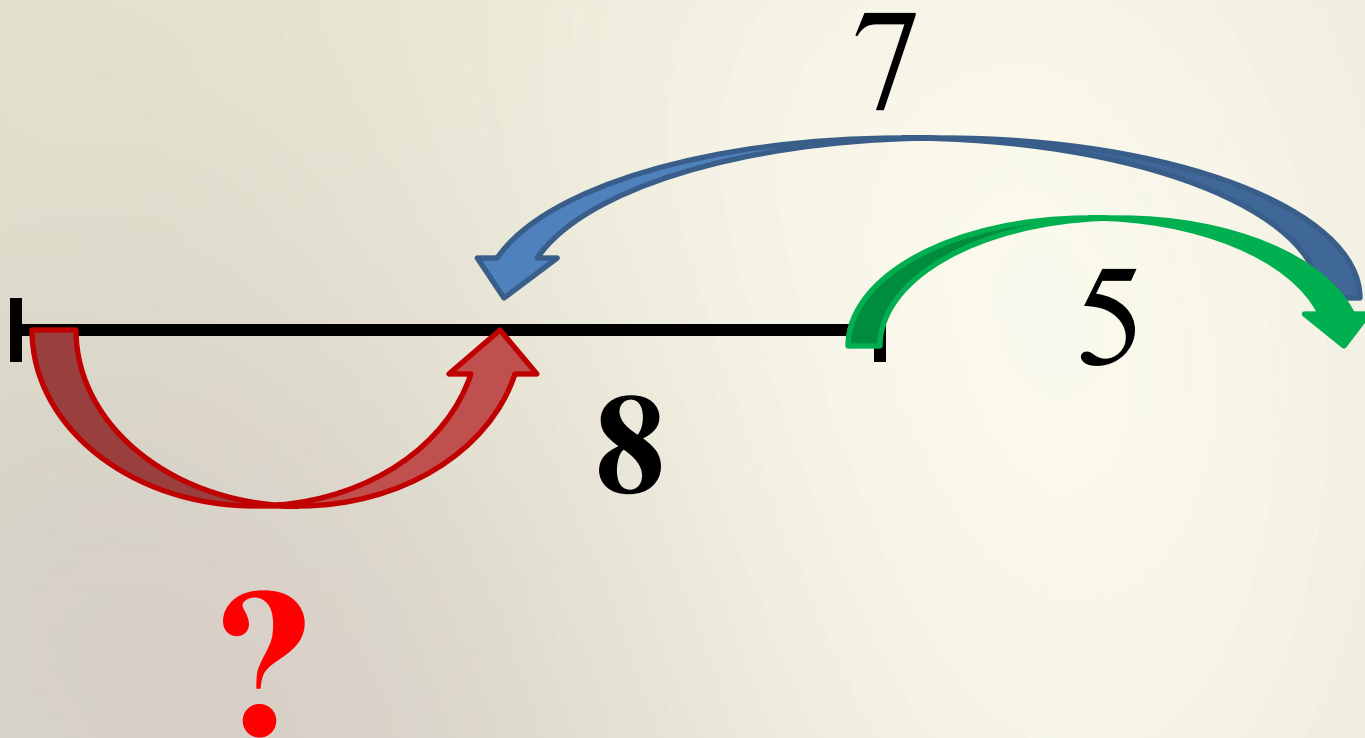
$$8 - 3 + 8 =$$





$$15 - 5 - 7 =$$





$$8 + 5 - 7 =$$



10

11

13



$$\left. \begin{array}{l} \text{Ваня} - 7 \\ \text{Таня} - 5 \end{array} \right\} ?$$

У Вани 7
конфет, у Тани 5
конфет. На
сколько конфет
у Вани больше,
чем у Тани?

$$\begin{array}{l} \text{Ваня} - 7 \\ \text{Таня} - 5 \end{array} \begin{array}{c} \updownarrow \\ \text{на ?} \end{array}$$



**Купили 6
красных шара, а
синих на 4
больше.
Сколько шаров
купили?**

К. – 6

С. - ?, на 4 б.

} **?**

К – 6

С. - ?, на 4 б.



$$6 + 5 \underline{\quad} 11$$

<

$$12 - 4 \underline{\quad} 7$$

<

$$13 - 7 \underline{\quad} 7$$

>

$$8 + 5 \underline{\quad} 12$$

>

$$11 - 3 \dots 9$$



На стоянке стояло
12 машин. Когда
несколько машин
уехало, то осталось
7 машин. Сколько
машин уехало?

На стоянке стояло
7 машин и 12
автобусов. На
сколько автобусов
стояло больше, чем
машин?

$$\bullet 5 + 7 = 12$$

$$\bullet 12 - 7 = 5$$

$$\bullet 12 - 5 = 7$$

$$\bullet 7 - 5 = 2$$

$$\bullet 7 + 5 = 12$$

$$\bullet 12 + 7 = 19$$



На столе стояло 7
глубоких тарелки
и 4 мелких.

На столе стояло 7
глубоких тарелки,
а мелких на 4
меньше.

- Сколько тарелок
стояло на столе?
- На сколько
глубоких больше,
чем мелких?
- Сколько мелких
тарелок на
столе?
- Сколько тарелок
осталось?



$$8 + 5 \underline{\underline{=}} 13$$

<

$$12 - 4 > 7$$

<

$$13 - 8 < 6$$

>

$$8 + 8 > 15$$

>

$$11 - 8 \dots 4$$



$$12 - 3 = 9$$

$$8 + 5 = 13$$



$$9 + \textcolor{red}{2} = 11$$

13

$$16 - \textcolor{red}{9} = 7$$

4

$$13 - \textcolor{red}{7} = 6$$

11

$$7 + \textcolor{red}{5} = 12$$

9

$$5 + \textcolor{red}{6} = 11$$

11

$$14 - \textcolor{red}{8} = 6$$

9

□ В магазине 11 телевизоров, за день продали 5 телевизоров. Сколько телевизоров осталось?

$$11 + 5 = 16$$

$$11 - 6 = 5$$

□ Брату 5 лет, а сестре 11 лет. На сколько лет брат младше сестры?

$$11 - 5 = 6$$

$$5 + 6 = 11$$



$$9 + 7 = 16$$

5

$$12 - 8 = 4$$

$$6 + 7 = 13$$

11

$$11 - 4 = 7$$

$$5 + 7 = 12$$

7

$$14 - 7 = 7$$

$$12 - 7 = 4$$

**У Ани 6 рублей,
а у Оли на 4
рубля меньше.
Сколько денег у
девочек?**

**Ваня решил
задачу так**

$$6 - 4 = 2(\text{р.})$$

у Оли.

$$6 + 2 = 8 (\text{р.})$$

у девочек.








**У Тани было 10
рублей. Когда
она купила
ручку, у неё
осталось 3
рубля. Сколько
стоит ручка?**








**Валя решила
задачу так**

$$10 - 3 = 7(\text{р.})$$

**В пекарне 4 кг
пшеничной
муки и 7 кг
ржаной муки.
На сколько кг
ржаной муки
больше
пшеничной?**

**Вася решила
задачу так
 $7 - 4 = 3 \text{ (кг)}$**

1 сл.	4	5	6	7	8	9	10
2 сл.	7	6	8	5	3	8	10
сум ма							

Ум.	11	11	12	12	13	13	14
В.	7	6	7	6	7	8	8
Раз.							

**На первой
полке стояло 7
книг, а на
второй на 2
книги меньше.
Сколько книг
стояло на двух
полках?**

$$7 - 2$$

$$7 - 2 + 7$$

$$7 + 2$$

$$7 + 2 + 7$$

**На столе 7
стаканов, а
чашек на 2
больше.
Сколько
чашек на
столе?**

$$7 - 2$$

$$7 - 2 + 7$$

$$7 + 2$$

$$7 + 2 + 7$$

**Наташа вымыла
7 тарелок, а Таня
на 2 тарелки
больше. Сколько
тарелок вымыли
девочки?**

$$7 - 2$$

$$7 - 2 + 7$$

$$7 + 2$$

$$7 + 2 + 7$$