

Математика 1 класс УМК «Школа России»

ВЫЧИТАНИЕ ВИДА 8 - , 9 - .

9 ФЕВРАЛЯ.

КЛАССНАЯ РАБОТА.

□ Каллиграфическая минутка.

□ 8 8 8

□ 9 9 9

Математический ДИКТАНТ



- Сумма чисел 2 и 7?
- Первое слагаемое 3, второе слагаемое 4, найти сумму.
- Разность чисел 8 и 5?
- Уменьшаемое 7, вычитаемое 5, найти разность.
- 9 это 3 да * ?
- 6 это 2 да * ?
- Я задумала число, к нему прибавила 5 и получила 6, какое число я задумала?
- Запишите число, которое на 2 меньше чем 4, на 1 больше чем 7.
- В аквариуме плавало 7 рыбок, кошка съела три рыбки. Сколько рыбок осталось?

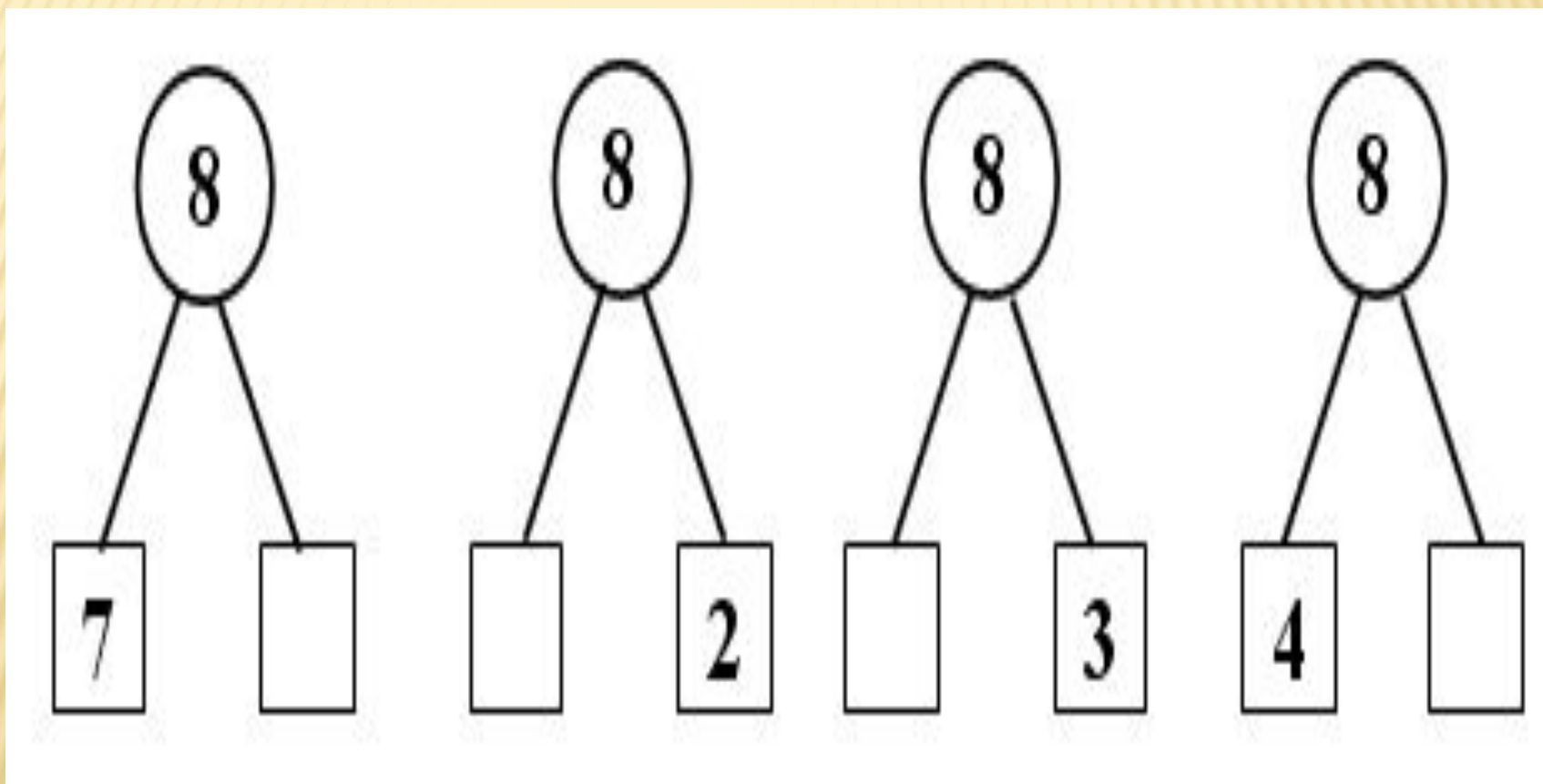


ПРОВЕРКА:


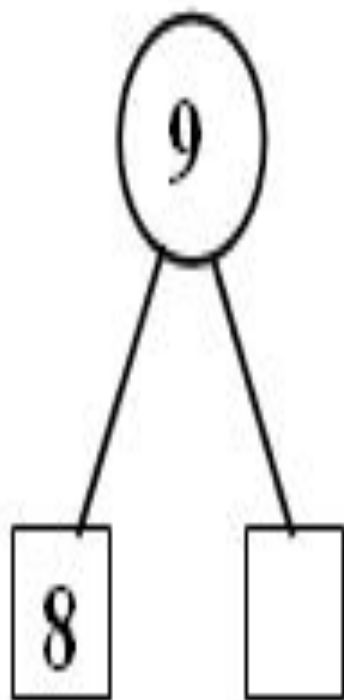
□ 9 7 3 2 6 2 1 2 8 4

□ Обведите чётные числа в кружок.

УСТНЫЙ СЧЁТ:



УСТНЫЙ СЧЁТ:



КАКОЕ ЧИСЛО ПРОПУЩЕНО?

$$\square 5 + \square = 8$$

$$6 + \square = 9$$

$$\square 4 + \square = 8$$

$$7 + \square = 9$$

ВЫЧИТАНИЕ ИЗ ЧИСЕЛ 8, 9

□ $8 - 1 =$

$8 - 3 =$

□ $8 - 4 =$

$8 - 6 =$

□ $9 - 3 =$

$9 - 2 =$

□ $9 - 5 =$

$9 - 8 =$

ПРИМЕРЫ НА СЛОЖЕНИЕ ПОМОГУТ РЕШИТЬ ДАННЫЕ ВЫРАЖЕНИЯ

$$\square 8 = 1 + 7$$

$$8 = 3 + 5$$

$$\square 8 = 4 + 4$$

$$8 = 6 + 2$$

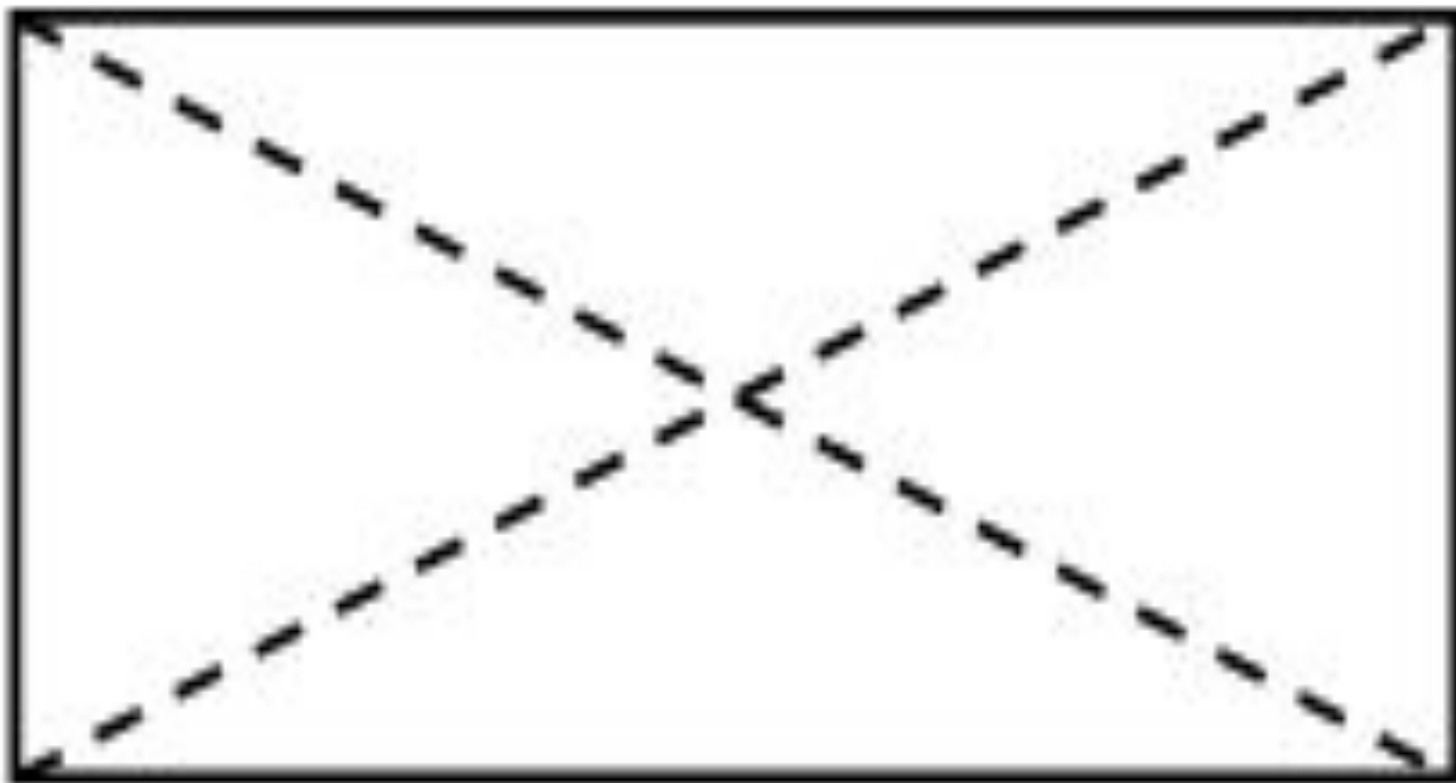
$$\square 9 = 3 + 6$$

$$9 = 2 + 7$$

$$\square 9 = 5 + 4$$

$$9 = 8 + 1$$

РАБОТА С ГЕОМЕТРИЧЕСКИМ МАТЕРИАЛОМ



САМОСТОЯТЕЛЬНАЯ РАБОТА.

- Стр. 32 №1 – примеры
- Стр. 32 №4 (1) - задача