

Вычисли удобным способом

$$38 + 29 + 12 + 11 = 90$$

$$9 + 9 + 2 + 21 = 41$$

$$64 + 7 + 6 + 43 = 120$$

$$3 + 4 + 5 + 6 + 7 = 25$$

a	8	9	12	17	36	54
a + 8						
a - 7						





$$A + 2 = 12$$

$$18 - 7 = 11$$

$$X - 4 = 6$$

$$C - 10 = 8$$

$$K + 4 = 9$$

$$X - 8 = 2$$

Как называются равенства, которые содержат неизвестное число. Найдите уравнения и решите.




Что такое периметр?

Периметр – это сумма всех длин сторон многоугольника.

Периметр обозначается **буквой латинского алфавита – *P* (пэ)**,
измеряется в *мм, см, дм, м, км*.

3 см

2 см



Чему равен периметр прямоугольника?



Периметр прямоугольника
 $3\text{cm} + 2\text{cm} + 3\text{cm} + 2\text{cm} =$
 $= (3\text{cm} + 2\text{cm}) \cdot 2 = 10\text{cm}$



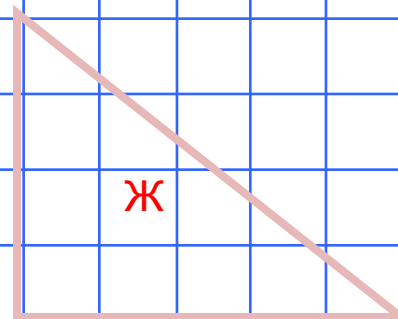
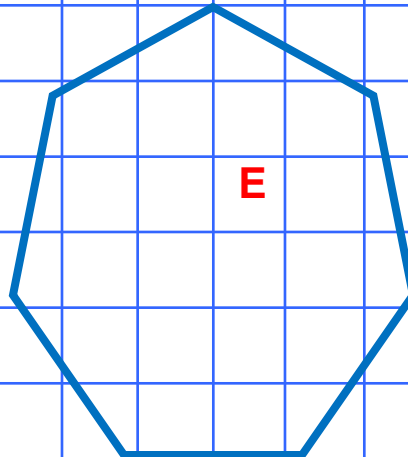
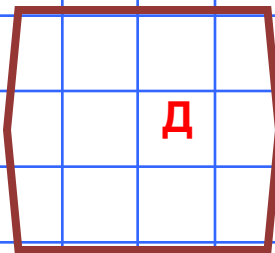
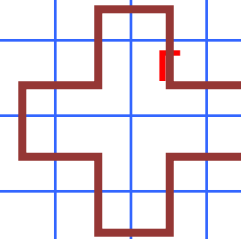
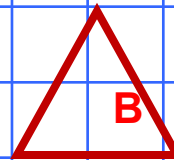
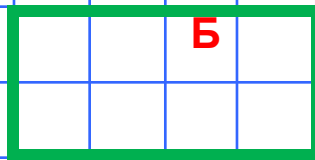
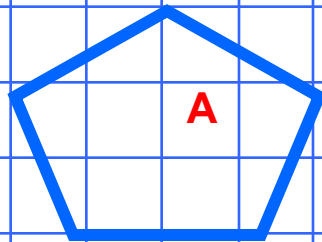
Периметр квадрата
 $3\text{cm} + 3\text{cm} + 3\text{cm} + 3\text{cm} =$
 $= 3\text{cm} \cdot 4 = 12\text{cm}$



Периметр треугольника
 $3\text{cm} + 4\text{cm} + 5\text{cm} = 12\text{cm}$



Назови каждый многоугольник.



Дано

а - 15 мм

в - 15 мм

с - 30 мм

Найти : Р - ? мм

Решение

$$P = a + b + c$$

$$P = 15 + 15 + 30$$

$$P = 60 \text{ мм} = 6 \text{ см}$$

Ответ : 6 сантиметров периметр треугольника








С.6 № 6

№ 5 1вариант -2

2вариант -3







dalmatkiwy.xx.pl

