

Тема. Выражения.

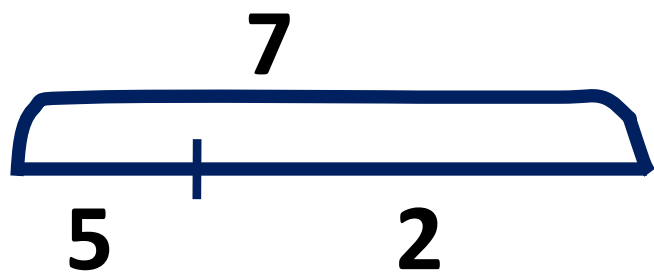
Математический диктант

Какое число
меньше 8 на 1?



7

Рассмотри отрезок



$$\underline{5} + \underline{2} = \textcircled{7}$$

$$\underline{2} + \underline{5} = \textcircled{7}$$

$$\textcircled{7} - \underline{2} = \underline{5}$$

$$\textcircled{7} - \underline{5} = \underline{2}$$

Найди закономерность

$$5 - 4 =$$

$$6 - 4 =$$

$$7 - 4 =$$

$$8 - 4 =$$

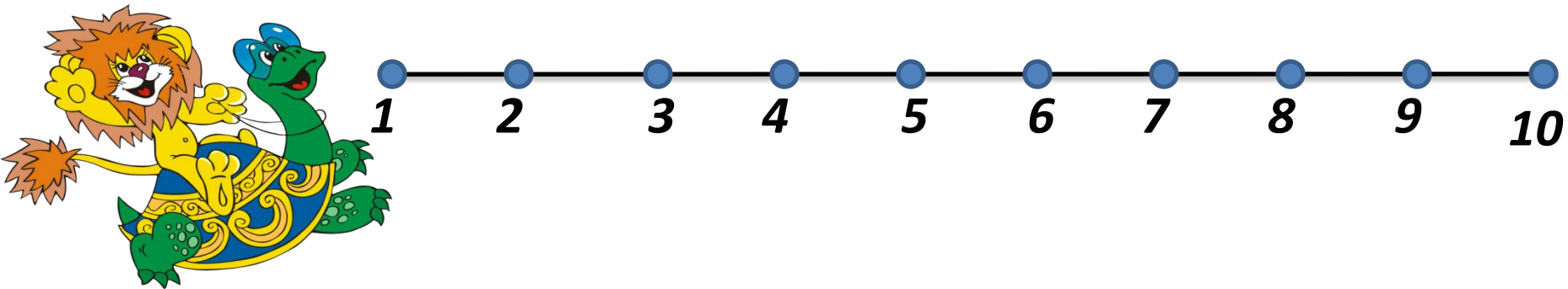
$$9 - 4 =$$

$$10 - 4 =$$



Игра «День - ночь»

$$3 + 4 - 2 - 3 + 5 - 1 - 3 = \mathbf{3}$$



Сосчитай!



$$8 + 3 = 11$$

$$11 - 8 = 3$$

$$3 + 8 = 11$$

$$11 - 3 = 8$$



На какие части
можно разбить квадраты?



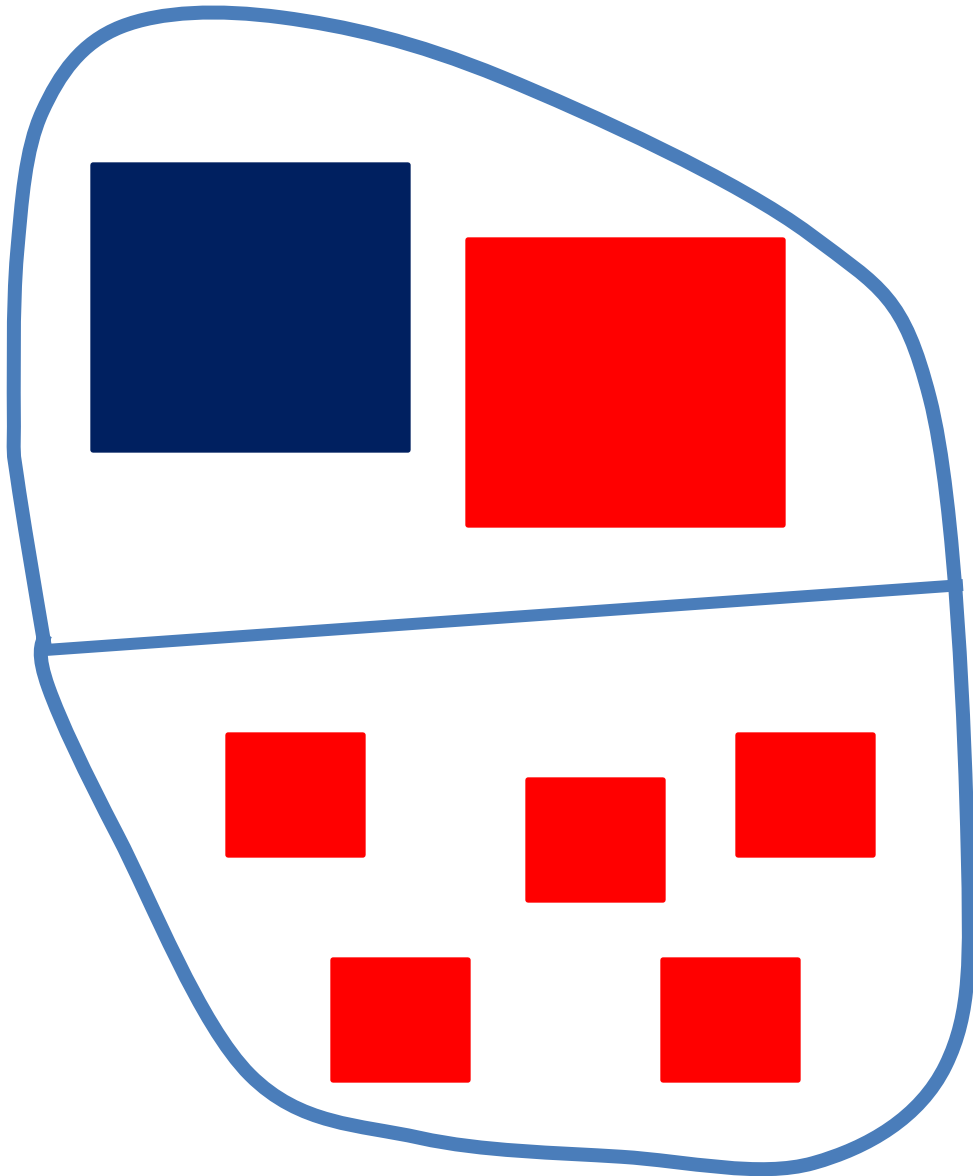
по цвету

по

размеру



Составь задачу



$$2 + 5$$



Составь задачу



$$7 - 1$$

