


**Закрепление темы: «Высота предметов,
ориентировка в пространстве.
Порядковый и количественный счет до 6».**



Составила: воспитатель Акимова Наталия Валерьевна



**Сколько ящиков помещается в
грузовик?**





Назови и посчитай предметы, которые перевозили в ящиках



Посчитай по порядку (первый, второй, трети и т.д.)

***На каком по счету месте стоит фонарик? Будильник?
Телевизор? И т.д.***

***Какой предмет стоит на втором месте? На шестом? На первом?
И т.д***



Какой геометрической фигуре соответствует предмет?



Какого предмета не хватает?



***Грузовик должен подъехать к самому высокому дому.
Какой дом самый низкий? Какой дом самый высокий?***



*Покажи грузовик за домом, перед домом,
справа от дома, слева от дома.*

СПАСИБО ЗА ВНИМАНИЕ!