


**Сосчитай число
кусочков
шоколада в плитке
двумя способами**

$$5 + 5 + \dots$$

Запиши с помощью умножения

$$4 + 4 + \dots$$

Запиши с помощью умножения



Как поделить эту плитку между четырьмя детьми поровну?


$$20 : 4 =$$

А если детей пять?

$$20 : 5 =$$

$$5 \times 4 = 20$$

$$20 : 5 = 4$$



$$4 \times 5 = 20$$

$$20 : 4 = 5$$

**Умножение и деление –
взаимно обратные
действия.**

Множитель Множитель Произведение




$$4 \times 5 = 20$$

Если разделить произведение на один множитель, то получится другой множитель.

$$20 : 5 = 4$$

$$20 : 4 = 5$$

Сколько всего яблок на тарелках?
Запиши с помощью умножения.



Между сколькими детьми можно
разделить тарелки с яблоками?
Запиши с помощью деления.