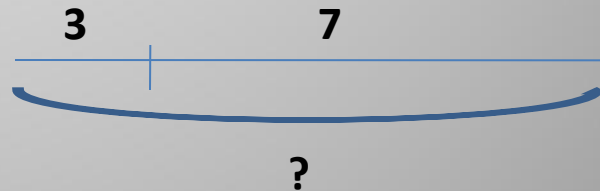


Решение задач.

Задача.

Малыш съел 3
плюшки, а Карлсон – 7.
Сколько всего плюшек
они съели?



$$7+3=10 \text{ п.}$$

Ответ: 10 плюшек.

Задача

У Карлсона было 7 чашек. Он 2 разбил. Сколько осталось?



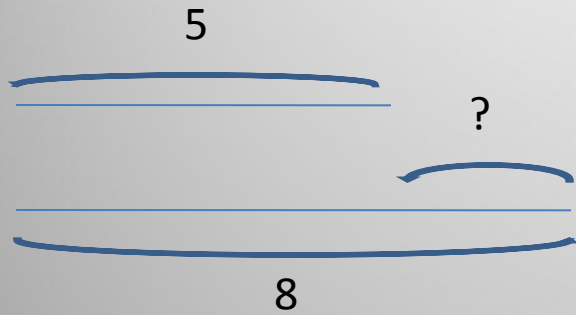
Решение:

$$7 - 2 = 5 \text{ ч.}$$

Ответ 5 чашек.

Задач

В вазе 8 роз, а тюльпанов 5. На сколько роз больше, чем тюльпанов?

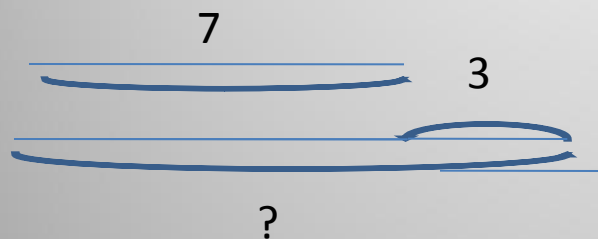


$$8 - 5 = 3 \text{ р.}$$

Ответ: на 3 розы больше.

Задача.

Бараш написал 7 стишков. Крош написал на 3 стишка больше. Сколько стишков написал Крош?



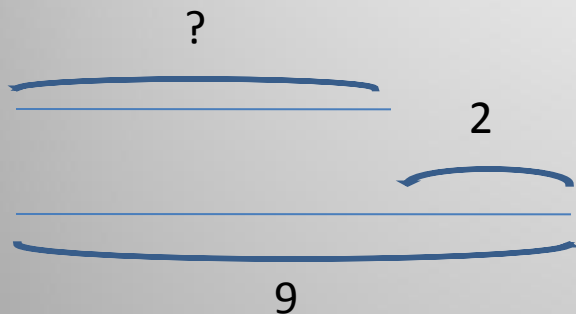
$$7 + 3 = 10 \text{ (с.)}$$

Ответ: 10 стишков.



Задач

У Тани 9 грибов, а у Саши на 2 гриба меньше. Сколько грибов у Саши?



$$9 - 2 = 7 \text{ г.}$$

Ответ: 7 грибов.

МОЛОДЦЫ

Картинки с сайтов:
[-http://images.google.ru/](http://images.google.ru/) ;
[-http://images.yandex.ru/](http://images.yandex.ru/);

Е.В.Сабельникова
учитель начальных классов
МОУ СОШ №12
г.Новоалександровск