

1 класс «Перспектива»

Задача. Структура задачи.

**Белослудцева Ирина Леонидовна
Учитель начальных классов
МБОУ «Таборская ООШ»
Оханского района Пермского края**



Я слышу – и забываю,
Я вижу – и забываю,
Я делаю – и понимаю.

Китайская мудрость

Веселые задачи



Мотыльки васильки

Вот синеют у реки
Чудо-диво васильки.
Ты, малыш, мне
подскажи,
Сколько васильков во
ржи?

Сколько видишь
колосков?
Сколько вьётся
мотыльков?
Сосчитаю я пока
Крылышки у
мотылька.

Веселые задачи



Белки и орех

Белки для потехи
Щёлкали орехи.
Как расколется орех,
Слышен белок звонкий
смех!

Сосчитать бы только
Раскололи сколько?
Посчитай ещё и те,
Что остались в скорлупе.

$5 + 2 =$

$6 - 2 =$

$8 - 3 =$

$4 + 4 =$

3

7

2

4

6


5

1


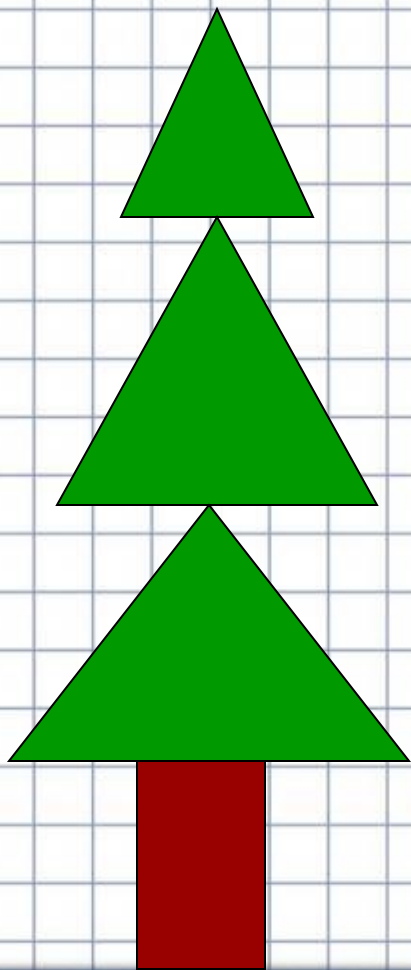
8

9

Сосчитай фигуры!



Сосчитай фигуры!



РЕБУС

ЗА



ЗАГОРОДНЫЙ ДОМ


У реки растут 4 осины
и 3 липы.

У реки растут 4 осины
и 3 липы. Сколько всего
деревьев растёт у реки?

ЗАДАЧА



УСЛОВИЕ



ВОПРОС



**СКОЛЬКО ЛОДОК СТОЯЛО
У ПРИЧАЛА?**



В букете было 3 розы и 4 астры.

Сколько было гвоздик?



Памятка

1. Прочитать . **задачу**
2. Узнать о чём (ком) .. **говорится**
3. Что об этом .. **известно**
4. Найти . **вопрос** задачи.
5. Написать краткое .. **условие**
6. Составить . **выражение**
7. Написать . **ответ**

На верхней полке – 8 книг, а на нижней – на 2 книги меньше.

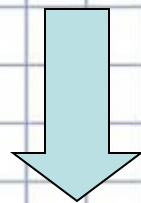
На верхней полке – 8 книг, а на нижней – на 2 книги меньше. Сколько книг на нижней полке?

В пенале у ученика - 3 ручки и 5 карандашей. Сколько карандашей в пенале у ученика?

В пенале у ученика - 3 ручки и 5 карандашей. На сколько карандашей больше, чем ручек?

У причала
7 лодок
и 5 яхт.

У причала стояло
6 яхт, а
лодок - на 10
больше.



Сколько лодок
стояло
у причала?



Реши для себя.

