

Задачи для устного счёта

Составила:

Бочкарева О.Н.

Учитель начальных классов

МОУ СОШ № 3

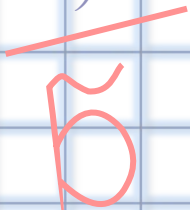
Г. Черепаново

$$(a+b)^3 = a^3 + 3a^2b + 3ab^2 + b^3$$

$$(a+b)^2 = a^2 + 2ab + b^2$$

$$(a-b)^2 = a^2 - 2ab + b^2$$

$$a^2 - b^2 = (a-b)(a+b)$$






У Маши две куклы, а у Наташи в 3 раза больше кукол, чем у Маши. Сколько кукол у Наташи?



6 кукол






У Оли 18 рублей, а у Серёжи вдвое меньше денег, чем у Оли. Сколько денег у Серёжи?



9 рублей





**Высота берёзы – 5 м. Стоящий
рядом дом в 4 раза выше берёзы.
Какова высота дома?**



20 метров





Синяя лента втрое короче красной. Длина красной ленты 24 дм. Какова длина синей ленты?



8 дм







Слон съел 18 кг моркови и 9 кг картофеля. Во сколько раз слон съел больше моркови, чем картофеля?



В 2 раза






на нашей пасеке 15 ульев, а на соседней на 3 улья меньше. Сколько ульев на соседней пасеке?



12 ульев





Высота рябины 9 м. Берёза, растущая неподалеку, втрое выше. Какой высоты берёза?



27 м






**На лётном поле 12 вертолётов.
Их в 3 раза больше, чем
спортивных самолётов. Сколько
самолётов на лётном поле?**



**4
самолета**





Цена стула – 72 р. Табуретка в 8 раз дешевле стула. Купили 3 табуретки. Сколько они стоят?



**27
рублей**



Использованные ресурсы

1. <http://pedsovet.su/load/321-1-0-13710>

2. http://images.yandex.ru/yandsearch?text=%D0%BA%D0%B0%D1%80%D1%82%D0%B8%D0%BD%D0%BA%D0%B0%20%D0%BF%D1%87%D0%B5%D0%BB%D0%B8%D0%BD%D1%8B%D0%B9%20%D1%83%D0%BB%D0%B5%D0%B9%20&fp=0&pos=8&info=ww-1423-wh-700-fw-1198-fh-494-pd-1&rpt=simage&img_url=http%3A%2F%2Fwww.fotka.by%2Fimg--i-73803-w-120.jpg