


Задачи Григория Остера для четвероклассников.





Подумай!


Друзья составили про Петю задачу: наш друг Петя ест невкусную макаронины длиной 60 км. В первый день он съел пятую часть всей макаронины, во второй — четвертую часть всей макаронины.

Сколько километров невкусной макаронины съедено Петей за два дня?



Подумай!


Если на одну чашу весов посадить Дашу, которая весит 45 кг, и Наташу, которая весит на 8 кг меньше, а на другую насыпать 89 кг разных конфет, то сколько кг конфет придется съесть несчастным девочкам, чтобы чаши весов оказались в равновесии?



Подумай!


В специальный ящик можно уложить 68 куриных яиц. Если уминать их ногами, то поместится в 100 раз больше.

Сколько уминаемых ногами яиц можно уложить в 3 таких же одинаковых ящика?



Подумай!


Двадцать две девочки, гуляя в лесу, нашли 88 грибов, а потом половина девочек потерялась. Во сколько раз количество найденных в лесу грибов больше, чем количество потерявшихся там же девочек?



Подумай!


С одного дерева сняли 164 груши, а со второго 5 мальчиков, каждый из которых, сидя на дереве, съел по 27 груш. После этого со второго дерева сняли еще 94 груши.

Сколько груш было на обоих деревьях?



Проверь себя!

1. 27 км.
2. 7 кг.
3. 20400 я.
4. В 8 раз.
5. 393 г.



Литература.

Григорий Остер. Задачник 1994 г.
