




**Математика 5 класс
УМК С.М.
Никольский**



Задачи на «части»

урок-тренинг

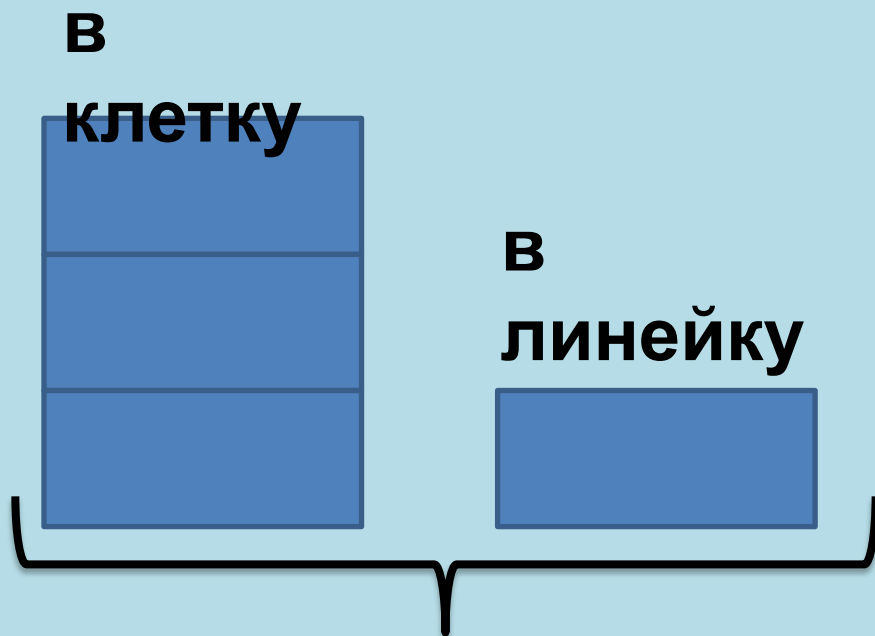
Носова Ольга Михайловна
учитель начальных классов МОУ СОШ № 11
с углубленным изучением отдельных
предметов
Курского муниципального района
Ставропольского края





Задача 1.

Купили 120 тетрадей в клетку и в линейку. Тетрадей в клетку было в 3 раза больше, чем тетрадей в линейку. Сколько было тетрадей в линейку?



120
тетрадей

1. Сколько частей приходится на все тетради?

2. Сколько было тетрадей в линейку?

Задача 2.



В спортивной секции занимается 60 учащихся, причем мальчиков в 4 раза больше, чем девочек. **Сколько мальчиков и девочек занимается в секции?**

Д.



М.



60
уч.



Задача 3.


Турист преодолел пешком и на автобусе расстояние 180 км, причем на автобусе он проехал в 5 раз больше расстояние, чем прошел пешком. **Какое расстояние он проехал на автобусе?**

Сделайте схематический рисунок и решите задачу.



Задача 4.

Составь задачу по схематическому рисунку и запиши ее решение.



ИСТОЧНИКИ

- <http://nskstars.ru/uploads/U1i3Tv7MLI.jpg>
- http://fileframe.sector.sk/files/novinky/2008-7-21-10-56-29/cityfolk_10.jpg
- <http://www.salon-malvina.com/newsfoto/333-4.jpg>
- http://www.cartoonclipartfree.info/Cliparts_Free/Urlaub_Free/Cartoon-Clipart-Free-05.gif
- <http://img3.proshkolu.ru/content/media/pic/std/1000000/558000/557233-c6900445a458ee3f.jpg>
- http://sphotos-g.ak.fbcdn.net/hphotos-ak-snc6/p480x480/281498_537523656262573_1377614838_n.jpg
- <http://www.stragacom.com/images/books.png>
- http://static.ozone.ru/multimedia/books_covers/1003210210.jpg
- http://www.ljplus.ru/img3/p/l/pleno_de_vida/list2.JPG
- http://img-fotki.yandex.ru/get/6408/20573769.e/0_828ac_dca4804f_XL