

Задачи на готовых чертежах

Теорема Пифагора

Повторение темы «Теорема Пифагора»

1. Посмотреть алгоритм и примеры решения задач - слайд 3;
2. Выполнить задания любого уровня – слайды с 4 по 9;
3. Задания выполнять в тетради.
4. На проверку приносить или отправлять не менее 8 задач (можно фото);
5. Задания должны быть отправлены 15, 16 февраля.

Пример вычисления сторон в прямоугольном треугольнике по теореме Пифагора

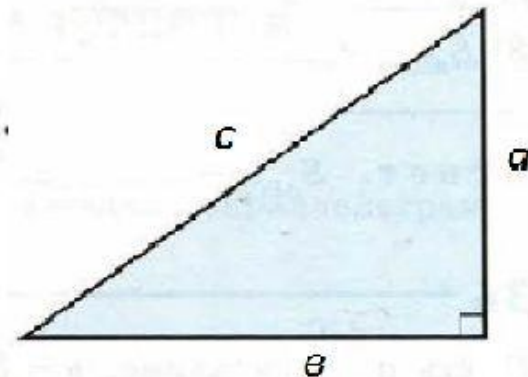
Теорема Пифагора

В прямоугольном треугольнике a и b — катеты.

Найдите: а) b , если $a = 8$, $c = 12$;

б) c , если $a = 4\sqrt{2}$, $b = 7$;

в) a , если $b = 3\sqrt{3}$, $c = 5\sqrt{3}$.



Решение. По теореме Пифагора $c^2 = a^2 + b^2$.

$$\text{а) } b^2 = c^2 - a^2, \text{ откуда } b = \sqrt{c^2 - a^2} = \sqrt{144 - 64} = \sqrt{80} = \sqrt{16 \cdot 5} = 4\sqrt{5}$$

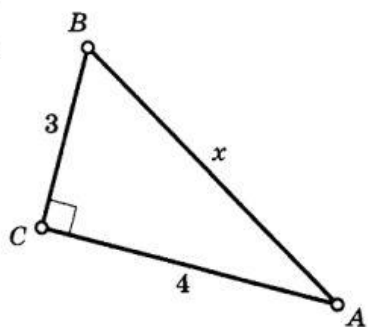
$$\text{б) } c^2 = (4\sqrt{2})^2 + 7^2, \text{ откуда } c = \sqrt{(4\sqrt{2})^2 + 7^2} = \sqrt{32 + 49} = \sqrt{81} = 9$$

$$\text{в) } a^2 = c^2 - b^2, \text{ откуда } a = \sqrt{c^2 - b^2} = \sqrt{(3\sqrt{3})^2 - (5\sqrt{3})^2} = \sqrt{27 - 75} =$$

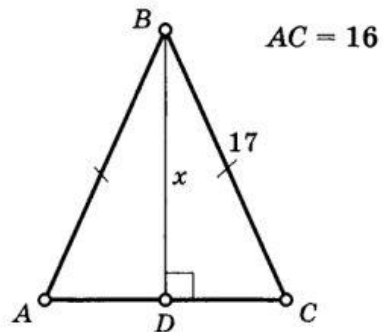
$$(4\sqrt{2})^2 = 16 \cdot 2 = 32$$

$$= \sqrt{102}$$

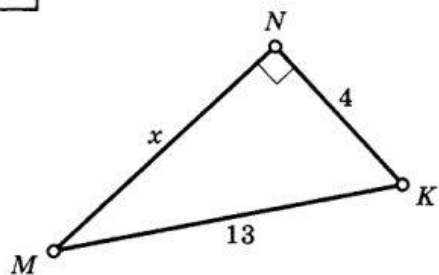
1



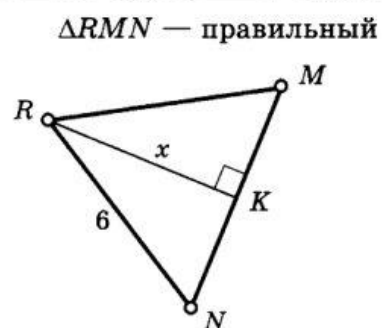
5



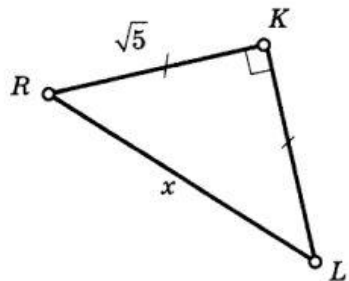
2



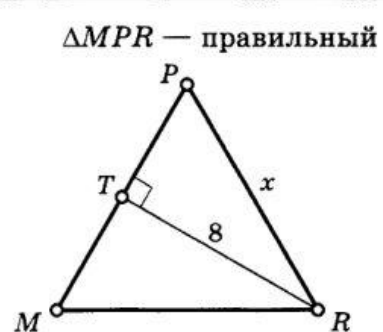
6



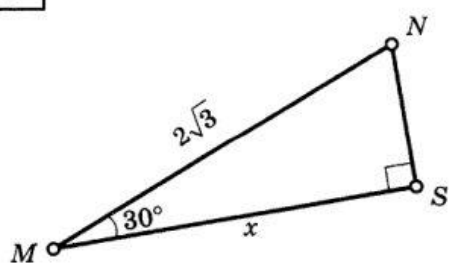
3



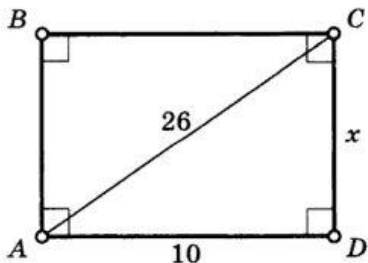
7



4



8



ТЕОРЕМА ПИФАГОРА

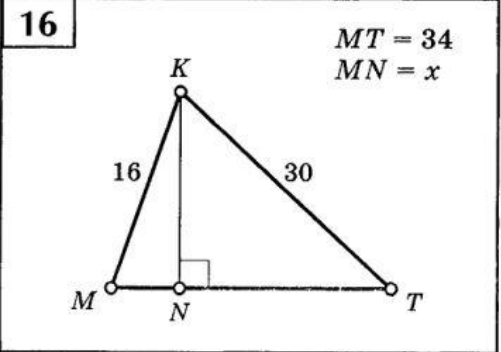
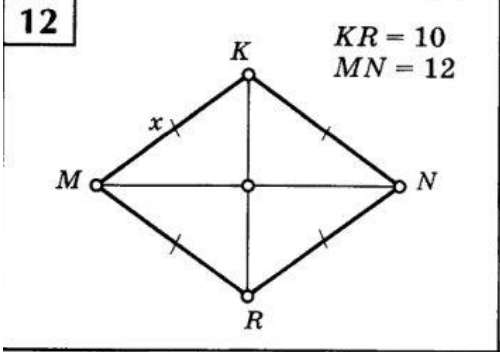
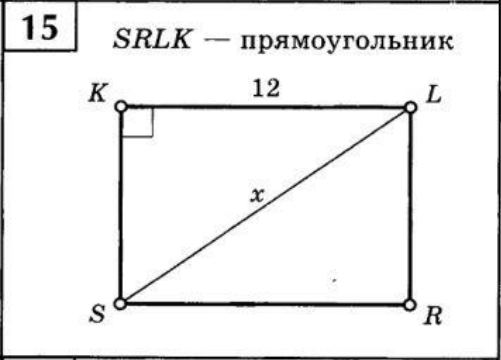
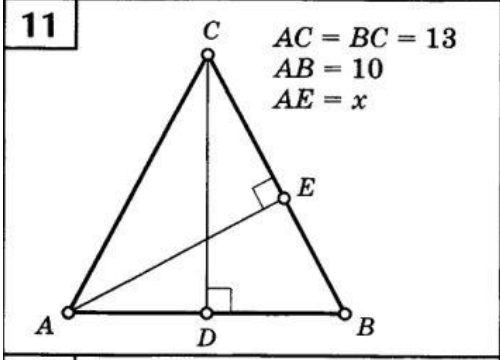
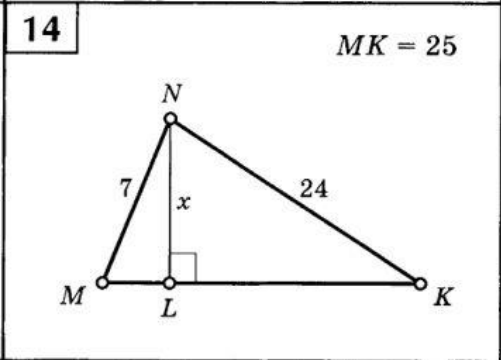
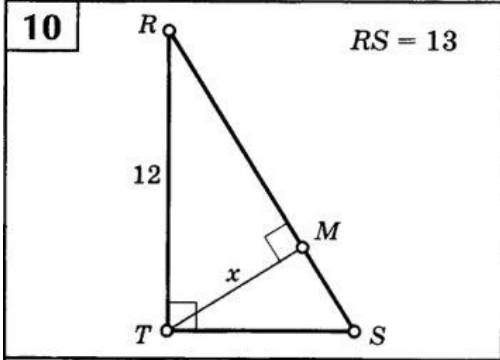
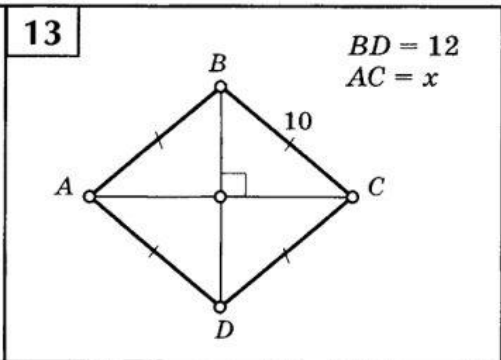
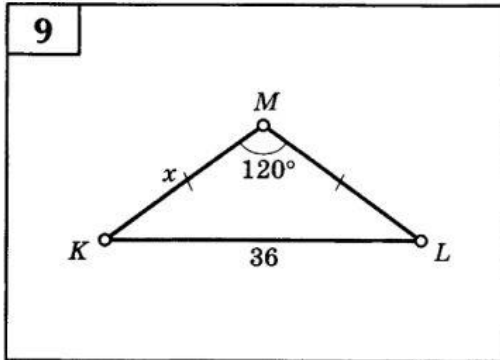
Найдите x .

1 уровень

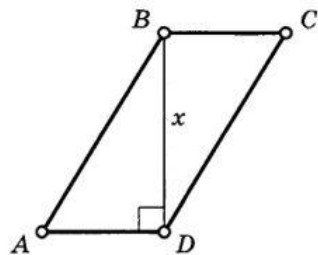
ТЕОРЕМА ПИФАГОРА

Найдите x .

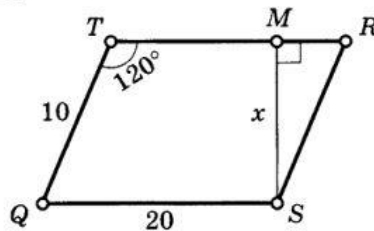
1 уровень



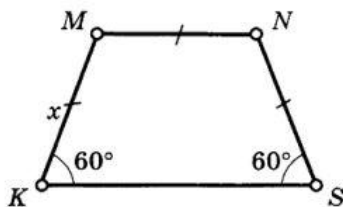
17 $AB - BC = 3$ $P = 50$



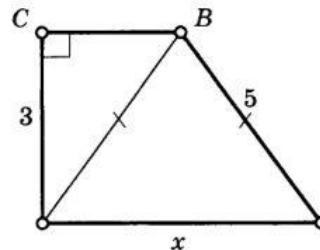
21



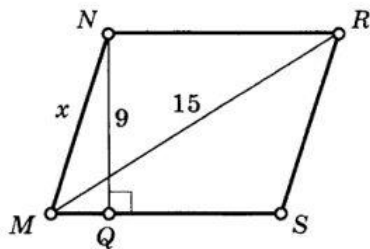
18 $S_{KMNS} = 96\sqrt{3}$



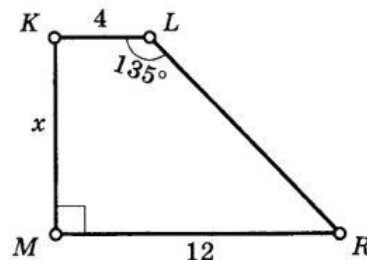
22 $ABCD$ — трапеция



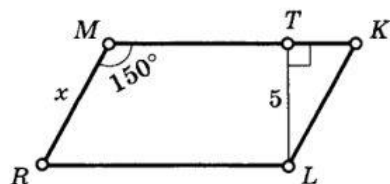
19 $S_{MNRS} = 99$



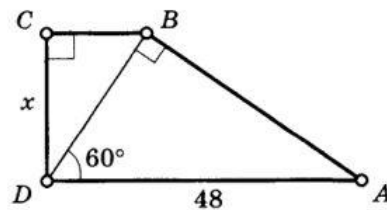
23 $MKLR$ — трапеция



20 $RLKM$ — параллелограмм



24

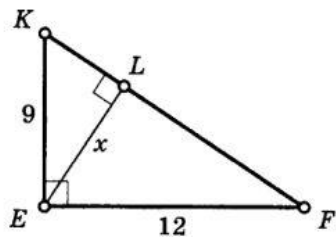


ТЕОРЕМА ПИФАГОРА

Найдите x .

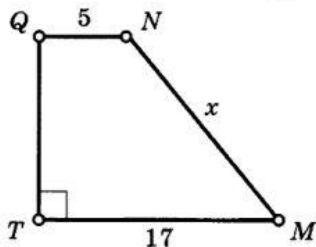
2 уровень

25

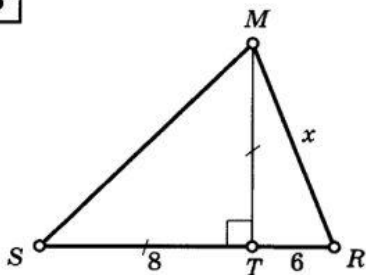


29

$$S = 55$$

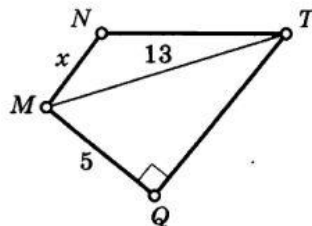


26

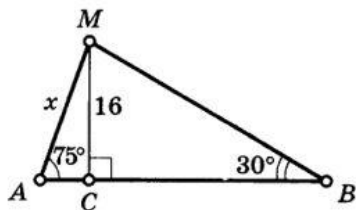


30

$MNTQ$ — трапеция
 $S_{MNTQ} = 50$

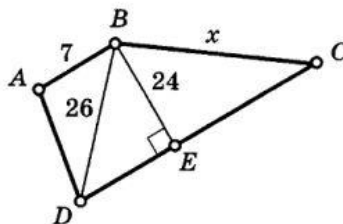


27

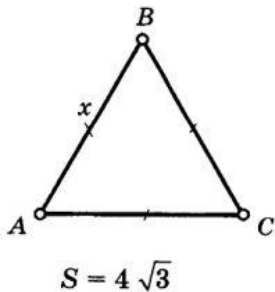


31

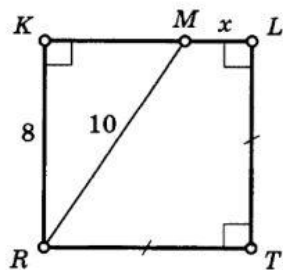
$ABCD$ — трапеция
 $S_{ABCD} = 432$



28



32



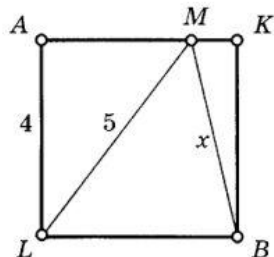
ТЕОРЕМА ПИФАГОРА

Найдите x .

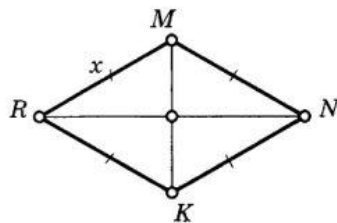
2 уровень

33

AKBL — квадрат



37

 $RN - MK = 4$
 $S_{RMNK} = 96$


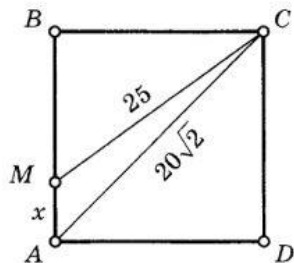
ТЕОРЕМА ПИФАГОРА

Найдите x .

3 уровень

34

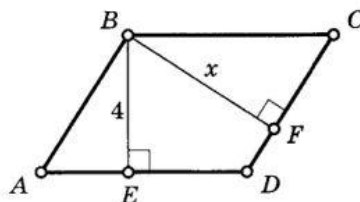
ABCD — квадрат



38

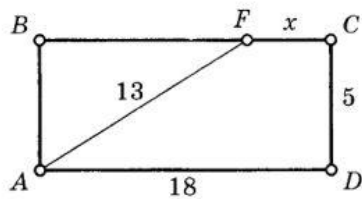
ABCD — параллелограмм

$$P_{ABCD} = 42, S_{ABCD} = \frac{140}{3}$$

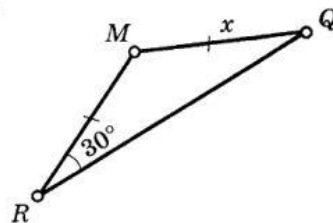


35

ABCD — прямоугольник

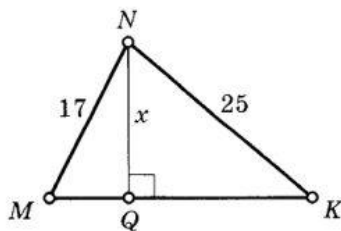


39

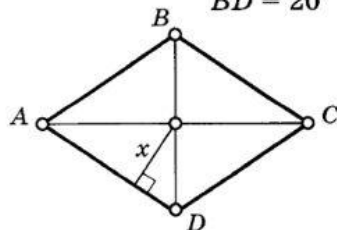


$$S = 100\sqrt{3}$$

36

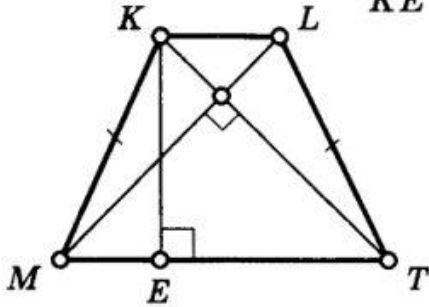
 $P_{\triangle MNK} = 70$ 

40

 $ABCD$ — ромб
 $S_{ABCD} = 480$
 $BD = 20$


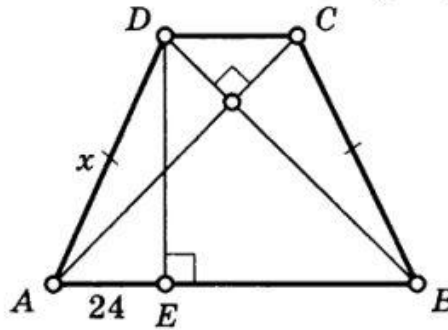
49

$MKLT$ — трапеция
 $S = 81$
 $KE = x$



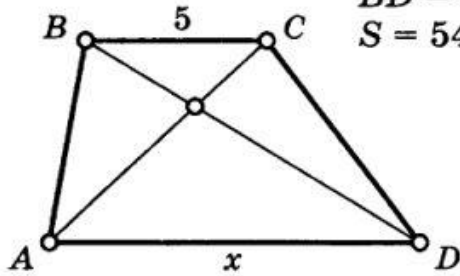
52

$ABCD$ — трапеция
 $S = 100$



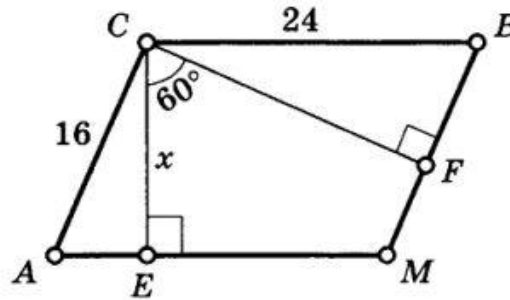
50

$ABCD$ — трапеция
 $AC = 9$
 $BD = 12$
 $S = 54$



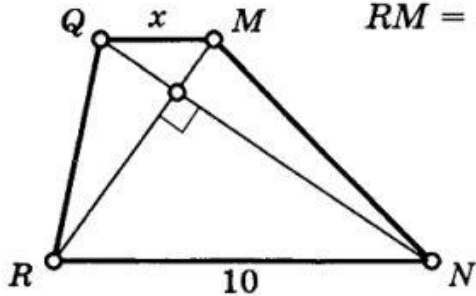
53

$ACBM$ — параллелограмм



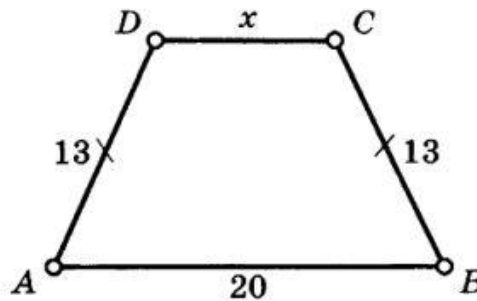
51

$RQMN$ — трапеция
 $QN = 12$
 $RM = 5$



54

$S_{ABCD} = 180$



ТЕОРЕМА ПИФАГОРА

Найдите x .

3 уровень