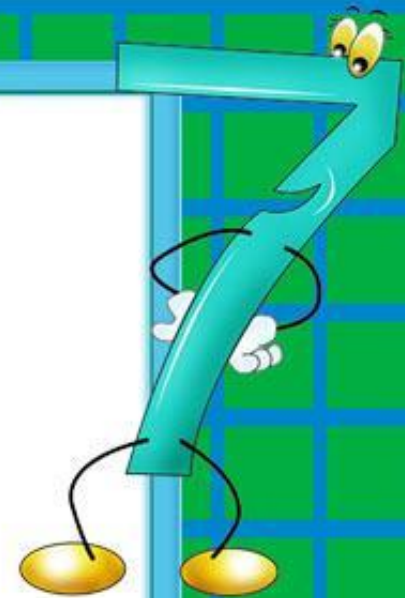



УРОК МАТЕМАТИКИ В 1 КЛАССЕ
НА ТЕМУ
«РЕШЕНИЕ ЗАДАЧ НА
СРАВНЕНИЕ»

УСТНЫЙ СЧЁТ

Начинаем мы опять
Решать, отгадывать,
смекаать!



Продолжи ряд:

1, 3, 5, ..., ..


10, 8, 6, ..., ..

Какие числа спрятались за шариками?

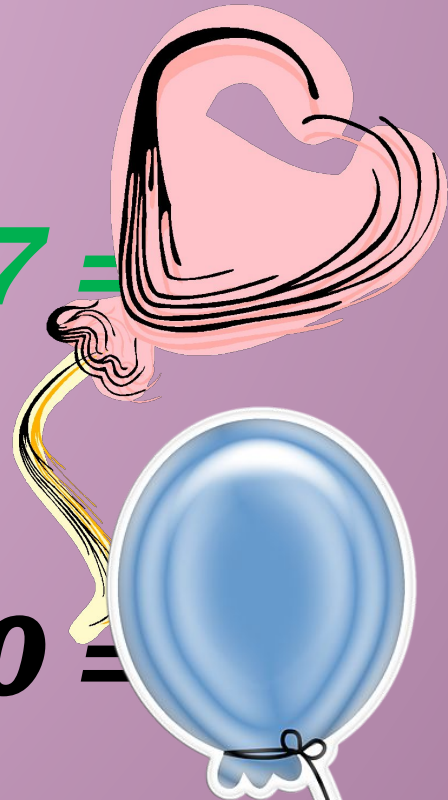
$10 - 1 =$



$5 + 3 =$



$2 + 7 =$



$8 - 0 =$



**Распредели записи по группам двумя
разными способами**

$$2 + 7 = 9$$

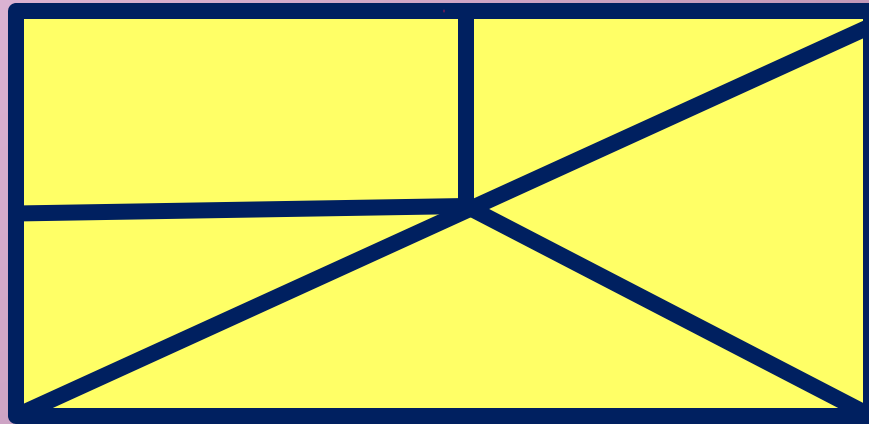
$$10 - 1 = 9$$

$$8 - 0 = 8$$

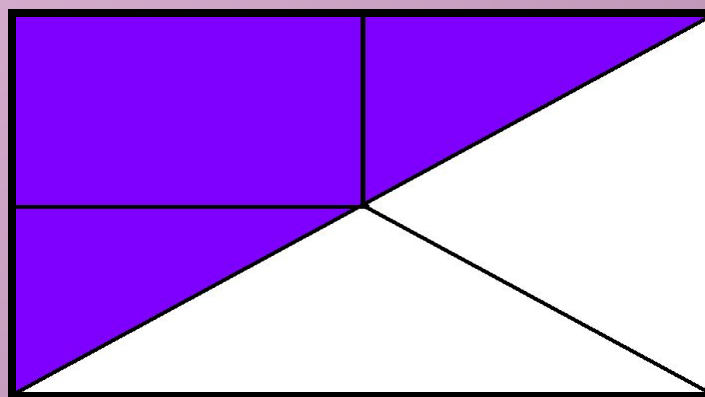
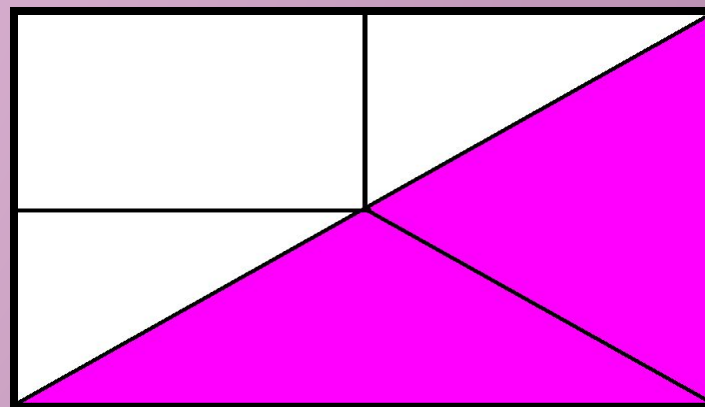
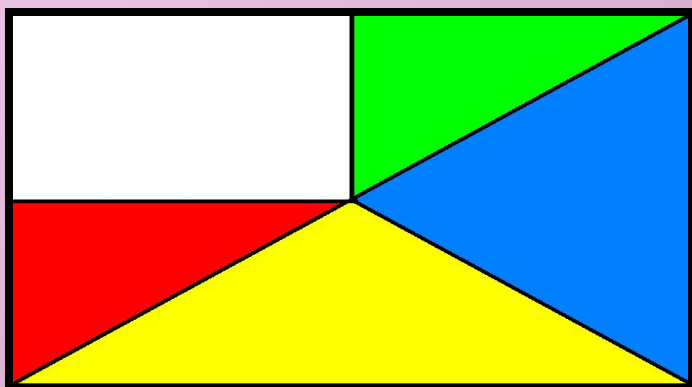
$$5 + 3 = 8$$



**Сколько треугольников
на рисунке?**



Проверь себя



На сколько больше?
На сколько меньше?




Новые задачи: сравнение

Вопрос:

На сколько больше?
меньше?







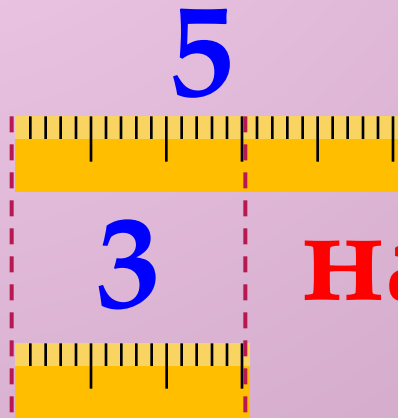
Пчёл – 8 н.)
Бабочек – 6 н.) на ? больше

$$8 - 6 = 2 \text{ (пч.)}$$

На сколько больше пчёлок, чем

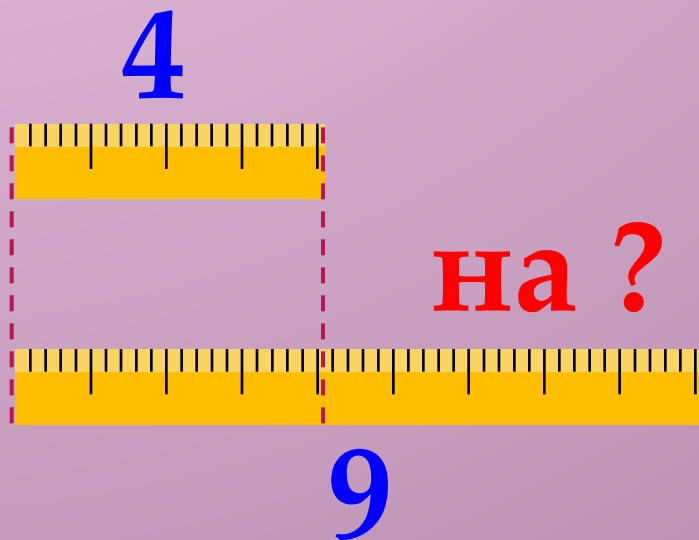
Бабочек?
Ответ: на 2 пчёлки больше, чем бабочек.

На сколько больше?
На сколько меньше?



на ?

$$5 - 3 = 2$$



на ?


$$9 - 4 = 5$$

**Как найти, на сколько
одно число больше или
меньше другого?**

**Надо из большего
числа
вычесть меньшее!**



1



$$5 < 8$$

На сколько ... ?

| | | | | |
|--|--|--|--|--|
| | | | | |
|--|--|--|--|--|



$$7 > 4$$

На сколько ... ?

| | | | | |
|--|--|--|--|--|
| | | | | |
|--|--|--|--|--|

2. Купили 6 билетов в цирк и 4 билета в театр. Каких билетов было больше и на сколько?

Рассмотри схему и реши задачу.

?

На сколько сантиметров длина одного отрезка больше длины другого?



10

Итог урока

1. Что нового узнали на уроке?
2. Как узнать,
«на сколько больше»?
3. Как ответить на вопрос:
«На сколько меньше»?