

а) Почтальон Печкин принес 4 письма Шарiku и 5 писем Матроскину.

Сколько писем принес почтальон Печкин?

б) Шарик снял с одной грядки 3 огурца, а с другой - на 2 огурца больше.

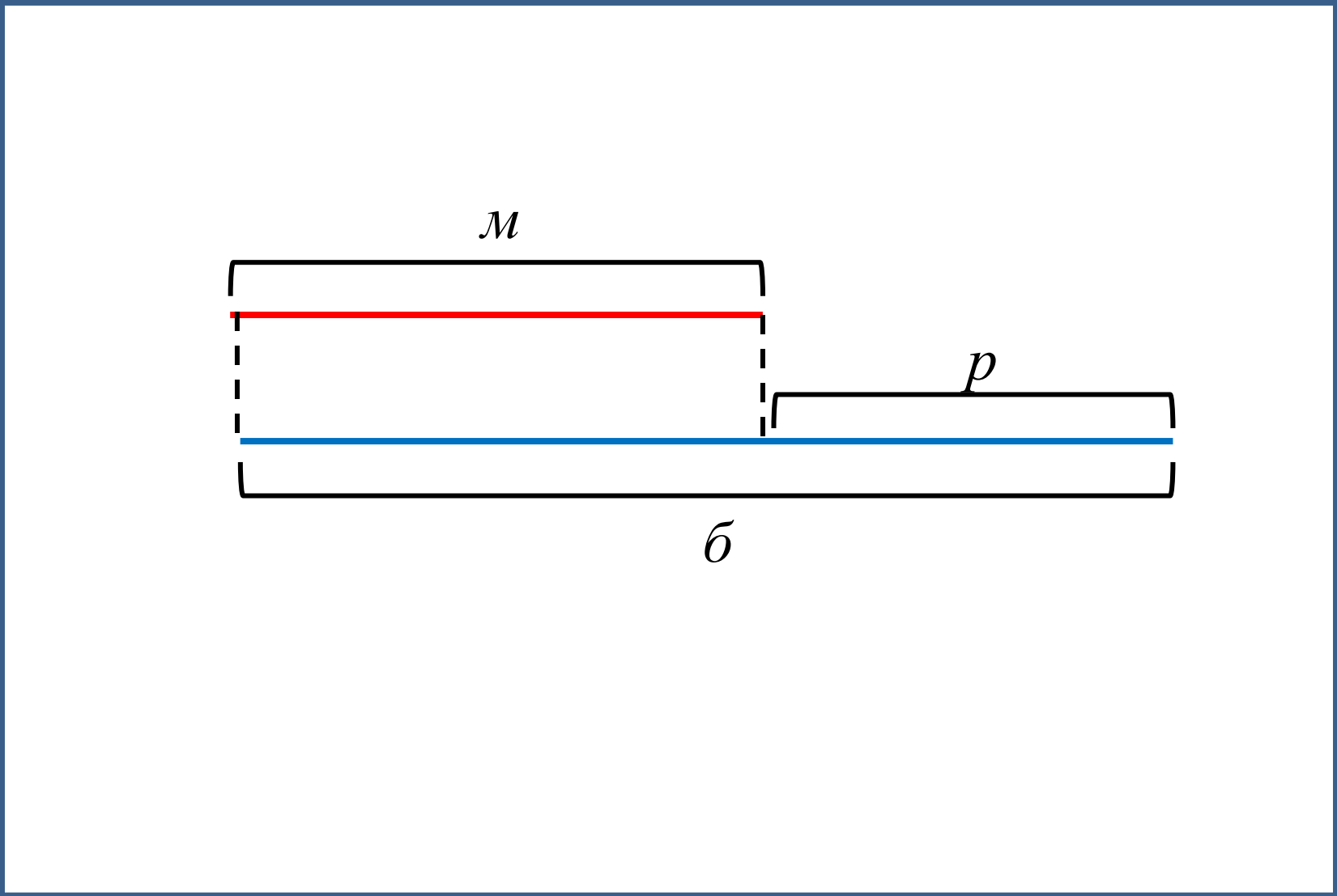
Сколько огурцов снял с другой грядке?

в) Матроскин сделал 2 скворечника. Это на 4 скворечника меньше, чем сделал Шарик.

Сколько скворечников сделал Шарик?

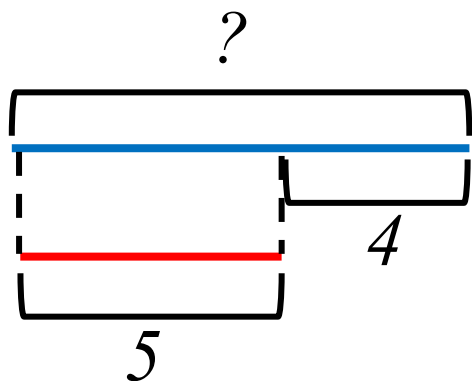
3, 4, 7

$$3 + 4 = 7, \quad 4 + 3 = 7, \quad 7 - 3 = 4, \quad 7 - 4 = 3$$



2

Придумай задачу, используя выражения «на 4 больше» и «это на 4 меньше»?

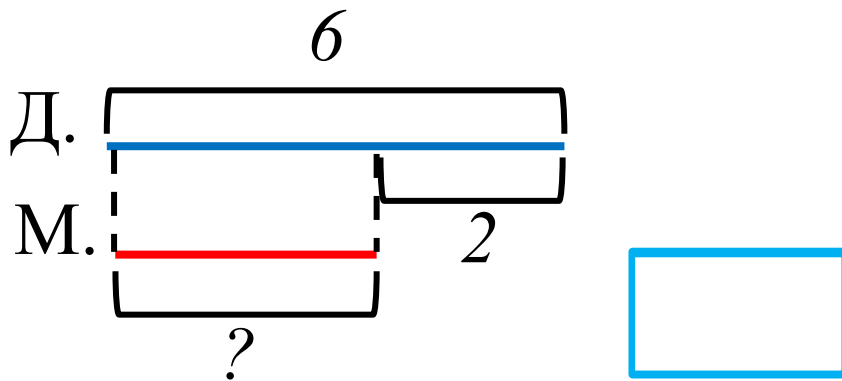


Задача
 $5 + 4 = 9$
Уча
Отв(е)е 9 мандари

Т: НОВ

3

а) Во дворе играют 6 девочек, а мальчиков - на 2 меньше. Сколько мальчиков во дворе?

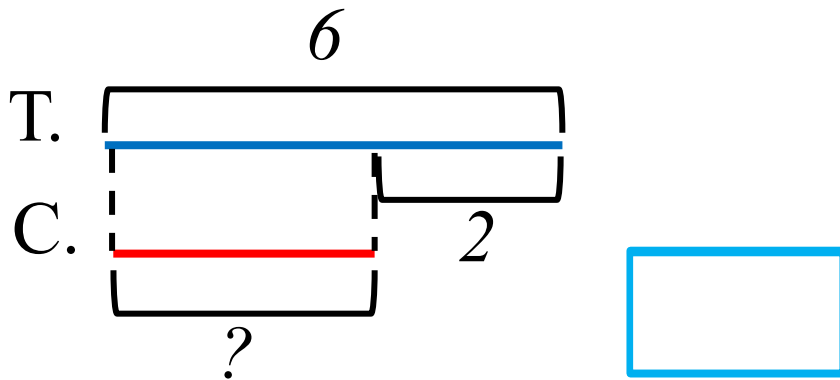


Зада
 $6 - 2 = 4$
Отв
(две) 4 мальчи

Т: ка.

3

б) У Тани 6 марок. Их на 2 больше, чем у Саши. Сколько марок у Саши?



Зада
 $6 - 2 = 4$
Ч
Отв
(две) 4 марки.

T:

5

 $>, <, =$

$a \square a - 3$

$b + 4 \square b + 5$

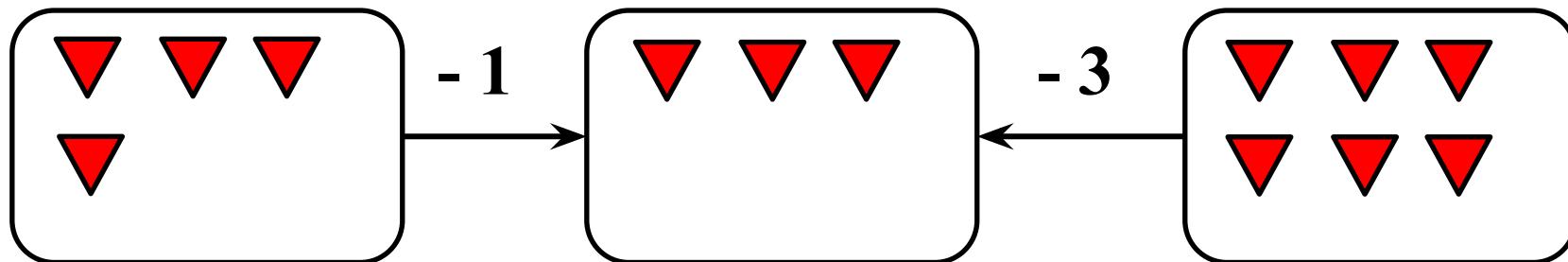
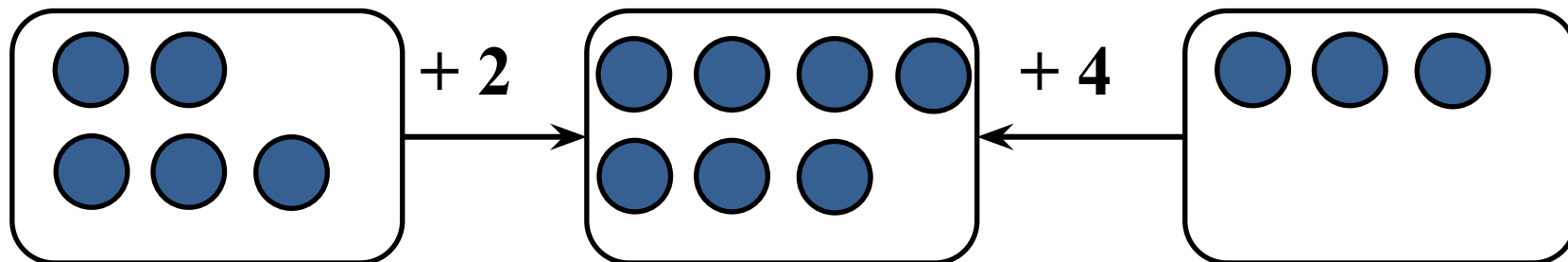
$8 - k \square 9 - k$

$6 \square 6 + 1$

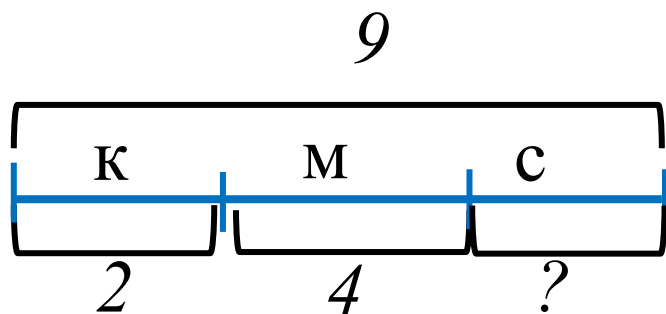
$d - 1 \square d - 2$

$m + 0 \square m - 0$

6



7



Зада

$$9 - 2 - 4 = 3$$

О.т.в.е 3

Т:

СОМИКА.