

МКОУ «Перегрёбинская СОШ  
№ 1»



# Задачи на уменьшение числа на несколько единиц (с двумя множествами предметов)

**1** класс

Школа России

Автор : Гилева Наталия Владимировна  
учитель начальных классов  
МКОУ «Перегрёбинская СОШ № 1»



# Логическая разминка



Оля старше Вани, но моложе Коли. Кто из них старше всех? Моложе всех?



# Устный счет



0 1 2 3 4 5 6 7 8 9 10

Вставь пропущенные числа

$7 + 2 = \dots$

$\dots + 3 = 9$

$2 + 7 = \dots$

$\dots + 6 = 9$

$\dots - 5 = 2$

$9 - \dots = 6$

$7 - \dots = 5$

$\dots - 6 = 3$





# Отгадайте загадку.

Заблудилась я с лукошком  
И увидела избушку.

Там живет семья лесная:

А какая?

Ты их знаешь? Три

В какую сказку мы отправляемся в путешествие?



Маша зашла в избушку и увидела на столе  
3 тарелки.

На столе стояло столько же тарелок,  
сколько было ложек.






Столько же ...





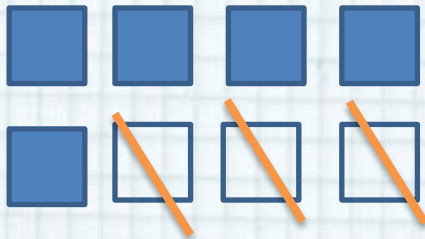
# Поровну...





Маша увидела в спальней комнате медведей на большой кровати 4 подушки.  
— Маше нужно сделать так, чтобы подушек было на 3 меньше, как на маленькой кроватке.

Сколько квадратов я должна выложить во второй ряд? Как это сделать?



Что мы сегодня будем учиться делать на уроке?



Объясни по рисунку, как составлены каждая схема и каждое равенство.

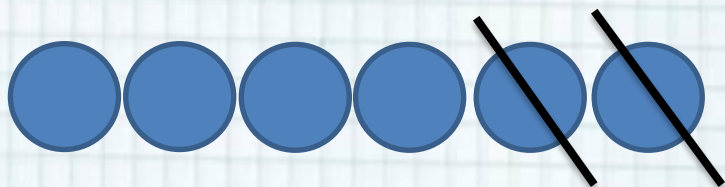


Столько же.  
Сколько ... ?  
 $4 = 4$


На 1 меньше, или  
столько же без одного.  
Сколько ... ?  $8 - 1 = \square$



# Задача № 1 с. 7

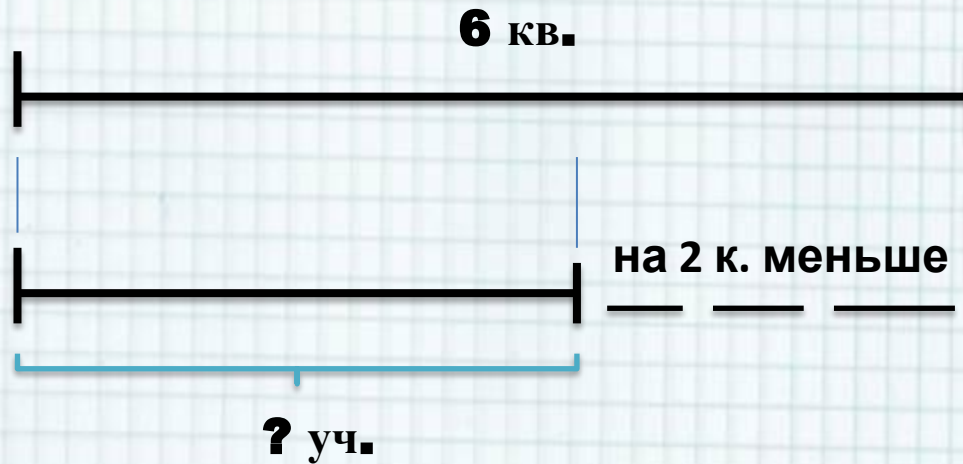


на **2** меньше или столько же  
без двух






# Задача № 1 с. 7



$$6 - 2 = 4 \text{ (к.)}$$

Ответ: 4 кругов.





Ч.  
К.  
С.

2. Узнай, сколько стаканов воды входит в кувшин, а сколько — в самовар.



5 стаканов.



Столько же.



На 4 больше.

$$5 + 4 = 9 \text{ (ст.)}$$


Ответ: **5** стаканов в кувшине и **9** стаканов в самоваре.



СРАВНИ:




# Оцени себя





Закончи предложение:



Я научился...

Мне было сложно...

Я смог...



# Рефлексия



Валя нарисовала 5 красных треугольников, а синих на 2 меньше. Сколько синих треугольников она нарисовала?





Вы можете использовать  
данное оформление  
для создания своих презентаций,  
но в своей презентации вы должны указать  
источник шаблона:

Фокина Лидия Петровна  
учитель начальных классов  
МКОУ «СОШ ст. Евсино»  
Искитимского района  
Новосибирской области

Сайт <http://pedsovet.su/>

**СПАСИБО АВТОРАМ ФОНОВ И КАРТИНОК**



## Интернет-ресурсы:

Школьный клипарт <http://s3.pic4you.ru/allimage/y2013/10-24/12216/3925122.png>

Линейки <http://s1.pic4you.ru/allimage/y2012/08-20/12216/2356205.png>

Лист в клеточку <http://s1.pic4you.ru/allimage/y2012/08-20/12216/2356208.png>

Скрепка [http://img-fotki.yandex.ru/get/6610/134091466.1c/0\\_8f975\\_cc74afe5\\_S](http://img-fotki.yandex.ru/get/6610/134091466.1c/0_8f975_cc74afe5_S)

Циркуль [http://img-fotki.yandex.ru/get/6521/108950446.113/0\\_cd1e6\\_7c1b8dea\\_S](http://img-fotki.yandex.ru/get/6521/108950446.113/0_cd1e6_7c1b8dea_S)

