

Тема урока:

**Задачи на увеличение и  
уменьшение числа на  
несколько единиц.**

**Выполнила: учитель начальных классов  
Ефремкова Т.А.**





# Игра «Как живете?»

Дети, как живёте? ("Вот так!")

- Как идёте?
- Как бежите?
- А как спите?
- Как берёте?
- А даёте?
- А грозите?
- Как смеётесь?
- А математику как знаете?
- Замечательно!

# Письмо

- Здравствуйте дорогие ребята. Хочу рассказать вам свою грустную историю. Я рос маленьким беззаботным и ленивым ребенком. Я очень не любил учиться. Пришла злая ведьма. Вот она. И заколдовала меня. Теперь я выгляжу так. Никто никогда не скажет, что я молод и красив. Но это колдовство можно разрушить. Для этого я должен научиться решать задачи: «Задачи на увеличение (уменьшение) числа на несколько единиц». Только вы можете мне помочь. Помогите мне, пожалуйста.



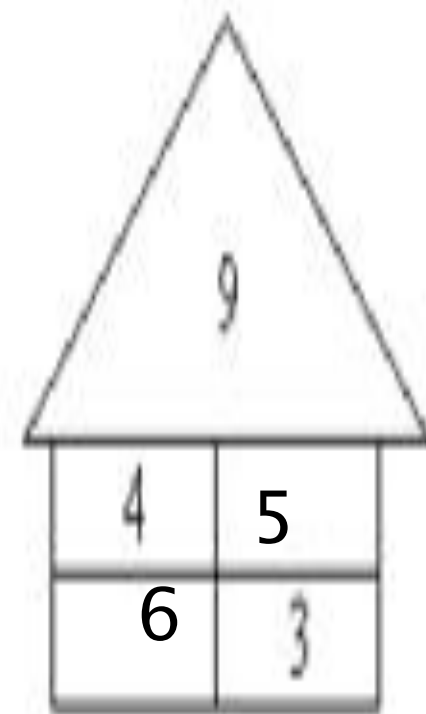
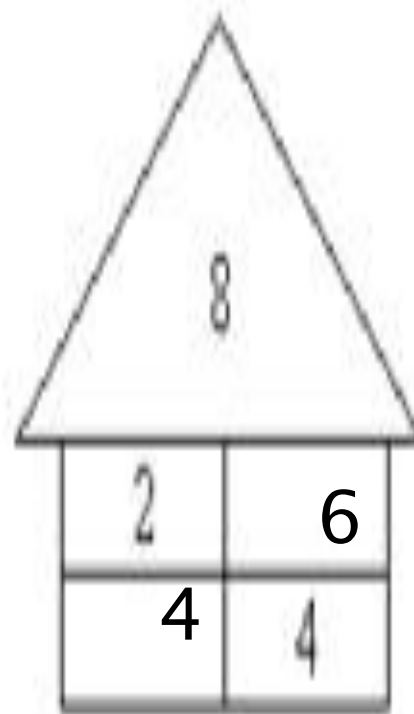
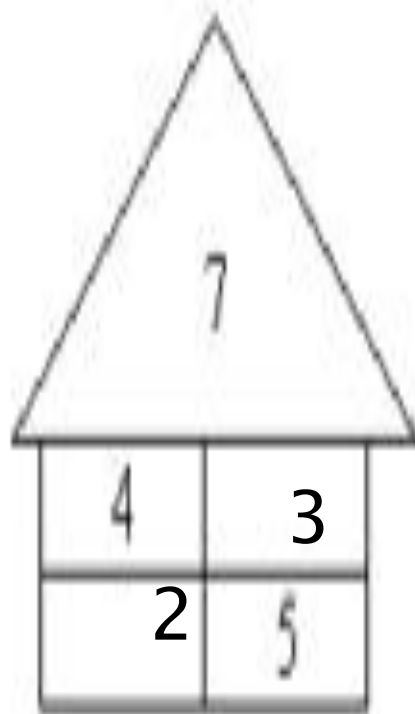
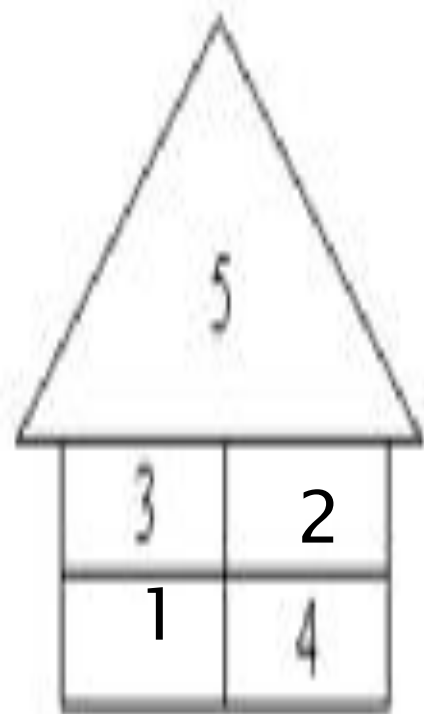
# План действий

1. Поход через волшебный лес
2. Встреча с друзьями
3. Разрушение злых чар
4. Знакомство с новым другом
5. Прощание с друзьями.

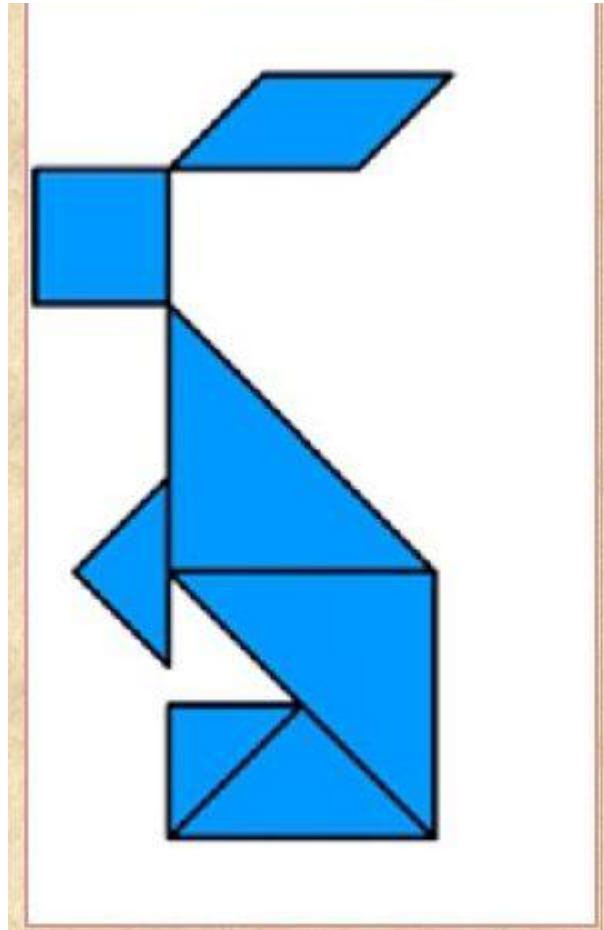


*Ваш Большой Мыш*

# Игра «Назови соседа»



# Игра «Собери зайку»



**Из каких частей состоит задача?**





# Физминутка






« Вы работали отлично, отдохнуть пора сейчас.  
И зарядка к вам привычно на урок приходит в  
класс»





«Утром бабочка проснулась, улыбнулась,  
потянулась!

Раз – росой она умылась, два – изящно  
покружилась,



Три – нагнулась и присела, на четыре улетела».







$$5 + 2 = 7$$



$$4 - 1 = 3$$


# Физминутка

В темном лесу есть избушка. (*Шагаем*)  
Стоит задом наперед. (*Поворачиваемся*)  
В той избушке есть старушка. (*Грозим пальцем*)  
Бабушка Яга живет. (*Грозим пальцем другой руки*)  
Нос крючком, (*Показываем пальчиком*)  
Глаза большие, (*Показываем*)  
Словно угольки горят. (*Покачиваем головой*)  
Ух, сердитая какая! (*Бег на месте*)  
Дыбом волосы стоят. (*Руки вверх*)







# Игра «Кого больше?»

На поляне сидело 6 енотов, а зайцев на 2 больше. Сколько зайцев сидело на поляне?



$$6 + 2 = 8$$

**Оцени свою работу**







**Спасибо!  
Вы все  
молодцы!**