

Задачи на увеличение числа на несколько единиц (с двумя множествами предметов).

Автор: учитель начальных классов МОУ СОШ №24
Столбовая Т.Е.

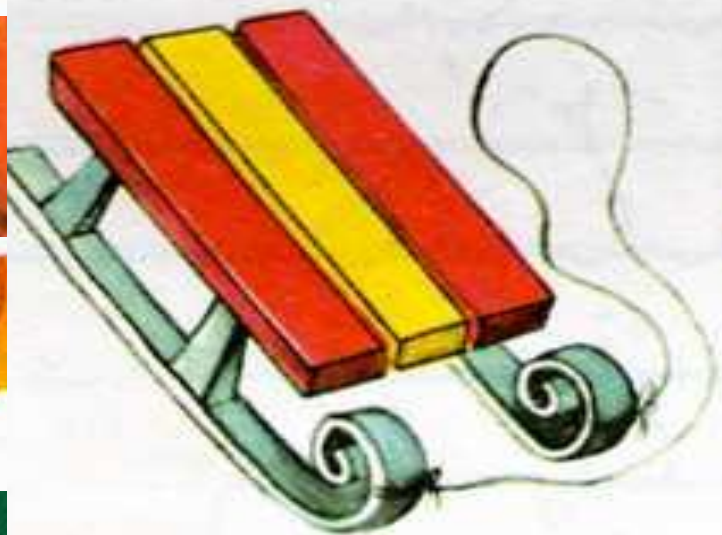
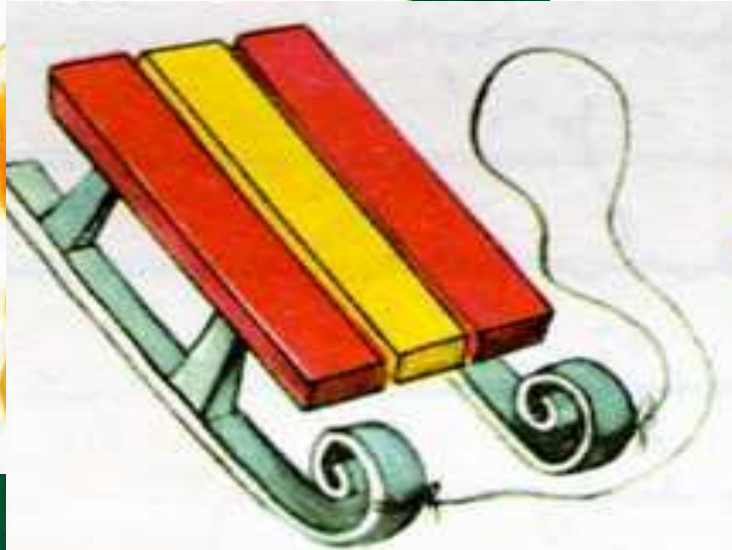
Персональная карточка №105-269-507.

«Найдите каждому торту свой кусок?»



Чистописание.

Обозначьте цифрой количество предметов.



Арифметический диктант. (в тетрадь записываются только ответы)

- К 5 прибавить 3.
- 9 без 3.
- 5 увеличить на 2.
- 10 уменьшить на 3.
- Найдите сумму 3 и 6.
- Первое слагаемое 4, второе слагаемое 1. Найдите сумму.
- У Кати было 9 игрушек, 5 она повесила на ёлку. Сколько ещё игрушек надо повесить Кате на ёлку?
- У Коли 4 мяча, а у Саши на 3 мяча меньше. Сколько мячей у Саши?

- Жёлтым карандашом обведите в кружок числа – близнецы.
- Красным карандашом обведите в кружок наименьшее однозначное число.
- Синим карандашом обведите в кружок наибольшее однозначное число.
- Зелёным карандашом обведите в кружок число, которое на 1 меньше от второго числа в ряду.
- Сверьте диктант со слайдом.

8

6

7

7

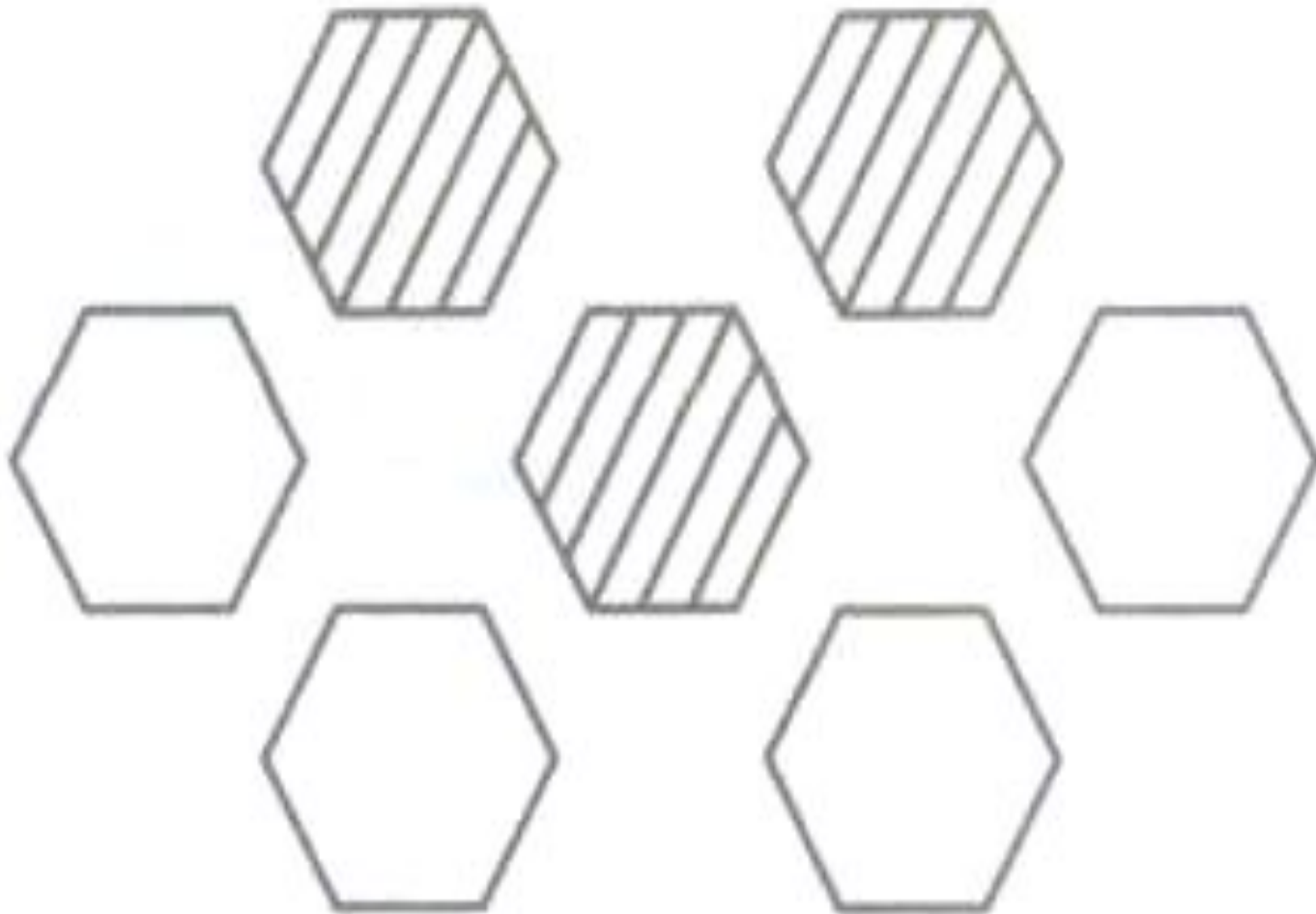
9

5


4

1


Работа в тетради и на доске. Составляем и решаем выражения на вычитание.



Работа в тетради и на доске. Составляем и решаем выражения на сложение.



Из каких геометрических фигур состоит человек.



Работа по учебнику. Решаем задачи.


Задача № 2.

2. На столе 8 вилочек, а ложек на 1 больше.
Поставь вопрос и реши задачу.

Сколько ложек на столе?

Стр.6.

Заселяем домики.



Задача № 3.

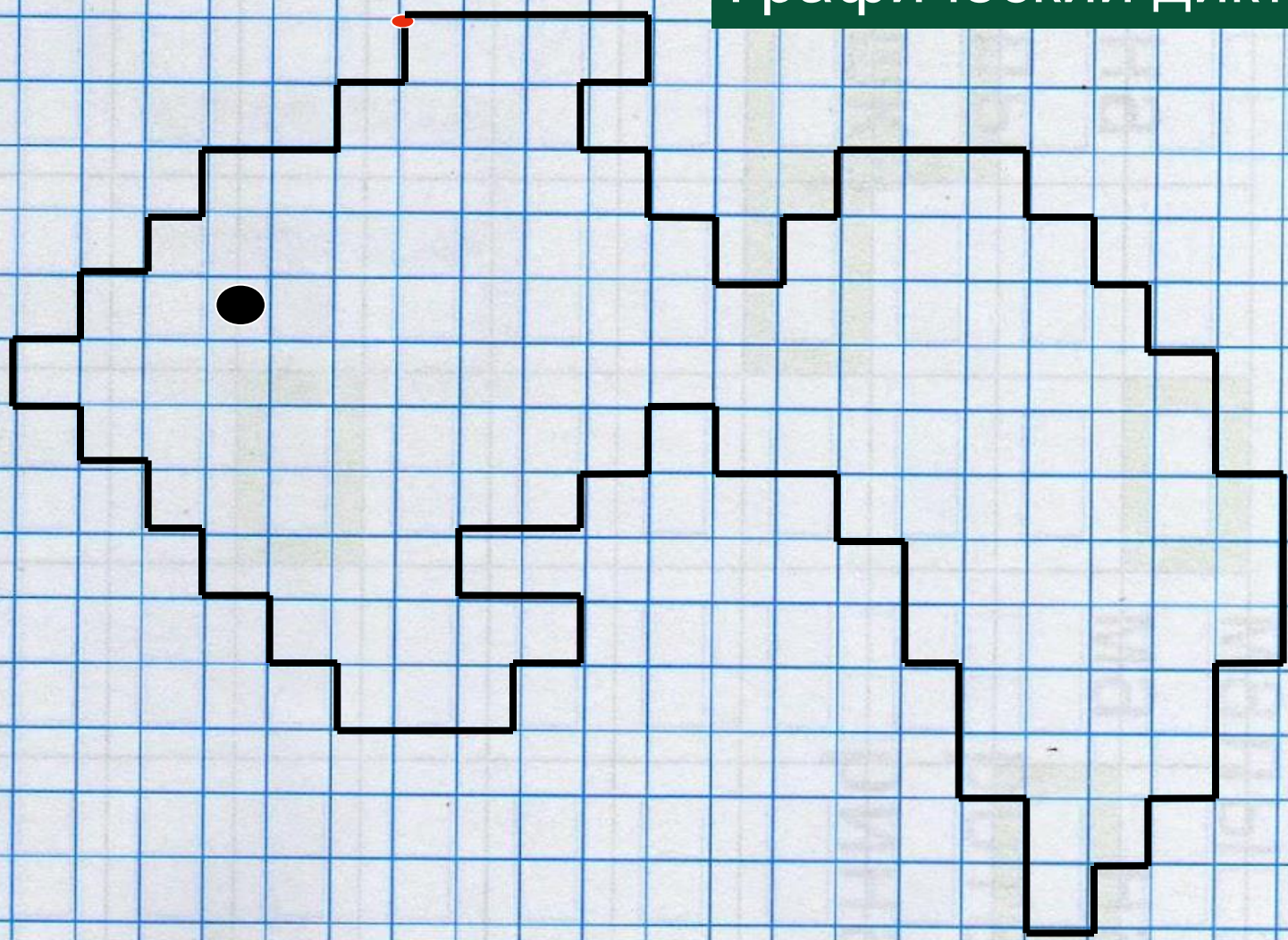
3. У Лены



а у Кати на 2 значка больше. Сколько ...?

Сколько значков у Кати?

Графический диктант.



Литература:

- М.И.Моро, М.И.Бантова; Учебник «Математика» 1 класс, 2-я часть, Москва, «Просвещение», 2010год.
- М.И.Моро, С.И.Волкова. Рабочая тетрадь по математике 1 класс, 2-я часть, Москва, «Просвещение», 2010год.
- Е.Белозерцева, Д.Белозерцев Иллюстрации «Складываем и вычитаем». Москва, ЭКСМО 1, 2002
- Е.Белозерцева, Д.Белозерцев «Знакомимся с клеточками». Москва, ЭКСМО 1, 2002
- www.vesna_d@mail.ru
- Lenagold.ru