




Задачи повышенной трудности по математике 1 класс

Подготовила учитель начальных классов
Надежина О.А.



“МАТЕМАТИКА ОТКРЫВАЕТ СВОИ
ТАЙНЫ ТОЛЬКО ТОМУ, КТО
ЗАНИМАЕТСЯ ЕЮ С ЧИСТОЙ
ЛЮБОВЬЮ, РАДИ ЕЕ
СОБСТВЕННОЙ КРАСОТЫ”

АРХИМЕД



**Гусь весит 3 кг.
Сколько он будет весить, если
встанет на одну ногу?**

ОТВЕТ


3 КГ



Сколько ушей у 5 мышей?

ОТВЕТ

10



**У трех братьев по одной сестре.
Сколько всего детей в семье?**



ОТВЕТ

ЧЕТВЕРО

**Что тяжелее — один кг ваты или
один кг железа?**



ОТВЕТ

**ВЕСЯТ
ОДИНАКОВО**

**В одной семье два папы и два сына.
Сколько всего людей?**



ОТВЕТ

**3 ЧЕЛОВЕКА:
ДЕДУШКА,
ОТЕЦ, СЫН**

**Летела стая гусей:
один гусь впереди и два позади,
один позади и два впереди,
один гусь между двумя и три в ряд.
Сколько было всего гусей?**



ОТВЕТ

3


Продолжите ряд чисел

1 3 5 7... 9 11 13

40 38 36 34 ... 32 30 28

11 22 33 44... 55 66 77

С З Ж



ОТВЕТ

СТРИЖ

ВИЗНА

ОТВЕТ

ВИТРИНА



ЗА



ОТВЕТ

ЗАДАЧА

Волшебный квадрат

	7	
	1	3
3	1	

Волшебный квадрат

1	7	1
5	1	3
3	1	5

Молодцы!