

# Задачи и примеры

**На сколько 25  
больше 5?**

**У Пети 15 марок, у**

**Саши – 5 марок.**

**Сколько марок у**

**Саши и Пети?**

**У Пети 15 марок, у  
Саши – 5 марок. На  
сколько марок у  
Саши меньше, чем у  
Пети?**

**У Саши – 5 марок, у  
Пети на 10 марок  
більше. Скільки  
марок у Пети?**

**Найди разность  
чисел 70 и 35.**

**Найди сумму чисел  
16 и 4.**








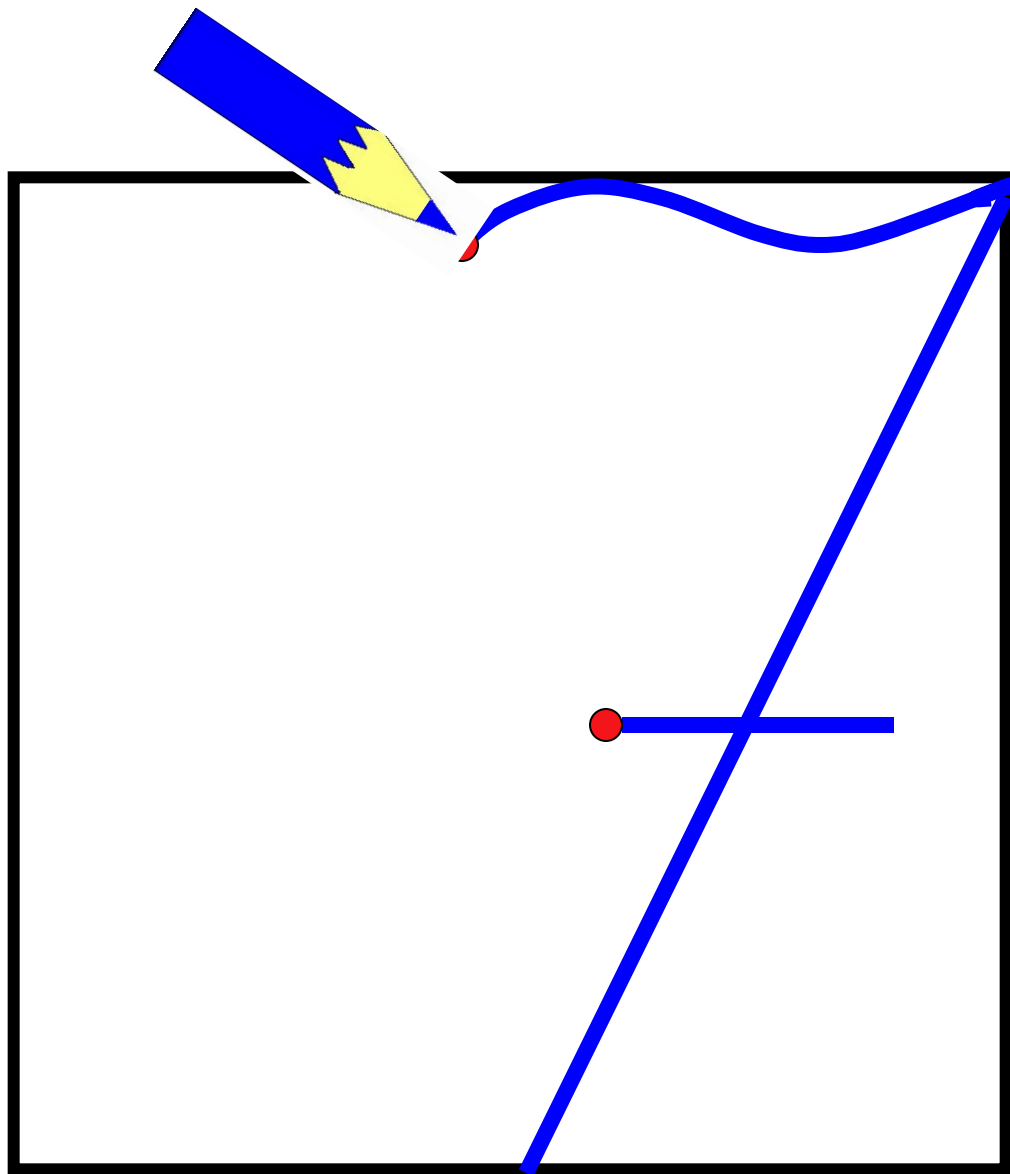
**Лене 15 лет, а Кате –  
8 лет. На сколько лет  
Лена старше Кати?**


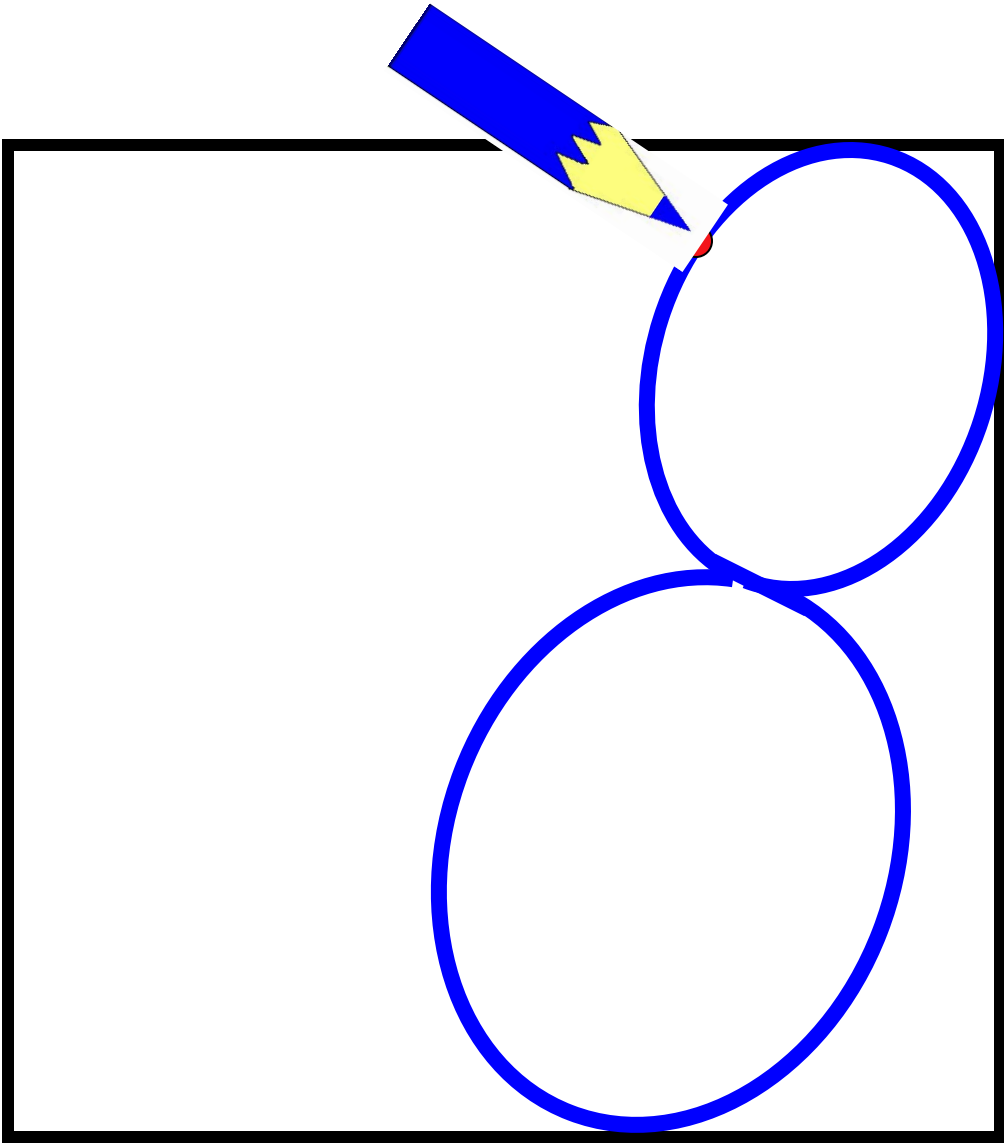


**Уменьши 15 на 7.**

# Математический диктант

20; 20; 10; 15; 35; 20; 7; 8.





# Помоги Незнайке –

## ВЫЧИСЛЯЙ УСТНО (№1с.22)

$$40 + 5 = 45$$

$$40 - 5 = 35$$

$$45 + 30 = 75$$

$$35 - 30 = 5$$

$$40 + 35 = 75$$

$$40 - 35 = 5$$

$$45 + 5 = 50$$

$$45 - 5 = 40$$

$$50 + 30 = 80$$

$$40 - 30 = 10$$

$$45 + 35 = 80$$

$$45 - 35 = 10$$





	16	2
	8	
14		

КЛЮЧ



14 24 42 23





*	16	2
	8	
14		

КЛЮЧ



5 9 6 4 7





6	16	2
	8	
14	*	

КЛЮЧ



5 9 10 4 0







6	16	2
	8	
14	0	*

КЛЮЧ



5 12 10 4 0





6	16	2
*	8	
14	0	10

КЛЮЧ



5 12 6 4 0





6	16	2
4	8	*
14	0	10

КЛЮЧ



5 12 6 4 0





6	16	2
4	8	12
14	0	10

КЛЮЧ



**Молодцы!**



Выбери правильное решение.

1. В новогодней гирлянде 90 фонариков: большие, средние и маленькие. Больших фонариков 30, средних 20. Сколько маленьких фонариков в гирлянде?



$$1) 30 - 20 = 10 \text{ (ф.)}$$
$$2) 90 - 10 = 80 \text{ (ф.)}$$

$$1) 30 + 20 = 50 \text{ (ф.)}$$
$$2) 90 - 50 = 40 \text{ (ф.)}$$

Выбери правильное решение.

5\*. В вазе было 20 конфет. Сначала Валя съела несколько конфет, а затем Юра съел 4 конфеты. После этого в вазе осталось 13 конфет. Сколько конфет съела Валя?

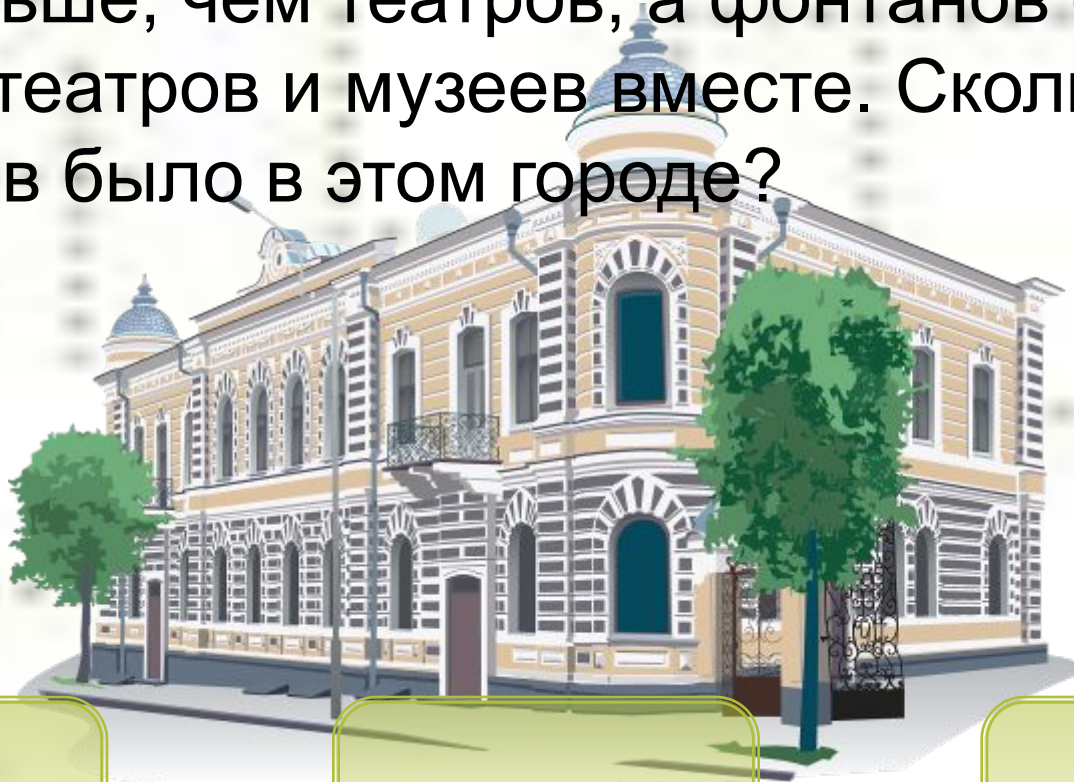


- 1)  $13 - 4 = 9$  (к.)
- 2)  $20 - 9 = 11$  (к.)

- 1)  $13 + 4 = 17$  (к.)
- 2)  $20 - 17$  (к.)

Выбери правильный ответ.

6. В большом городе было 10 театров, музеев на 5 меньше, чем театров, а фонтанов столько, сколько театров и музеев вместе. Сколько фонтанов было в этом городе?



30 (ф.)

15 (ф.)

20 (ф.)

Выбери правильный ответ.

7. За один день в лечебнице для животных на приёме побывало 20 собак, а кошек на 10 больше. Сколько всего животных было в этот день в лечебнице?



30 (ж.)

(40 ж.)

(50 ж.)



Выбери правильный ответ.

8. Закладывая сад, посадили 20 яблонь, груш на 10 меньше, чем яблонь, а слив столько, сколько яблонь и груш вместе. Сколько слив посадили в этом саду?

15 (сл.)

25 (сл.)

30 (сл.)



Выбери правильный ответ.

9. На большой фотографии Катя насчитала 6 взрослых человек, а детей на 4 больше. Сколько всего человек было на этой фотографии?

10 (ч.)

16 (ч.)

14 (ч.)



Выбери правильный ответ.

10\*. У брата было 7 орехов и несколько орехов у сестры. После того, как брат отдал сестре 2 ореха, орехов у них стало поровну. Сколько орехов было у сестры сначала?



2 (ор.)

3 (ор.)

1 (ор.)