


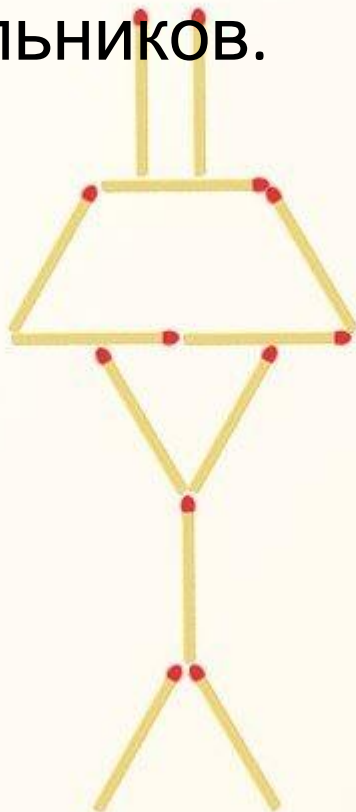
# Задачи со спичками (палочками)



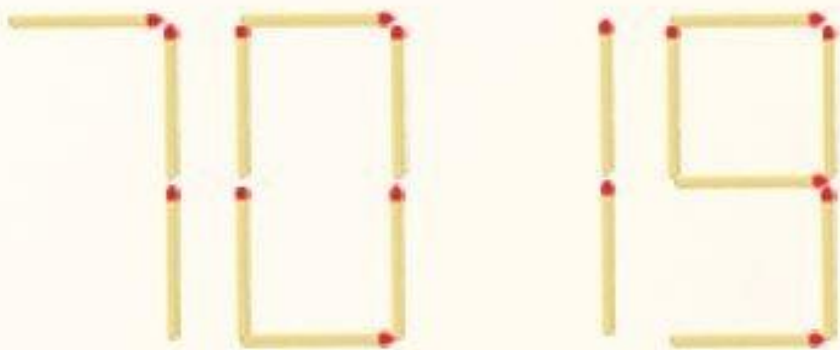
Интеллектуальный  
кружок

# Треугольники из лампы

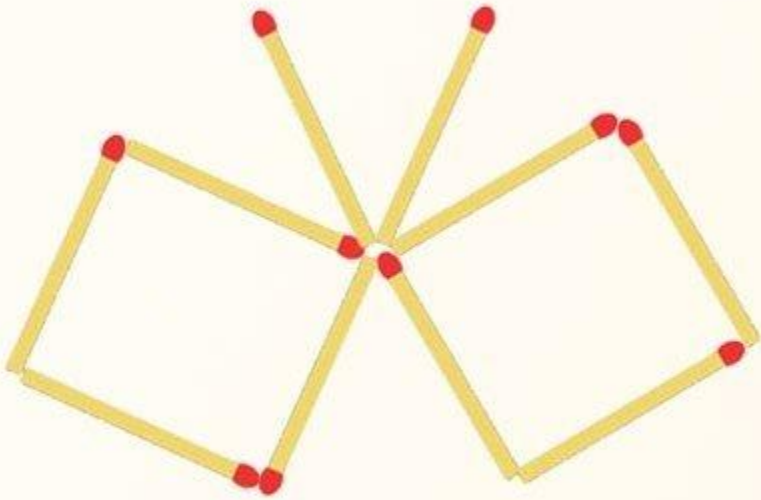
На рисунке из спичек сложена фигура, которая похожа на настольную лампу. Переложите 3 спички так, чтобы получить только 5 треугольников.



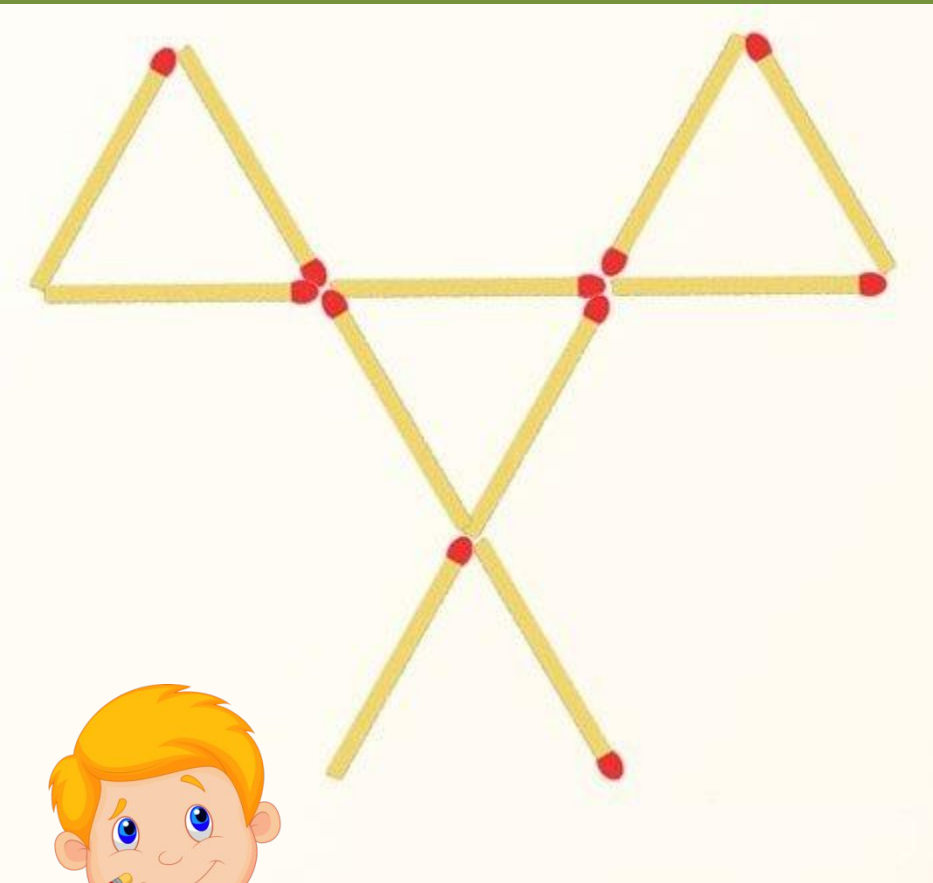
На рисунке из спичек выложено число 7019.  
Переложите 1 спичку так, чтобы получить  
наибольшее возможное число.



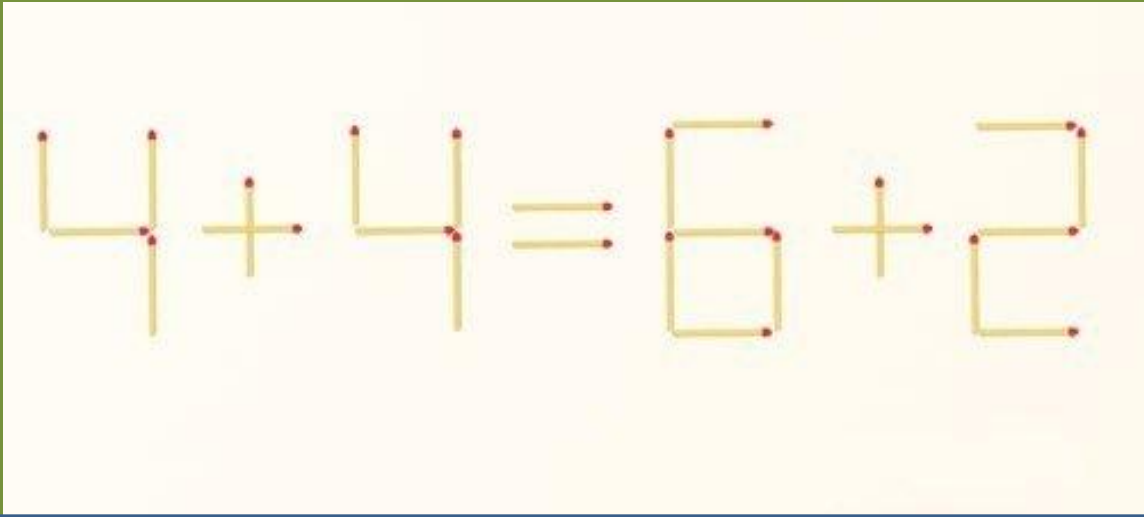
Из 10 спичек сделана бабочка. Переложите 3 спички так, чтобы бабочка поменяла свое направление.



На рисунке из спичек выложено 3 целых  
треугольника и 2 дополнительных спички.  
Переложите 2 спички так, чтобы осталось только 3  
треугольника без лишних спичек.



Переложите 2 спички так, чтобы получить другое  
верное равенство.



ССЫЛК

И:

[https://ds03.infourok.ru/uploads/ex/0cb7/0003a2ae-b957e0ee/hello\\_html\\_7b3b4ab6.png](https://ds03.infourok.ru/uploads/ex/0cb7/0003a2ae-b957e0ee/hello_html_7b3b4ab6.png)

[http://img0.liveinternet.ru/images/attach/c/6/124/257/124257472\\_4543971.png](http://img0.liveinternet.ru/images/attach/c/6/124/257/124257472_4543971.png)

[картинки задачи со  
спичками](#)

Презентацию подготовила  
**Слободян Е.А.**,  
учитель начальных классов  
МБОУ «СОШ №2 им. Г.В.  
Кравченко»  
г. Вуктыл  
Республика Коми