



Задачи в стихах «Сложение в пределах 10»

Подготовила
учитель математики МКОУ
«Хотьковская СОШ»
Думиничского района Калужской
области

[Наталья Николаевна Коломина](#)



По тропинке
зайчик шел,
подосиновик
нашел.
Походил вокруг
осин



1 = 1 + 1

1 =



Слон, слониха, два
слоненка

Шли толпой на
водопой.

А навстречу три
тигрёнка

С водопоя шли
домой. $1 + 1 + 2$

Сосчитай $4 + 3 = 7$

поскорей



Растеряла крольчиха
крольчат,
А крольчата лежат и
молчат:

1 – за ветлой, 2 – за
метлой,

1 – под листом, 2 – под
кустом.

Посчитай, сколько крольчат
молчали:



$$1 + 2 + 1$$

$$+ 2 = 6$$

Сколько вы насчитали



Щука в озере жила.
Червячка с крючка
сняла.

Наварила щука щей,
Пригласила трех
ершей.

Говорили всем ерши:

- Щи у щуки хороши!

И только было всего



$$1 + 3$$

$$= 4$$



Жил в реке один
налим,
Два ерша дружили
с ним.

Прилетали к ним
три утки
По четыре раза в
сутки



ли их считать:
два, три,

$$1+2+$$

четыре, пять.

$$3=6$$

Сколько всего рыб



В небесах летели
птицы

Аист, ворон и синица,
2 весёлых снегиря,
3 громаднейших гуся.
Кто-то с севера на юг,
Кто-то с юга прямо.
Птиц мы вместе



таем,

стливой дороги

аем.

$$1 + 1 + 1 +$$

$$2 + 3 = 8$$



На траве коты
сидели:
Черный, рыжих два и
белый.
Был еще и серый
кот.

Кто нам всех котов




скажи? -?

$$1 + 2 + 1$$

$$+ 1 = 5$$



Вдоль овражка шла
фуражка,
Две косынки, три
корзинки,
А за ними шла
упрямо
Белоснежная
пчелка.



Сколько всего шло
друзей?

$$1 + 2 +$$

$$1 = 4$$

Отвечай поскорей!



Вот задумал еж
друзей
пригласить на
юбилей.

Пригласил 2
медвежат,
3 зайчат и 5



зайчат.

Помогите

медвежатам поскорей,

скажете ежу сколько у него друзей.

$$1 + 2 + 3 = 6$$

$$1 + 5 = 6$$



На подстилке 2
птенца,
2 пушистых близнеца.
И еще готовы 5
из скорлупок
вылезать.

Сколько станет птиц в



г...е?

Г...ите, дети, мне!

$$2+5$$

$$=7$$



В деревне у
бабушки
2 поросенка,
Белая козочка
и 2 индюшонка.
Если нам их
сосчитать,



их будет
.....

$$2 + 1 +$$


$$2 = 5$$



Мы пошли
тихонько в сад
И зарыли целый
клад:

2 стекляшки, 2
бумажки

И из глины



лад.

$2+2+$

ко всего


$1=5$

предметов

Варыли дети?



Два щенка-
баловника
Бегают, резвятся.
К шалунишкам два
друга
С горки с лаем
мчатся.


Сколько же всего будет
у них друзей?
 $2+2$
ей.

$=4$
Сколько же всего



На большом
диване в ряд,
Куклы Танины
сидят:

Два медведя,
Буратино
И веселый
Чиполлино,



два медвежонок, и
Буратино,

$$2 + 1 + 1 + 1$$

и Чиполлино
— это один

$$+ 1 + 1 = 7$$

совёнок.



Кормушку для птиц
Мы к зиме смастерили,
Ягоды, зерна в нее
положили.

Гости себя не заставили
ждать –
стали мы птиц на кормушке
считать:

Два свиристея, четыре



Сорока, три гиря да один

$$2+4+3+$$

$$1=10$$

Сколько всех птиц?

Отвечайте скорее!



- https://oformi-foto.ru/png_tmp/25015.png
- <https://i.pinimg.com/564x/08/63/20/086320f5673cee4d6834741a025cb48b.jpg>
- <http://admbel.ru/upload/iblock/9fe/9fe1076ea739581f1643d82099aaf326.png>
- <https://infourok.ru/zadachi-v-stihah-klasse-1361499.html>

