

# Устный счёт 1 класс

# Задачи в стихах



**Красная Шапочка шла по тропинке.**

**Семь пирожков в плетеной  
корзинке**

**Бабушке внучка на праздник**

**Но по дорожке часть разда**

**Зайчику,**

**ёжику,**

**мышке и белочке.**

**Сколько гостинцев**

**осталось у девочки**

**3**



Внуку Шуре добрый дед  
Дал вчера семь штук  
конфет.  
Съел одну конфету внук.  
Сколько же осталось шту

6




**Дружно муравьи живут и без дела не  
снут:**

**Два несут травинку, три несут былинку.**

**Пять несут от ёлки колючие иголки.**

**Сколько муравьишек занято работой?**



**10**

В летний полдень под  
сосной  
Ёж нашёл сюрприз  
лесной:

Три лисички, пять опят  
Под сосной в лесу стоят.  
И ещё одна волнушка  
Показалась на опушке.  
Кто ответ нам дать готов,  
Сколько ёж нашёл  
грибов?



9



**«Четыре сыроежки,  
два рыжика  
и груздь.  
Собрала грибов я много  
А подсчитать боюсь!»**

**7**



На листке сидит лягушка,  
Похвальноется подружке:  
«Съела пять я комаров,  
Ну, и столько же жуков»  
Как ей бедной  
подсчитать,  
Сколько будет пять да  
пять?

10



**Вот и осень наступает.  
Орехи белка запасает:  
Десять орешков с куста сорвала,  
Из них четыре в дупло унесла.  
Вы сидите, не зевайте,  
Сколько осталось снести  
посчитайте?**

**6**





Во дворе играли дети.  
Всех их вместе было  
десять.  
Семь мальчишек среди  
них. А девчонок?  
Сколько их?

3



Две весёлые мартышки  
Покупать ходили  
книжки.

И купили книг по пять,  
Чтобы было что читать.



Только глупые

мартышки

считать не могут

книжки.

10



Десять попугае на дереве  
сидят,  
Десять попугаев о разном  
говорят.

Один попугаев спросили у

:

- Сколько на

есть,

2


Куль вос

г?



Четырнадцать зёрнышек мышка нашла.  
Четыре из них кроту отдала.  
А те, что остались, в чулане закрыла,  
И трогать мышатам она запретила.  
Мышата лишь в щелочку смотрят на них.  
Считают и спорят: ну сколько же их?

10



**Таня в лукошко грибы  
собрала.**

**В подарок друзьям своим  
принесла**

**Два Сережке, два Антошке,  
И еще два брату Лёшке?**

**Ты сиди, не зевай!**

**Все грибы пересчитай!**

**6**



# 6




**Дождик, лей веселей!  
Теплых капель не желей!  
Две Валюше, три Катюше  
И ещё одну Андрюше.  
Ну, а вы, друзья,  
считайте,  
Сколько капель  
отвечайте!**



На тарелке восемь груш,  
Два персика и груша.  
Сколько фруктов, сосчитай.  
Съест сейчас Андрюша?

11



В парк на прогулку Оля ходила,  
В парке птичек разных кормила.  
Восемь синичек да  
Сколько всего?  
Отвечайте, друзья


10





Шесть орешков мама-свинка  
Для детей несла в корзинке.  
Свинку ёжик повстречал  
И ещё четыре дал.  
Сколько орехов свинка  
Деткам принесла в корзинке?

10



**В карманах у Нины  
Лежали мандарины:  
В левом – пять, а в правом –  
два.**

**Три штуки Нина отдала.  
Сколько мандаринов  
Осталось у Нины?**

**4**



**Мы к зиме смастерили,  
Ягоды, зерна в нее положили.  
Гости себя не заставили ждать –  
Стали мы птиц на кормушке  
считать:**

**10**

**Два свиристея, четыре  
синицы,  
Три снегиря да один во  
Сколько всех птиц?  
Отвечайте скорей!**



**Решила я листья в букет  
собирать,  
Листья в букете стала  
считать:  
С клена два листочка  
Восемь липа уронила  
Шесть береза потеряла  
Листья все я сосчита**

**16**



**Были вишенки у Саши.  
Угощал он всех друзей:  
По две вишни дал Наташе,  
Васе, Игорю и Маше,  
И еще две взял Андрей.  
А сколько у Саши вишенок  
было?  
Кто посчитал? А то я забыла.**

**10**



Собирала Анечка на лугу ромашки.  
Семь подарит мамочке,  
Три - сестрёнке Даше.  
И ещё для бабушки пять синих  
васильков.

Сколько всего цветов? Ответить



15



**Белка на ёлке грибочки сушила,  
Песенку пела и говорила:  
«Мне зимой не знать хлопот  
Потому что есть грибок:  
Три волнушки, два маслёны  
Три веселеньких опёнка.  
Подосиновик велик,  
Этим он и знаменит!»  
Кто ответить нам готов?  
Сколько было всех грибов**

**9**



# Глупый маленький мышонок

В сыре дырочки считал  
Сверху три и снизу три,  
Слева три и справа три  
Сколько дырочек всего  
Кто сосчитает за него?

# 12

