

Домашняя работа:




Высота Троицкой башни 80 м, высота Кутафьей башни $13\frac{5}{10}$ м, а


Средней Арсенальной $38\frac{9}{10}$ м.

На сколько метров Троицкая башня выше, чем Кутафья и Арсенальная вместе?


Троицкая



Кутафья



Средняя Арсенальная



Самостоятельная работа:

№ 1

Выполните сложение:

а) $4\frac{5}{17} + \frac{8}{17}$;

в) $13 + 12\frac{11}{12}$;

д) $3\frac{12}{23} + 4\frac{11}{23}$;

б) $3\frac{5}{21} + 4\frac{8}{21}$;

г) $9\frac{5}{6} + 7$;

е) $7\frac{15}{19} + 4\frac{14}{19}$.

№ 2

Выполните вычитание:

а) $9\frac{11}{12} - 3\frac{10}{12}$;

в) $11 - \frac{5}{18}$;

д) $8\frac{3}{17} - 4\frac{11}{17}$;

б) $9\frac{11}{15} - 4$;

г) $21 - 8\frac{7}{15}$;

е) $10\frac{15}{16} - 3\frac{15}{16}$.