



Задания от Буратино

Математика
1-2 класс

*Технологический приём
«Волшебная труба»*

УМК любой




Посчитай:

$$9 + 8 =$$

$$4 + 11 =$$

$$18 - 9 =$$

$$15 - 8 =$$




Посчитай:

$$6 + 6 =$$

$$7 + 8 =$$

$$16 - 3 =$$

$$20 - 5 =$$




Посчитай:

$$7 + 7 =$$

$$6 + 5 =$$

$$12 - 6 =$$

$$17 - 9 =$$




Сравни:

9 11 - 2

9 10 - 0

1 дм 9 см

1 дм 10 см



Сравни:

ВЫХОД

$10 \quad 6 + 6$

$12 \quad 7 + 4$

$16 \quad 7 + 8$

$12 \quad 6 + 6$

